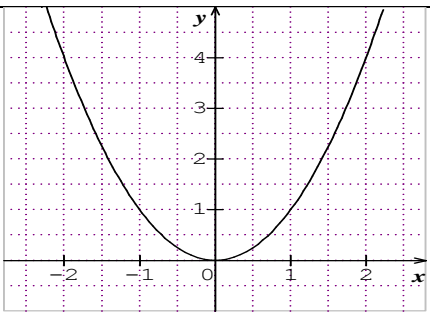
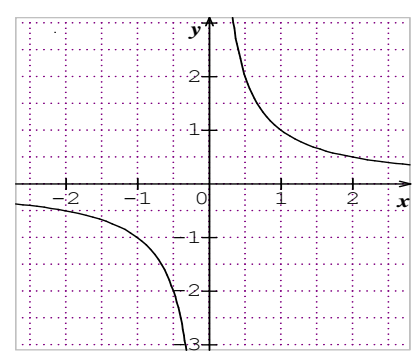




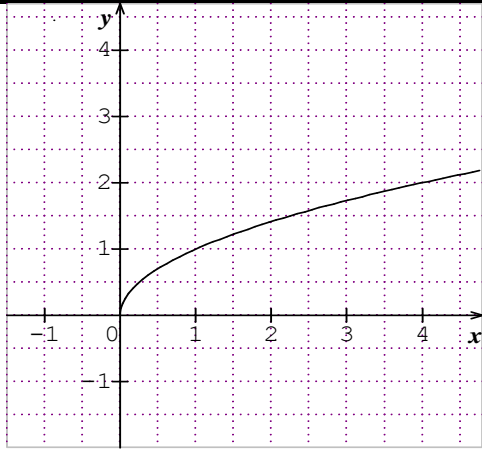


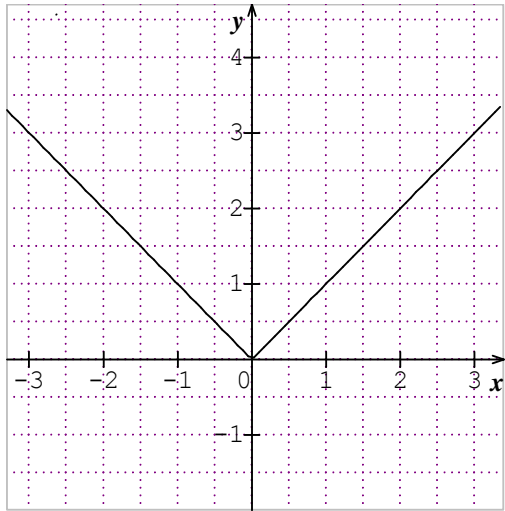
توجيهات وتعليقات	المدة	المحتوى المعرفي (كل الحصص عبارة عن تطبيقات)	مراحل الدرس									
	60د	<p>تطبيق 01:</p> <p>1. ذكر باتجاه تغير دالة معرفة على مجال I من \mathbb{R}.</p> <p>2. ذكر باتجاه التغير والتمثيل البياني للدوال المرجعية التي درستها في السنة أولى ثانوي.</p>										
	60د	<p>حل التطبيق 01</p> <p>1. اتجاه تغير دالة معرفة على مجال I من \mathbb{R}.</p> <p>f دالة معرفة على مجال I من \mathbb{R}.</p> <p>◀ f متزايدة تماما على I يعني أنه من أجل كل عددين حقيقيين x_1 و x_2 من I، إذا كان $x_1 < x_2$ فإن:</p> $f(x_1) < f(x_2)$ <p>◀ f متناقصة تماما على I يعني أنه من أجل كل عددين حقيقيين x_1 و x_2 من I، إذا كان $x_1 < x_2$ فإن:</p> $f(x_1) > f(x_2)$ <p>◀ f ثابتة على I يعني أنه من أجل كل عددين حقيقيين x_1 و x_2 من I، $f(x_1) = f(x_2)$.</p> <p>ملاحظة: إذا كانت الدالة f متزايدة أو متناقصة على مجال I نقول أنها رتيبة على هذا المجال.</p> <p>2. التذكير باتجاه التغير والتمثيل البياني للدوال المرجعية التي درستها في السنة أولى ثانوي.</p>										
	60د	<table border="1"> <thead> <tr> <th>الدالة</th> <th>اتجاه التغير</th> <th>التمثيل البياني</th> </tr> </thead> <tbody> <tr> <td>الدالة مربع $f: x \mapsto x^2$</td> <td>f متناقصة تماما على المجال $]-\infty, 0]$ إذا كان $x_1 < x_2 \leq 0$، فإن $x_1^2 > x_2^2$ f متزايدة تماما على المجال $[0; +\infty[$ إذا كان $0 \leq x_1 < x_2$، فإن $x_1^2 < x_2^2$</td> <td></td> </tr> <tr> <td>الدالة مقلوب $f: x \mapsto \frac{1}{x}$</td> <td>f متناقصة تماما على المجال $]-\infty; 0[$ إذا كان $x_1 < x_2 < 0$، فإن $\frac{1}{x_1} > \frac{1}{x_2}$ f متناقصة تماما على المجال $]0; +\infty[$ إذا كان $0 < x_1 < x_2$، فإن $\frac{1}{x_1} > \frac{1}{x_2}$</td> <td></td> </tr> </tbody> </table>	الدالة	اتجاه التغير	التمثيل البياني	الدالة مربع $f: x \mapsto x^2$	f متناقصة تماما على المجال $]-\infty, 0]$ إذا كان $x_1 < x_2 \leq 0$ ، فإن $x_1^2 > x_2^2$ f متزايدة تماما على المجال $[0; +\infty[$ إذا كان $0 \leq x_1 < x_2$ ، فإن $x_1^2 < x_2^2$		الدالة مقلوب $f: x \mapsto \frac{1}{x}$	f متناقصة تماما على المجال $]-\infty; 0[$ إذا كان $x_1 < x_2 < 0$ ، فإن $\frac{1}{x_1} > \frac{1}{x_2}$ f متناقصة تماما على المجال $]0; +\infty[$ إذا كان $0 < x_1 < x_2$ ، فإن $\frac{1}{x_1} > \frac{1}{x_2}$		
الدالة	اتجاه التغير	التمثيل البياني										
الدالة مربع $f: x \mapsto x^2$	f متناقصة تماما على المجال $]-\infty, 0]$ إذا كان $x_1 < x_2 \leq 0$ ، فإن $x_1^2 > x_2^2$ f متزايدة تماما على المجال $[0; +\infty[$ إذا كان $0 \leq x_1 < x_2$ ، فإن $x_1^2 < x_2^2$											
الدالة مقلوب $f: x \mapsto \frac{1}{x}$	f متناقصة تماما على المجال $]-\infty; 0[$ إذا كان $x_1 < x_2 < 0$ ، فإن $\frac{1}{x_1} > \frac{1}{x_2}$ f متناقصة تماما على المجال $]0; +\infty[$ إذا كان $0 < x_1 < x_2$ ، فإن $\frac{1}{x_1} > \frac{1}{x_2}$											



f متزايدة تماما على المجال $]0; +\infty[$
إذا كان $x_1 < x_2$ ، فإن $\sqrt{x_1} < \sqrt{x_2}$

دالة الجذر التربيعي

$$f : x \mapsto \sqrt{x}$$



f متناقصة تماما على المجال $]-\infty, 0]$
إذا كان $x_1 < x_2 \leq 0$ ، فإن $|x_1| > |x_2|$

دالة القيمة المطلقة

f متزايدة تماما على المجال $[0; +\infty[$
إذا كان $0 \leq x_1 < x_2$ ، فإن $|x_1| < |x_2|$

$$f : x \mapsto |x|$$

$$|x_1| < |x_2|$$

التمثيل البياني للدالة التآلفية في معلم هو مستقيم
معامل توجيهه a .

إذا كان $a < 0$ فإن f متناقصة تماما على \mathbb{R}

إذا كان $a > 0$ فإن f متزايدة تماما على \mathbb{R}

إذا كان $a = 0$ فإن f ثابتة تماما على \mathbb{R}

الدالة التآلفية

$$f : x \mapsto ax + b$$

تطبيق 02:

نعتبر الدالة f المعرفة على \mathbb{R} بـ: $f(x) = x^2 + 6x + 2$.

1. أحسب صور الأعداد 1، -2 و $\sqrt{3}$ بالدالة f .

2. أوجد سوابق العددين 2 و -7 بالدالة f .

3. بين أنه من أجل كل عدد حقيقي x : $f(x) = (x+a)^2 - 7$ حيث a عدد حقيقي يطلب تعيينه. هل

يقبل العدد (-8) سوابق بالدالة f ؟

4. أدرس اتجاه تغير الدالة f على كل من المجالين $[-3; +\infty[$ ، $]-\infty; -3]$.

حل التطبيق 02

1. حساب صور الأعداد 1، -2، $\sqrt{3}$ بالدالة f .

$$f(\sqrt{3}) = 11 + 6\sqrt{3}; f(-2) = -4; f(1) = 9$$

2. إيجاد سوابق العددين 2 و -7 بالدالة f .

- إيجاد سابقة العدد 2. من أجل ذلك نحل المعادلة $f(x) = 2$ ، تكافئ $x^2 + 6x = 0$ و منه $x = 0$

أو $x = -6$ إذا سوابق العدد 2 هي 0 و -6.

- إيجاد سابقة العدد -7. من أجل ذلك نحل المعادلة $f(x) = -7$ ، تكافئ $x^2 + 6x + 9 = 0$ تكافئ

$$(x+3)^2 = 0 \text{ و منه } x = -3 \text{ إذا سوابق العدد } -7 \text{ هي } -3.$$

3. تبيان أنه من أجل كل عدد حقيقي $x: f(x) = (x+a)^2 - 7$ حيث a عدد حقيقي يطلب تعيينه.

$$f(x) = x^2 + 6x + 2 = (x+3)^2 - 3^2 + 2 = (x+3)^2 - 7$$

لدينا:

$$\text{ومنه } a = -7$$

العدد (-8) يقبل سوابق بالدالة f إذا قبلت المعادلة $f(x) = -8$ حلول في \mathbb{R} . $f(x) = -8$ تكافئ

$$(x+3)^2 - 7 = -8 \text{ و هذا يكافئ } (x+3)^2 = -1 \text{ وبما أنه لا يوجد عدد حقيقي مربعه عدد سالب فإن المعادلة}$$

$f(x) = -8$ لا تقبل حلول في \mathbb{R} وعليه لا توجد سوابق للعدد (-8) بالدالة f .

4. دراسة اتجاه تغير الدالة على كل من المجالين $]-\infty; -3]$ ، $[-3; +\infty[$.

- على المجال $]-\infty; -3]$

ليكن x_1, x_2 عدنان حقيقيان من المجال $]-\infty; -3]$ حيث $x_1 < x_2 \leq -3$ بإضافة 3 نجد

$$x_1 + 3 < x_2 + 3 \leq 0 \text{ و بما أن الدالة مربع متناقصة تماما على المجال }]-\infty; 0] \text{ فإن:}$$

$$(x_1 + 3)^2 > (x_2 + 3)^2 \text{ بإضافة } -7 \text{ لطرفي المتباينة نجد: } (x_1 + 3)^2 - 7 > (x_2 + 3)^2 - 7$$

أي: $f(x_1) > f(x_2)$ ومنه الدالة f متناقصة تماما على المجال $]-\infty; -3]$.

- على المجال $[-3; +\infty[$

ليكن x_1, x_2 عدنان حقيقيان من المجال $[-3; +\infty[$ حيث $-3 \leq x_1 < x_2$ بإضافة 3 نجد

$$0 \leq x_1 + 3 < x_2 + 3 \text{ و بما أن الدالة مربع متزايدة تماما على المجال } [0; +\infty[\text{ فإن:}$$

$$(x_1 + 3)^2 < (x_2 + 3)^2 \text{ بإضافة } -7 \text{ نجد: } (x_1 + 3)^2 - 7 < (x_2 + 3)^2 - 7$$

أي: $f(x_1) < f(x_2)$ ومنه الدالة f متزايدة تماما على المجال $[-3; +\infty[$.

تطبيق 03:

$$\text{نعتبر الدالة } f \text{ المعرفة على }]-\infty; 2[\cup]2; +\infty[\text{ بـ } f(x) = \frac{3x-5}{x-2}$$

1. تحقق أنه من أجل كل x من $]-\infty; 2[\cup]2; +\infty[$ ، يكون: $f(x) = \frac{1}{x-2} + 3$

2. أدرس اتجاه تغير الدالة f على كل من المجالين $]-\infty; 2[$ و $]2; +\infty[$.

حل التطبيق 03:

1. التحقق أنه من أجل كل x من $]-\infty; 2[\cup]2; +\infty[$ ، يكون: $f(x) = \frac{1}{x-2} + 3$

من أجل كل x من $]-\infty; 2[\cup]2; +\infty[$ لدينا: $f(x) = \frac{3x-5}{x-2} = \frac{1+3(x-2)}{x-2} + 3 = \frac{1}{x-2} + 3$.

2. دراسة اتجاه تغير الدالة f على كل من المجالين $]-\infty; 2[$ ، $]2; +\infty[$.

- على المجال $]-\infty; 2[$

ليكن x_1, x_2 عدنان حقيقيان من المجال $]-\infty; 2[$ حيث $x_1 < x_2 < 2$ بإضافة -2 نجد

$0 < x_1 - 2 < x_2 - 2$ وبم أن الدالة مقلوب متناقصة تماما على المجال $]-\infty; 0[$ فإن:

$$\frac{1}{x_1 - 2} + 3 > \frac{1}{x_2 - 2} + 3 \text{ إضافة 3 لطرفي المتباينة نجد:}$$

أي: $f(x_1) > f(x_2)$ ومنه الدالة f متناقصة تماما على المجال $]-\infty; 2[$.

- على المجال $]2; +\infty[$

ليكن x_1, x_2 عدنان حقيقيان من المجال $]2; +\infty[$ حيث $2 < x_1 < x_2$ بإضافة -2 نجد

$0 < x_1 - 2 < x_2 - 2$ وبم أن الدالة مقلوب متناقصة تماما على المجال $]0; +\infty[$ فإن:

$$\frac{1}{x_1 - 2} + 3 > \frac{1}{x_2 - 2} + 3 \text{ إضافة 3 لطرفي المتباينة نجد:}$$

أي: $f(x_1) > f(x_2)$ ومنه الدالة f متناقصة تماما على المجال $]2; +\infty[$.

<p>الأستاذ:ياحي رشيد المستوى: سنة ثانية علوم تجريبية التاريخ: 2014/09/17 الزمن: 2سا الوسائل التعليمية: الكوس -الكتاب المدرسي.</p>	<p>ثانوية عبد المجيد علاهم الميدان:تحليل الوحدة التعليمية: الدوال العددية. الموضوع: عمليات على الدوال. • الكفاءات المستهدفة(المراد تحقيقها)</p>		
توجيهات وتعليقات	المدة	المحتوى المعرفي	مراحل الدرس



35

نشاط: نعتبر الدالتين f و g حيث: $f(x) = \frac{x^2 + 3x + 2}{x + 2}$ و $g(x) = x + 1$

1. أوجد مجموعة تعريف كلا من الدالتين f و g .
2. بين أنه من أجل كل عدد حقيقي x من \mathbb{R} فإن: $(x+2)(x+1) = x^2 + 3x + 2$.
3. بين أنه من أجل كل عدد حقيقي x من D_f فإن: $f(x) = x + 1$.
4. أحسب $g(-2)$ ، هل يمكن حساب صورة -2 بالدالة f (برر جوابك).
5. هل الدالتين f و g متساويتان؟
6. نعتبر الدوال f_1, f_2, f_3, f_4 و المعرفة على المجال $\mathbb{R} - \{-2\}$ كما يلي:
 $f_1(x) = f(x) + g(x)$ ، $f_2(x) = f(x) \times g(x)$ ، $f_3(x) = -2f(x)$ و $f_4(x) = g(x) + 1$
 - عين بدلالة x عبارة كل من $f_1(x)$ ، $f_2(x)$ ، $f_3(x)$ و $f_4(x)$.

التشخيص

و

الإكتشاف

البناء

40

1. إيجاد تعريف كلا من الدالتين f و g
 - الدالة f معرفة تكافئ $x + 2 \neq 0$ أي $x \neq -2$ ومنه $D_f = \mathbb{R} - \{-2\}$
 - بم أنه لا توجد قيمة ممنوعة للدالة g فإن: $D_g = \mathbb{R}$.
2. تبيان أنه من أجل كل عدد حقيقي x من \mathbb{R} فإن: $(x+2)(x+1) = x^2 + 3x + 2$
 - من أجل كل عدد حقيقي x من \mathbb{R} لدينا:
 $(x+2)(x+1) = x^2 + x + 2x + 2 = x^2 + 3x + 2$
3. تبيان أنه من أجل كل عدد حقيقي x من D_f فإن: $f(x) = x + 1$
 - من أجل كل عدد حقيقي x من D_f لدينا:
 $f(x) = \frac{x^2 + 3x + 2}{x + 2} = \frac{(x+2)(x+1)}{x+2} = x + 1$
4. حساب $g(-2)$ ، $g(-2) = -1$. لا يمكن حساب صورة -2 بالدالة f لأن الدالة f غير معرفة عند -2 .
5. الدالتين f و g غير متساويتان لأنه ليس لهما نفس مجموعة التعريف.
6. التعبير بدلالة x عن عبارة كل من $f_1(x)$ ، $f_2(x)$ ، $f_3(x)$ و $f_4(x)$.

و

الترسيخ

20

عمليات على الدوال

1. تساوي دالتين

تعريف: القول عن دالتين f و g أنها متساويتان يعني أن لهما نفس مجموعة التعريف D و أن من أجل كل عدد حقيقي x من D لدينا: $f(x) = g(x)$ و نكتب: $f = g$

الإكتشاف

2. العمليات الجبرية على الدوال

د35

f و g دالتان معرفتان على D_f و D_g على الترتيب. λ و k عدنان حقيقيان.

العملية	الرمز	التعريف	مجموعة التعريف
مجموع f و k	$f + k$	$(f + k)(x) = f(x) + k$	D_f
مجموع f و g	$f + g$	$(f + g)(x) = f(x) + g(x)$	$D_f \cap D_g$
جاء f بالعدد λ	λf	$(\lambda f)(x) = \lambda f(x)$	D_f
جاء f و g	$f \times g$	$(f \times g)(x) = f(x) \times g(x)$	$D_f \cap D_g$
حاصل قسمة f على g	$\frac{f}{g}$	$\left(\frac{f}{g}\right)(x) = \frac{f(x)}{g(x)}$	$\{x \in D_f \cap D_g : g(x) \neq 0\}$

التقييم

مثال: f و g دالتان معرفتان على \mathbb{R} كما يلي: $f(x) = x^2$ و $g(x) = x + 2$

- الدوال $f + 3$ ، $f + g$ ، $-2f$ ، $f \times g$ هي الدوال المعرفة على \mathbb{R} كما يلي:

$$, (-2f)(x) = -2x^2 , (f + g)(x) = x^2 + x + 2 , (f + 3)(x) = x^2 + 3$$

$$(f \times g)(x) = x^2(x + 2)$$

- الدالة $\frac{f}{g}$ هي الدالة المعرفة على $]-\infty, -2[\cup]-2, +\infty[$ بـ $\left(\frac{f}{g}\right)(x) = \frac{x^2}{x + 2}$.

نشاط: نعتبر الدالتين f و g حيث: $f(x) = x - 5$ و $g(x) = \sqrt{x}$.

1. بين أنه من أجل كل عدد حقيقي x حيث $x \geq 5$ فإن $f(x) \in D_g$.

2. أحسب $g[f(x)]$.

إنجاز النشاط

1. تبيان أنه من أجل كل عدد حقيقي x حيث $x \geq 5$ فإن $f(x) \in D_g$.

- من أجل كل عدد حقيقي x حيث $x \geq 5$ لدينا $x - 5 \geq 0$ أي $f(x) \geq 0$ ومنه $f(x) \in D_g$.

2. حساب $g[f(x)] = g(x - 5) = \sqrt{x - 5}$.

مركب دالتين.

تعريف: f و g دالتان معرفتان على D_f و D_g على الترتيب. مركب الدالة f متبوعة بالدالة g هي الدالة

التي نرمز إليها بالرمز $g \circ f$ و المعرفة على: $D_{g \circ f} = \{x / f(x) \in D_g \text{ و } x \in D_f\}$ بـ

$$(g \circ f)(x) = g[f(x)]$$

مثال: لتكن f الدالة المعرفة على \mathbb{R} بـ $f(x) = -x + 3$ و لتكن g الدالة الجذر التربيعي $(x \mapsto \sqrt{x})$

الدالة $g \circ f$ معرفة إذا كان: $f(x) \in D_g$ أي يكون $-x + 3 \geq 0$ ومنه $x \leq 3$ إذا مجموعة تعريف الدالة

$g \circ f$ هي: $D =]-\infty, 3]$ و لدينا:


$$(g \circ f)(x) = \sqrt{-x+3}$$

تمرين محلول 6 ص 15.

نعتبر الدالتين f و g المعرفتين على $[0; +\infty[$ و $[1; +\infty[$ على الترتيب بـ: $f(x) = 2x^2 + 1$ و $g(x) = \sqrt{x-1}$

1. أكتب كلا من f و g على شكل مركب دالتين مرجعيتين يطلب تحديدهما.

2. عرف الدالتين $f \circ g$ و $g \circ f$.



الأستاذ: المستوى: سنة ثانية علوم تجريبية التاريخ: الزمن: 2 سا الوسائل التعليمية: الكوس - الكتاب المدرسي.		ثانوية عبد المجيد علاهم الميدان: تحليل الوحدة التعليمية: الدوال العددية. الموضوع: اتجاه تغير الدوال من الشكل $f \circ g, \lambda f, f + k$. الكفاءات المستهدفة (المрад تحقيقها):	
توجيهات وتعليقات	المدة	المحتوى المعرفي	مراحل الدرس
	د02	التذكير باتجاه تغير كل من الدالة مربع، الدالة مقلوب، دالة الجذر تربيعي و الدالة التآلفية.	التشخيص
	د10	نشاط: g و h دالتان معرفتان على \mathbb{R} كما يلي: $h(x) = x^2$ و $g(x) = h(x) + 2$ - أدرس اتجاه تغير كل من الدالتين h و g على المجال $[0; +\infty[$. ماذا تلاحظ؟ انجاز النشاط:	الاكتشاف
	د13	اتجاه تغير الدالة h : الدالة h هي الدالة مربع اذا هي متناقصة تماما على المجال $]-\infty, 0]$ و متزايدة تماما على المجال $[0; +\infty[$ اتجاه تغير الدالة g : الدالة g المعرفة على \mathbb{R} بـ: $g(x) = h(x) + 2 = x^2 + 2$. - على المجال $]-\infty, 0]$ ليكن x_1, x_2 عدنان حقيقيان من المجال $]-\infty, 0]$ حيث $x_1 < x_2 \leq 0$ و بم أن الدالة مربع متناقصة تماما على المجال $]-\infty, 0]$ فإن: $x_1^2 > x_2^2$ بإضافة 2 لطرفي المتباينة نجد: $x_1^2 + 2 > x_2^2 + 2$ أي: $g(x_1) > g(x_2)$ ومنه الدالة g متناقصة تماما على المجال $]-\infty, 0]$.	
	د10	- على المجال $[0; +\infty[$ ليكن x_1, x_2 عدنان حقيقيان من المجال $[0; +\infty[$ حيث $0 \leq x_1 < x_2$ و بم أن الدالة مربع متزايدة تماما على المجال $[0; +\infty[$ فإن: $x_1^2 < x_2^2$ بإضافة 2 لطرفي المتباينة نجد: $x_1^2 + 2 < x_2^2 + 2$ أي: $g(x_1) < g(x_2)$ ومنه الدالة g متزايدة تماما على المجال $[0; +\infty[$. للدالتين h و g نفس اتجاه التغير على \mathbb{R} .	
	د15	اتجاه التغير الدالة: $f + k$ مبرهنة: f دالة رتيبة تماما على مجال I (متناقصة تماما أو متزايدة تماما) و k عدد حقيقي. للدالتين f و $f + k$ نفس اتجاه التغير على المجال I . مثال: نعتبر الدالتين f و g المعرفة على $]-1; +\infty[$ كالاتي: $f(x) = \frac{1}{x+1}$ ، $g(x) = \frac{1}{x+1} - 1$. لدينا $g = f - 1$ ومنه للدالتين f و g نفس اتجاه التغير على المجال $]-1; +\infty[$.	البناء و
	د20	نشاط: g و h دالتان معرفتان على المجال $[0; +\infty[$ كما يلي: $h(x) = \sqrt{x}$ و $g(x) = -2h(x)$ - أدرس اتجاه تغير كل من الدالتين h و g على المجال $[0; +\infty[$. ماذا تلاحظ. انجاز النشاط:	الاكتشاف

15د	<p>اتجاه تغير الدالة h: الدالة h هي دالة الجذر تربيعي اذا هي متزايدة تماما على المجال $[0; +\infty[$.</p> <p>اتجاه تغير الدالة g: الدالة g المعرفة على $[0; +\infty[$ بـ: $g(x) = -2h(x) = -2\sqrt{x}$.</p> <p>- على المجال $[0; +\infty[$</p> <p>ليكن x_1, x_2 عدنان حقيقيين من المجال $[0; +\infty[$ حيث $0 \leq x_1 < x_2$ وهم أن دالة الجذر تربيعي متزايدة تماما على المجال $[0; +\infty[$ فإن: $\sqrt{x_1} < \sqrt{x_2}$ بضرب طرفي المتباينة في العدد (-2) نجد:</p> <p>$-2\sqrt{x_1} > -2\sqrt{x_2}$ أي: $g(x_1) < g(x_2)$ ومنه الدالة g متزايدة تماما على المجال $[0; +\infty[$.</p>	<p>البناء</p> <p>و</p> <p>الترسيخ</p>
15د 20د	<p>للدالتين h و g نفس اتجاه التغير على المجال $[0; +\infty[$.</p> <p>اتجاه تغير الدالة: λf</p> <p>مبرهنة: f دالة رتيبة تماما على مجال I و λ عدد حقيقي غير معدوم.</p> <p>- إذا كان $\lambda > 0$ يكون للدالتين f و λf نفس اتجاه التغير على المجال I.</p> <p>- إذا كان $\lambda < 0$ يكون اتجاهها تغير الدالتين f و λf متعاكسين على المجال I.</p> <p>مثال: نعتبر الدالتين f و h المعرفتين على $[0; +\infty[$ كالآتي: $f(x) = \frac{1}{x}$ ، $h(x) = \frac{5}{x}$</p> <p>لدينا $h = 5f$ ومنه للدالتين f و g نفس اتجاه التغير على $[0; +\infty[$.</p> <p>ملاحظة: لا يمكن إعطاء قواعد عامة تمكن من استنتاج اتجاه تغير الدالتين $(f + g)$ و $(f \times g)$ في كل الحالات إلا أن ذلك يكون ممكنا إذا أضيفت شروط على الدالتين f و g.</p>	<p>التق</p>
	<p>تطبيق. أدرس اتجاه تغير كل من الدوال التالية:</p> <p>1. f هي الدالة المعرفة على $]-\infty; 0[$ بـ: $f(x) = \frac{1}{x} - 3$</p> <p>2. g هي الدالة المعرفة على \mathbb{R} بـ: $g(x) = -2x^2$</p> <p>3. g هي الدالة المعرفة على $]-\infty; 0[$ بـ: $g(x) = \frac{-3}{x} + 1$</p>	<p>الإكتشاف</p> <p>البناء</p>
	<p>نشاط</p> <p>نعتبر الدالتين u و v المعرفتين على $[1.5; +\infty[$ و $]-\infty; 0[$ على الترتيب بـ:</p> <p>$u(x) = -2x + 3$ و $v(x) = x^2$</p> <p>- أدرس اتجاه تغير كل من الدالتين u و v.</p> <p>- عرف الدالة g حيث $g = v \circ u$ ثم أدرس اتجاه تغيراتها.</p> <p>انجاز النشاط</p> <p>دراسة اتجاه تغير الدالة u: الدالة u هي الدالة مربع اذا متزايدة تماما على المجال $[1.5; +\infty[$ ($0; +\infty[$)</p> <p>دراسة اتجاه تغير الدالة v: الدالة v هي دالة تآلفية وما $0 < -2$ فإن الدالة v متناقصة تماما على المجال $]-\infty; 0[$ بـ:</p>	<p>و</p> <p>الترسيخ</p> <p>التقييم</p>

لدينا من أجل كل x من $[1; +\infty[$: $g(x) \geq 0$ أي $g(x) \in [0; +\infty[$ ومنه الدالة $f \circ g$ معرفة على

$[1; +\infty[$

الدالة معرفة إذا كان من أجل كل عدد حقيقي

اتجاه تغير الدالة: $g \circ f$

مبرهنة: f دالة رتيبة تماما على مجال I و g دالة رتيبة تماما على مجال J حيث: من أجل كل x من I ، $f(x)$ ينتمي إلى J .

- إذا كان للدالتين f و g نفس اتجاه التغير تكون الدالة $g \circ f$ متزايدة تماما على I .
- إذا كان اتجاهها تغير الدالتين f و g متعاكسين تكون الدالة $g \circ f$ متناقصة تماما على I .

تطبيق: أدرس اتجاه تغير كل من الدالتين الآتيتين:

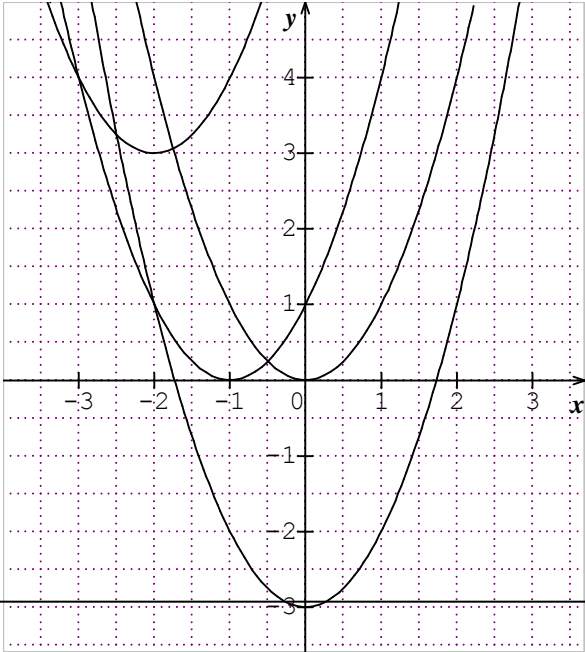
(1) f هي الدالة المعرفة على $]-\infty; 1]$ بـ: $f(x) = \sqrt{-x+1}$

(2) g هي الدالة المعرفة على $]-\infty; -1[$ بـ: $g(x) = \frac{1}{x+1}$

--	--	--	--

<p>الأستاذ:</p> <p>المستوى: سنة ثانية علوم تجريبية</p> <p>التاريخ:</p> <p>الزمن: 3 سا و 30 د .</p> <p>الوسائل التعليمية: الكوس - الكتاب المدرسي.</p>	<p>ثانوية عبد المجيد علاهم</p> <p>الميدان: تحليل</p> <p>الوحدة التعليمية: الدوال العددية.</p> <p>الموضوع: التمثيل البياني للدوال من الشكل: $x \mapsto f(x+a) + b$, λf, f.</p> <p>الكفاءات القاعدية: تمثيل دالة بيانيا باستعمال الدوال المرجعية عندما يكون ذلك ممكنا.</p>
--	--

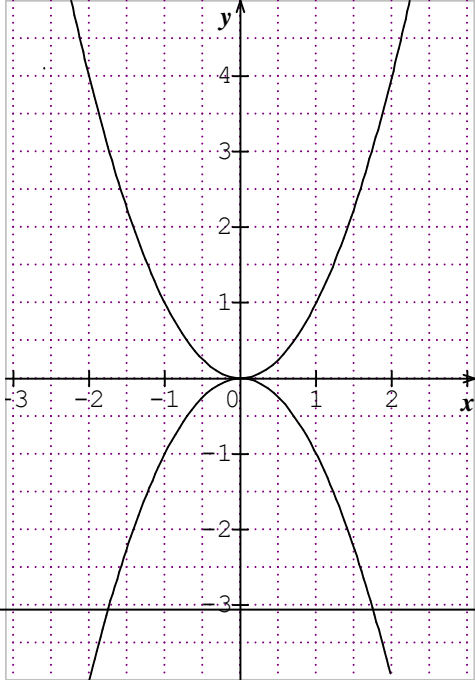
توجيهات وتعليقات	المدة	المحتوى المعرفي	مراحل الدرس
---------------------	-------	-----------------	----------------

<p>تمثل بيانيا الدوال $x \mapsto f(x+b)+k$ ، λf</p>	<p>نشاط: نعتبر الدالتين f و g المعرفتين على \mathbb{R} بـ: $f(x) = x^2$ و $g(x) = (x+2)^2 + 1$ وليكن (C_f)، (C_g) تمثيلهما البيانيين على الترتيب .</p> <p>1. استعن بجدول قيم مساعدة لإنشاء (C_f) و (C_g) .</p> <p>2. لتكن M نقطة من (C_f) فاصلتها x ولتكن M' نقطة من (C_g) فاصلتها $x-2$.</p>	<p>التشخيص و الإكتشاف</p>
<p>د45</p>	<p>- بين أن الشعاع $\overline{MM'}$ ثابت ثم أوجد العلاقة بين (C_f) و (C_g) .</p> <p>التمثيل البياني للدالة: $x \mapsto f(x+b)+k$</p> <p>لتكن f و g دالتين معرفتين على D حيث: من أجل كل x من D لدينا: $g(x) = f(x+b)+k$ حيث b و k عدنان حقيقيان معلومان. نرمز بـ: (C_f) و (C_g) إلى تمثيلهما البيانيين على الترتيب في معلم (O, \vec{i}, \vec{j}). (C_g) هو صورة (C_f) بالانسحاب الذي شعاعه $-b\vec{i} + k\vec{j}$.</p> <p>حالات خاصة</p> <p>1. إذا كانت $b=0$ فإن: (C_g) هو صورة (C_f) بالانسحاب الذي شعاعه $k\vec{j}$.</p> <p>2. إذا كانت $k=0$ فإن: (C_g) هو صورة (C_f) بالانسحاب الذي شعاعه $-b\vec{i}$.</p> <p>مثال: نعتبر الدوال f, g, h المعرفة على \mathbb{R} بـ: $f(x) = (x+2)^2 + 3$ ، $g(x) = x^2 - 3$ ، $h(x) = (x+1)^2$.</p> <p>(C_f) هو صورة منحنى الدالة مربع بالانسحاب الذي شعاعه $-2\vec{i} + 3\vec{j}$</p> <p>(C_g) هو صورة منحنى الدالة مربع بالانسحاب الذي شعاعه $-3\vec{j}$</p> <p>(C_h) هو صورة منحنى الدالة مربع بالانسحاب الذي شعاعه $-\vec{i}$</p> 	<p>البناء و الترسيع</p>
<p>د25</p>	<p>نشاط:</p> <p>f و g دالتان معرفتان على المجال $[0; +\infty[$ كما يلي: $f(x) = \sqrt{x}$ و $g(x) = 2\sqrt{x}$</p> <p>1. إستعن بجدول قيم مساعدة لإنشاء (C_f) و (C_g) .</p> <p>2. لتكن M نقطة من (C_f) فاصلتها x ولتكن M' نقطة من (C_g) فاصلتها x</p>	<p>التشخيص و الإكتشاف</p>
	<p>- قارن بين ترتيبتي النقطتين M و M' ثم أوجد العلاقة بين (C_f) و (C_g) .</p>	

التمثيل البياني للدالة: λf

مبرهنة: ليكن (C_f) و $(C_{\lambda f})$ التمثيلين البيانيين في معلم $(O; \bar{i}; \bar{j})$ للدالتين f و (λf) على الترتيب حيث λ عدد حقيقي غير معدوم. و لتكن M نقطة من (C_f) فاصلتها x . نحصل على نقطة من $(C_{\lambda f})$ ذات الفاصلة x بضرب ترتيب النقطة M في العدد λ .

ملاحظة: إذا كان $\lambda = -1$ يكون المنحنيان (C_f) و (C_{-f}) ، المرسومان في معلم متعامد، متناظرين بالنسبة لمحور الفواصل.



مثال: نعتبر الدالتين f ، g المعرفتين على \mathbb{R} كالآتي:

$$g(x) = -x^2, \quad f(x) = x^2$$

و لتكن (C_f) ، (C_g) تمثيلهما البيانيين في معلم $(O; \bar{i}; \bar{j})$

لدينا $g = -f$ ومنه (C_g) و (C_f) متناظران بالنسبة

لمحور الفواصل

45

الترسيخ

20

نشاط:

- ذكر بالقيمة المطلقة لعدد حقيقي x .

- نعتبر دالة f معرفة على مجال I من \mathbb{R} . أكتب العدد $|f(x)|$ دون رمز القيمة المطلقة.

- أكمل مايلي: إذا كان من أجل كل عدد حقيقي x من I : $f(x) \leq 0$ فإن (C_f) يقع

إذا كان من أجل كل عدد حقيقي x من I : $f(x) \geq 0$ فإن (C_f) يقع

35

تمرين محلول 10 ص 19.

نعتبر الدالتين f و g المعرفتين على \mathbb{R} : $f(x) = x^2 - 4$ و $g(x) = |f(x)|$. نسمي (C_f) و (C_g)

تمثيلهما البيانيين على الترتيب في معلم $(O; \bar{i}; \bar{j})$.

1. ارسم المنحني (C_f) انطلاقا من التمثيل البياني للدالة $h: x \mapsto x^2$ (h هي الدالة " مربع ")

2. بين كيف يمكن استنتاج (C_g) انطلاقا من (C_f) ثم ارسمه.

3. إقترح طريقة لرسم التمثيل البياني للدالة $|f|$.

20

التشخيص

و

التقييم

تمرين 50 ص 30.

--	--	--	--

<p>الأستاذ:</p> <p>المستوى: سنة ثانية علوم تجريبية</p> <p>التاريخ:</p> <p>الزمن: 2 سا.</p> <p>الوسائل التعليمية: الكوس - الكتاب المدرسي.</p>	<p>ثانوية عبد المجيد علاهم</p> <p>الميدان: تحليل</p> <p>الوحدة التعليمية: دوال كثيرات الحدود.</p> <p>الموضوع: التعرف على دالة كثير حدود ودرجتها.</p> <p>الكفاءات القاعدية:</p>
--	--

توجيهات وتعليقات	المدة	المحتوى المعرفي	مراحل الدرس
---------------------	-------	-----------------	----------------

د10	<p>نشاط :</p> <p>1. بسط ثم رتب العبارة $f(x)$ حيث: $f(x) = 3x + 2x^5 - 3(2x + x^2 + 1)$.</p> <p>2. ما هو الحد الأعلى درجة في العبارة $f(x)$ وحدد معامل هذا الحد ودرجته.</p>	الاكتشاف
د35	<p>المقالة كثير حدود</p> <p>تعريف:</p> <p>– نسمي دالة كثير حدود كل دالة f معرفة على \mathbb{R} بـ: $f(x) = a_n x^n + a_{n-1} x^{n-1} + \dots + a_1 x + a_0$ حيث n عدد طبيعي و a_0, a_1, \dots, a_n أعداد حقيقية ثابتة.</p> <p>– يسمى العدد الطبيعي n درجة كثير الحدود f، تسمى الأعداد a_0, a_1, \dots, a_n معاملاته و يسمى $a_p x^p$ الحد الذي درجته p.</p> <p>أمثلة:</p> <ul style="list-style-type: none"> ■ كل دالة ثابتة: $x \mapsto a_0$ ($a_0 \neq 0$) هي كثير حدود درجته 0. ■ كل دالة تآلفية: $x \mapsto ax + b$ ($a \neq 0$) هي كثير حدود درجته 1. ■ كل دالة: $x \mapsto ax^2 + bx + c$ ($a \neq 0$) هي كثير حدود درجته 2 (تسمى أيضا ثلاثي حدود من الدرجة الثانية) <p>تطبيق: عين الصيغة العامة لكثير حدود من الدرجة الثالثة، من الدرجة الرابعة.</p> <p>تساوي كثيري حدود</p> <p>مبرهنة: يكون كثيرا حدود، غير معدومين، متساويين إذا و فقط إذا كانا من نفس الدرجة و كانت معاملات الحدود من نفس الدرجة متساوية.</p>	البناء
د25	<p>مثال: إذا كان لدينا من أجل كل عدد حقيقي x: $ax^3 + bx^2 + cx + d = 2x^3 - x + 3$</p> <p>فإن: $a = 2, b = 0, c = -1$ و $d = 3$.</p> <p>تمرين: f دالة كثير حدود معرفة بـ $f(x) = x^3 + x^2 - 4x - 4$</p>	التقييم
د25	<p>– عين بطريقتين مختلفتين الأعداد الحقيقية a, b و c بحيث يكون من أجل كل عدد حقيقي x:</p> $f(x) = (x+1)(ax^2 + bx + c)$ <p>جذر كثير حدود</p> <p>تعريف: ليكن f كثير حدود درجته أكبر من أو تساوي 1 و α عدد حقيقي. العدد α جذر لكثير الحدود f يعني $f(\alpha) = 0$.</p> <p>مثال: ليكن f كثير الحدود المعرف بـ: $f(x) = x^3 - x^2 - x - 2$. لدينا: $f(2) = 0$ ومنه 2 هو جذر لكثير الحدود f</p> <p>تحليل كثير حدود باستعمال العامل $(x - \alpha)$</p> <p>مبرهنة: ليكن f كثير حدود درجته أكبر من أو تساوي 1 و α عدد حقيقي.</p> <p>– إذا كان $f(\alpha) = 0$ (α جذر لكثير الحدود f) فإنه يوجد كثير حدود g بحيث من أجل كل عدد حقيقي x لدينا: $f(x) = (x - \alpha)g(x)$</p>	البناء
د25	<p>حقيقي x لدينا: $f(x) = (x - \alpha)g(x)$</p>	التقييم

مثال: ليكن f كثير الحدود المعرف بـ: $f(x) = x^3 - x^2 - 4x + 4$ لدينا $f(2) = 0$ ، إذا يوجد كثير حدود g من الدرجة الثانية أي $g(x) = ax^2 + bx + c$ حيث $f(x) = (x-2)(ax^2 + bx + c)$.

تمرين 24 ص 53.

الأستاذ:		ثانوية عبد المجيد علاهم													
المستوى: سنة ثانية علوم تجريبية		الميدان: تحليل													
التاريخ:		الوحدة التعليمية: دوال كثيرات الحدود.													
الزمن: 2 سا و 30د.		الموضوع: المعادلات والمتراجحات من الدرجة الثانية.													
الوسائل التعليمية: الصبورة-الكتاب المدرسي.		الكفاءات القاعدية:													
توجيهات وتعليقات	المدة	المحتوى المعرفي	مراحل الدرس												
	10د	حل في \mathbb{R} المعادلات التالية: (أ) $x^2 + x + 1 = 0$ (ب) $x^2 - 4x + 4 = 0$ (ج) $x^2 + x - 6 = 0$	التشخيص												
	20د	1. حل المعادلة: $ax^2 + bx + c = 0$ ($a \neq 0$) مبرهنة: نعتبر المعادلة من الدرجة الثانية ذات المجهول x التالية: $ax^2 + bx + c = 0$ ($a \neq 0$)	البناء و الترسيع												
		<table border="1"> <thead> <tr> <th>إذا كان:</th> <th>حلول المعادلة $ax^2 + bx + c = 0$ هي:</th> <th>يتم تحليل $ax^2 + bx + c$ على الشكل:</th> </tr> </thead> <tbody> <tr> <td>$\Delta > 0$</td> <td>$x_1 = \frac{-b + \sqrt{\Delta}}{2a}$ ، $x_2 = \frac{-b - \sqrt{\Delta}}{2a}$</td> <td>$a(x - x_1)(x - x_2)$</td> </tr> <tr> <td>$\Delta = 0$</td> <td>$x_1 = x_2 = \frac{-b}{2a}$</td> <td>$a(x - x_1)^2$</td> </tr> <tr> <td>$\Delta < 0$</td> <td>لا توجد حلول</td> <td>$ax^2 + bx + c$ لا يمكن تحليل</td> </tr> </tbody> </table>	إذا كان:	حلول المعادلة $ax^2 + bx + c = 0$ هي:	يتم تحليل $ax^2 + bx + c$ على الشكل:	$\Delta > 0$	$x_1 = \frac{-b + \sqrt{\Delta}}{2a}$ ، $x_2 = \frac{-b - \sqrt{\Delta}}{2a}$	$a(x - x_1)(x - x_2)$	$\Delta = 0$	$x_1 = x_2 = \frac{-b}{2a}$	$a(x - x_1)^2$	$\Delta < 0$	لا توجد حلول	$ax^2 + bx + c$ لا يمكن تحليل	
إذا كان:	حلول المعادلة $ax^2 + bx + c = 0$ هي:	يتم تحليل $ax^2 + bx + c$ على الشكل:													
$\Delta > 0$	$x_1 = \frac{-b + \sqrt{\Delta}}{2a}$ ، $x_2 = \frac{-b - \sqrt{\Delta}}{2a}$	$a(x - x_1)(x - x_2)$													
$\Delta = 0$	$x_1 = x_2 = \frac{-b}{2a}$	$a(x - x_1)^2$													
$\Delta < 0$	لا توجد حلول	$ax^2 + bx + c$ لا يمكن تحليل													
	30د	ملاحظة: إذا كان $\Delta = 0$ نقول أن المعادلة $ax^2 + bx + c = 0$ تقبل حلا مضاعفا. تمرين 33 صفحة 54. في كل حالة من الحالات ، حل المعادلة $f(x) = 0$ ثم استنتج تحليلا لـ $f(x)$.	التقييم												
		$f(x) = x^2 - 3x + 2$ (1) $f(x) = 3x^2 - 5x + 2$ (2) $f(x) = -9x^2 - 3x + 2$ (3) $f(x) = -5x^2 + 8x - 3$ (4)	التشخيص												
	20د	نشاط: - ذكر بإشارة العبارة $ax + b$ حيث a و b عدنان حقيقيان و $a \neq 0$. - أدرس إشارة العبارات التالية: $3x + 1$ ، $-3x + 5$ ، $-2x - 7$. - حل في مجموعة الأعداد الحقيقية المتراجحة التالية: $(3x - 4)(x - 1) \leq 0$	البناء												
		2. المتراجحات من الدرجة الثانية: تعريف: نسمي متراجحة من الدرجة الثانية، ذات المجهول x ، كل متراجحة يمكن كتابتها على أحد الشكلين التاليين: $ax^2 + bx + c \geq 0$ ، $ax^2 + bx + c > 0$ حيث a ، b و c أعداد حقيقية ثابتة مع $a \neq 0$. 3. إشارة ثلاثي الحدود: $ax^2 + bx + c$ ($a \neq 0$) الحالة 1: $\Delta > 0$	و												

د60

x	x_1	x_2	$+\infty$	$-\infty$
$x - x_1$	-	0	+	+
$x - x_2$	-		-	0 +
	إشارة a	0	إشارة $(-a)$	0

لدينا
 $ax^2 + bx + c = a(x - x_1)(x - x_2)$
 حيث:

$$x_2 = \frac{-b - \sqrt{\Delta}}{2a} \text{ و } x_1 = \frac{-b + \sqrt{\Delta}}{2a}$$

بفرض $x_1 < x_2$ نحصل على الجدول
 المقابل

مثال: أدرس إشارة العبارة: $x^2 + 5x + 4$.
 الحالة 2: $\Delta = 0$

لدينا $ax^2 + bx + c = a(x - x_1)^2$ حيث: $x_1 = \frac{-b}{2a}$ ومنه إشارة $ax^2 + bx + c$ من إشارة a . ويمكن

تلخيصها في جدول كالتالي

x	$-\infty$	x_1	$+\infty$
$ax^2 + bx + c$	إشارة a	ϕ	إشارة a

مثال: أدرس إشارة العبارة: $x^2 + 6x + 9$.

الحالة 3: $\Delta < 0$

د30

x	$-\infty$	$+\infty$
$ax^2 + bx + c$	إشارة a	

إشارة $ax^2 + bx + c$ ملخصة في الجدول التالي:

مثال: أدرس إشارة العبارة: $-2x^2 + 6x - 9$.

التقييم

تمرين: حل في \mathbb{R} المترجمات التالية:

$$(أ) 2x^2 + 4x - 6 \leq 0 \quad (ب) -x^2 + 10x - 25 \geq 0 \quad (ج) x^2 - x + 4 < 0$$

--	--	--	--

<p>الأستاذ: ثانوية عبد المجيد علام</p> <p>المستوى: سنة ثانية علوم تجريبية الميدان: تحليل</p> <p>التاريخ: الوحدة التعليمية: الدوال كثرات الحدود.</p> <p>الزمن: 1 سا و 30د. الموضوع: حلّ مسائل تستخدم فيها معادلات و/أو مترجمات من الدرجة الثانية..</p> <p>الوسائل التعليمية: الصبورة-الكتاب المدرسي. الكفاءات القاعدية:</p>		
توجيهات وتعليقات	المدة	<p>المحتوى المعرفي</p> <p>مراحل البرس</p>

مسألة 1 ص 49

نعتبر دائرة قطرها $[AB]$ حيث $AB = 4$. M نقطة من $[AB]$

نشئ الدائرتين اللتين قطراهما $[AM]$ و $[MB]$.

نرمز S إلى مساحة الحيز الملون و a إلى مساحة

القرص

الذي قطره $[AB]$. نضع $AM = x$

1. أحسب S بدلالة x .

2. هل توجد وضعية للنقطة M يكون من أجلها:

$$S = \frac{1}{2}a$$

3. عين قيم x التي يكون من أجلها: $S > \frac{1}{4}a$.

مسألة 2 (ص 87)

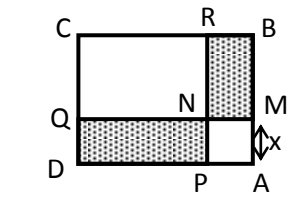
ليكن المستطيل $ABCD$ عرضه $AB = 3$ cm وطوله $BC = 5$ cm.

النقطة M تتغير على القطعة المستقيمة $[AB]$ ونضع $AM = x$.

نرسم المربع $AMNP$ حيث $P \in [AD]$ والمستطيلين $MBRN$ و $NPDQ$.

1) عين قيم العدد الحقيقي x حتى تكون $S(x)$ مجموع مساحتي المستطيلين $MBRN$ و $NPDQ$ أكبر ما يمكن.

2) من أجل أي قيم للعدد x تكون $S(x)$ تساوي نصف مساحة المستطيل $ABCD$.



45

نعمل على
أن يصبح
45 تحديد
إشارة
ثلاثي
الحدود
من
الدرجة
الثانية أليا
عند
التلميذ
أثناء حل
هذا النوع
من
المسائل.

الأستاذ: ياحي رشيد

المستوى: سنة ثانية علوم تجريبية

التاريخ: 2013/10/24م

الزمن: 6 سا.

الوسائل التعليمية: الكوس - المدور - الكتاب المدرسي.

ثانوية عبد المجيد علام

الميدان: هندسة

الوحدة التعليمية: المرجح في المستوى.

الموضوع: مرجح نقطتين.

الكفاءات القاعدية: إنشاء مرجح نقطتين - استعمال المرجح لإثبات استقامية نقط - تعيين

مجموعات نقطية باستعمال المرجح.

مراحل الدرس	المحتوى المعرفي	المدة	توجيهات وتعليقات
التشخيص	نشاط 1: - أذكر متى تكون نقط A, B, C في استقامة واحدة . - A و B نقطتان من المستوي ولتكن G نقطة من المستوي تحقق: $\alpha\vec{GA} + \beta\vec{GB} = \vec{0}$ حيث α و β عددين حقيقيين ثابتين. أنشئ النقطة G في الحالات التالية: (1) $\vec{GA} + 2\vec{GB} = \vec{0}$ (2) $-2\vec{GA} + 5\vec{GB} = \vec{0}$ (3) $5\vec{GA} - 2\vec{GB} = \vec{0}$		توظيف نظرية طاليس في إنشاء مرجح نقطتين.
الإكتشاف	نشاط 2: (1 صفحة 178)		
البناء	تعريف: لتكن A و B نقطتين متميزتين و ليكن α و β عددين حقيقيين حيث $\alpha + \beta \neq 0$. نسمي مرجح النقطتين A و B المرفقتين بالمعاملين α و β على الترتيب النقطة G حيث: $\alpha\vec{GA} + \beta\vec{GB} = \vec{0}$. ملاحظات:		
و	1. إذا كانت نقطة A مرفقة بالعدد الحقيقي α الثنائية (A, α) تسمى نقطة مثقلة . 2. الجملة $\{(A, \alpha); (B, \beta)\}$ تسمى جملة نقطتين مثقتين و النقطة G هي مرجح الجملة المثقلة $\{(A, \alpha); (B, \beta)\}$. 3. إذا كانت A منطبقة على B فإن A منطبقة على G . 4. إذا كان $\alpha = \beta$ نحصل على $\vec{GA} = -\vec{GB}$ (أي النقطة G منتصف القطعة $[AB]$) تسمى عندئذ G مركز المسافتين المتساويتين للنقطتين A و B . وفي هذه الحالة نأخذ $\alpha = \beta = 1$. مبرهنة: إذا كانت النقطة G مرجح النقطتين A و B المرفقتين بالمعاملين α و β على الترتيب فإن النقطة G وحيدة.		
الترسيخ	برهان: $\alpha\vec{GA} + \beta\vec{GB} = \vec{0}$ معناه $\alpha\vec{GA} + \beta\vec{GA} + \beta\vec{AB} = \vec{0}$ ومنه $(\alpha + \beta)\vec{GA} = -\beta\vec{AB}$ بما أن		
التقييم	$\alpha + \beta \neq 0$ فإن $\vec{AG} = \frac{\beta}{\alpha + \beta}\vec{AB}$. A و B نقطتان ثابتتان إذا G وحيد . تطبيق 1 A و B نقطتان متميزتان من المستوي. - أنشئ النقطة G مرجح النقطتين A و B المرفقتين بالمعاملين 3 و 1 على الترتيب . - أنشئ النقطة H مرجح النقطتين A و B المرفقتين بالمعاملين 4- و 3 على الترتيب . - لتكن النقط K حيث أن: $\vec{AK} = -\frac{8}{3}\vec{AB}$. - أثبت أن K مرجح النقطتين A و B مرفقتين بمعاملين صحيحين يطلب تعيينها - أثبت أن كل نقطة من المستقيم (AB) هي مرجح للنقطتين A و B مرفقتين بمعاملين يطلب تعيينها .		

✓ بين أنه إذا كانت النقطة G مرجح الجملة المثقاة $\{(A, \alpha); (B, \beta)\}$ فإن:

- G مرجح الجملة المثقاة $\{(A, k\alpha); (B, k\beta)\}$. حيث k عدد حقيقي غير معدوم.

- النقط A, B و G على استقامة واحدة.

- من أجل كل نقطة M من المستوي فإن: $\alpha \overrightarrow{MA} + \beta \overrightarrow{MB} = (\alpha + \beta) \overrightarrow{MG}$.

تمرين 29 ص 194 (إستعمال المرجح لأثبات إستقامة فقط) ليكن ABC مثلثا .

B' مرجح $(A, -2)$ و $(C, 1)$

A' مرجح $(A, 2)$ و $(B, -3)$

C' مرجح $(C, -1)$ و $(B, 3)$

1. أنشئ الشكل.

2. بين انه مهما كانت النقطة M من المستوي:

$$-\overrightarrow{MA'} - \overrightarrow{MB'} + 2\overrightarrow{MC'} = \vec{0}$$

3. استنتج أن النقط A', B', C' في استقامة.

التشخيص

نشاط: A, B نقطتان متمايزتان من المستوي، لتكن M نقطة من المستوي .

1. ما هي مجموعة النقط M التي تحقق: $MA = 3cm$.

2. ما هي مجموعة النقط M التي تحقق: $MA = MB$.

التقييم

حيث M (مجموعة النقط $3\Gamma_1$) عين وأنشئ المجموعة)

$$\left\{ M \in (P) / \left\| -\overrightarrow{MA} + 2\overrightarrow{MB} + 2\overrightarrow{MC} \right\| = \left\| \overrightarrow{MA} + \overrightarrow{MB} + \overrightarrow{MC} \right\| \right\}$$

حيث M (مجموعة النقط $4\Gamma_2$) عين وأنشئ المجموعة)

$$\left\{ M \in (P) / \left\| -\overrightarrow{MA} + 2\overrightarrow{MB} + 2\overrightarrow{MC} \right\| = AB \right\}$$

($5\Gamma_3$) نفس السؤال)

$$\left\{ M \in (P) / \left\| -\overrightarrow{MA} + 2\overrightarrow{MB} + 2\overrightarrow{MC} \right\| = \left\| 2\overrightarrow{MA} - \overrightarrow{MB} - \overrightarrow{MC} \right\| \right\}$$

تطبيق 66 ص 199 (تعيين مجموعات نقطية باستعمال المرجح)

A, B نقطتان متمايزتان من المستوي حيث $AB = 3cm$. نعرف النقطة K بالعلاقة $\overrightarrow{AK} = -\frac{3}{2}\overrightarrow{AB}$

(1) أثبت أن K مرجح للنقطتين A و B بمعاملات يطلب تعيينها.

(2) عين ثم أنشئ المجموعة E_1 ، مجموعة النقط M من المستوي حيث $\left\| 5\overrightarrow{MA} - 3\overrightarrow{MB} \right\| = AB$.

(3) عين ثم أنشئ المجموعة E_2 ، مجموعة النقط M من المستوي حيث

$$\left\| 5\overrightarrow{MA} - 3\overrightarrow{MB} \right\| = 2MB$$

تمرين 03: (إحداثيي مرجح نقطتين)

المستوي منسوب إلى معلم $(O; \vec{i}, \vec{j})$. لتكن النقطة G مرجح الجملة $\{(A, \alpha); (B, \beta)\}$. نضع $A(x_A; y_A)$ ،

$B(x_B; y_B)$ و $G(x_G; y_G)$



- بين أن: $\alpha\overrightarrow{OA} + \beta\overrightarrow{OB} = (\alpha + \beta)\overrightarrow{OG}$ ثم أوجد إحداثي النقطة G .

تطبيق 04:

المستوي منسوب إلى معلم $(O; \vec{i}, \vec{j})$. لتكن النقط $A(1;2)$ ، $B(-1;4)$.

(1) عين إحداثيات النقطة G منتصف القطعة المستقيمة $[AB]$.

(2) عين إحداثيات النقطة H مرجح الجملة $\{(A,-3);(B,1)\}$.

الأستاذ: يحيى رشيد

المستوى: سنة ثانية علوم تجريبية

التاريخ: 2013/11/10 م

الزمن: 3 سا .

الوسائل التعليمية: المدور-الكوس-الكتاب المدرسي.

ثانوية عبد المجيد علاهم

الميدان: هندسة

الوحدة التعليمية: المرجح في المستوي.

الموضوع: مرجح ثلاث نقط.

الكفاءات القاعدية: إنشاء مرجح ثلاث نقاط . استعمال المرجح لإثبات تلاقي مستقيمتين.

توجيهات
وتعليقات

المدة

المحتوى المعرفي

مراحل
الدرس

20د

نشاط 02 ص 178.

التشخيص
و
الإكتشاف

مرجح ثلاث نقط

1. تعريف مرجح ثلاث نقط

تعريف: A, B, C و ثلاث نقط و α, β, γ ثلاث أعداد حقيقية حيث $\alpha + \beta + \gamma \neq 0$. نسمي مرجح النقط A, B, C و المرفقة بالمعاملات α, β, γ على الترتيب النقطه G حيث: $\alpha \overrightarrow{GA} + \beta \overrightarrow{GB} + \gamma \overrightarrow{GC} = \vec{0}$

ملاحظة: إذا كانت المعاملات متساوية و غير معدومة يسمى G مركز المسافات المتساوية للنقط A, B, C و نأخذ في هذه الحالة المعاملات مساوية لـ 1، عندئذ و إذا كانت النقط ليست على استقامة واحدة النقطه G هي مركز ثقل المثلث ABC ،

البناء

مبرهنة 1: إذا كانت النقطه G مرجحا للنقط A, B, C و المرفقة بالمعاملات α, β, γ على الترتيب فإن النقطه G وحيدة.

40د

2. خاصية التجميع

مبرهنة: G مرجح النقط A, B, C و المرفقة بالمعاملات α, β, γ على الترتيب إذا كان $\alpha + \beta \neq 0$ و كانت D مرجح النقطتين A و B المرفقتين بالمعاملين α و β على الترتيب. فإن النقطه G مرجح النقطتين D و C المرفقتين بالمعاملين $\alpha + \beta$ و γ على الترتيب.

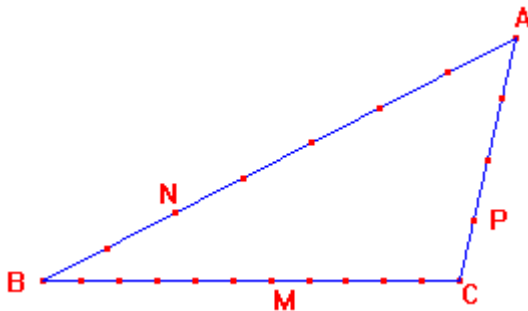
الترسيخ

120د

تمرين 01: A, B, C و ثلاث نقط من المستوي .أنشئ النقطه G مرجح النقط A, B, C و المرفقة بالمعاملات $-1, 1, 2$ على الترتيب .

تمرين 33 ص 195 (إستعمال المرجح لأثبات تلاقي مستقيمت) ABC مثلث . M, N, P نقاط من $[BC]$ ، $[AB]$ و $[AC]$ على الترتيب كما هو مبين في الشكل

التقييم



(1) عبر عن M كمرجح للنقطتين B و C و عن N كمرجح للنقطتين A و B و عن P كمرجح للنقطتين A و C .

(2) بين أن المستقيمت (AM) ، (NC) و (BP) متقاطعة في نقطه واحدة.

تمرين 03: المستوي منسوب إلى معلم $(O; \vec{i}, \vec{j})$. لتكن النقطه G مرجح النقط A, B, C و المرفقة بالمعاملات

α, β, γ على الترتيب. نضع $A(x_A; y_A)$ ، $B(x_B; y_B)$ و $C(x_C; y_C)$ و $G(x_G; y_G)$

1. بين أنه من أجل كل نقطه M من المستوي فإن ، $\alpha \overrightarrow{MA} + \beta \overrightarrow{MB} + \gamma \overrightarrow{MC} = (\alpha + \beta + \gamma) \overrightarrow{MG}$.

2. استنتج أن: $\alpha \overrightarrow{OA} + \beta \overrightarrow{OB} + \gamma \overrightarrow{OC} = (\alpha + \beta + \gamma) \overrightarrow{OG}$ ثم أوجد إحداثيي النقطه G .

تمرين 04: المستوي منسوب إلى معلم $(O; \vec{i}, \vec{j})$. لتكن النقط $A(1; 2)$ ، $B(-1; 4)$ و $C(-3; 3)$.

(3) أثبت أن النقط A, B, C ليست على استقامة واحدة .

(4) عين إحداثيات مركز ثقل المثلث ABC .

(5) عين إحداثيات النقطة H مرشح الجملة $\{(A,-1);(B,-3);(C,2)\}$.

الأستاذ: يحيى رشيد
المستوى: سنة ثانية علوم تجريبية
التاريخ: 2013/11/24
الزمن: 2 سا.
الوسائل التعليمية: الكتاب المدرسي.

ثانوية عبد المجيد علاهم
الميدان: تحليل
الوحدة التعليمية: الإشتقاقية.
الموضوع: العدد المشتق.
الكفاءات القاعدية: حساب العدد المشتق لدالة عند عدد حقيقي.

مراحل الدرس	المحتوى المعرفي	المدة	توجيهات وتعليقات
الإكتشاف	نشاط 1 ص 62	30د	يمكن مقارنة العدد المشتق ببيانيا بعدة طرق، ونقترح كمثال على ذلك، المرور من السرعة المتوسطة إلى السرعة اللحظية في الحركات المستقيمة حيث نبدأ بتلك التي معادلاتها الزمنية للحركة من الدرجة الثانية
البناء	<p>1. نهاية حقيقية لدالة عند الصفر</p> <p>تعريف D_f مجال من مجموعة الأعداد الحقيقية \mathbb{R} يشمل الصفر . القول أن العدد الحقيقي l هو نهاية للدالة f عند العدد 0 معناه عندما يأخذ x قيمة قريبة من 0 بالقدر الكافي فإن العدد $f(x)$ يأخذ قيمة قريبة من l بالقدر الذي نريد . و نكتب $\lim_{x \rightarrow 0} f(x) = l$</p> <p>2. دالة قابلة للإشتقاق عند عدد.</p> <p>تعريف: f دالة معرفة على مجال D_f من \mathbb{R}. x_0 عدد من D_f. القول أن الدالة f قابلة للإشتقاق عند العدد x_0 معناه الدالة: $h \mapsto \frac{f(x_0+h) - f(x_0)}{h}$ تقبل نهاية حقيقية l عند 0. أي $\lim_{h \rightarrow 0} \frac{f(x_0+h) - f(x_0)}{h} = l$ يسمى l العدد المشتق للدالة f في العدد x_0. و نرمز له بـ $f'(x_0)$</p> <p>أي $f'(x_0) = \lim_{h \rightarrow 0} \frac{f(x_0+h) - f(x_0)}{h} = l$</p> <p>ملاحظة: العدد $\frac{f(x_0+h) - f(x_0)}{h}$ يسمى نسبة تزايد الدالة f بين العددين x_0 و x_0+h</p> <p>مثال نعتبر الدالة g المعرفة على \mathbb{R} بـ: $g(x) = x^2 + 3$. أحسب العدد المشتق للدالة g عند $x_0 = 0$ ؛ $x_0 = -2$</p> <p>3. . الدالة المشتقة لدالة f.</p> <p>تعريف: f دالة معرفة على مجال D_f من \mathbb{R}. نقول أن الدالة f قابلة للإشتقاق على D_f إذا فقط إذا كانت قابلة للإشتقاق عند كل عدد من D_f. تسمى الدالة التي ترفق بكل x من D_f العدد المشتق $f'(x)$ الدالة المشتقة للدالة f على D_f. ويرمز لها بـ f' . و نكتب $f': x \mapsto f'(x)$</p>	60د	<p>• نعرف العدد المشتق للدالة f عند x_0 بأنه النهاية المنتهية للدالة: $h \mapsto \frac{f(x_0+h) - f(x_0)}{h}$ لما يؤول h إلى 0</p> <p>نقول عندئذ إن f قابلة للإشتقاق عند x_0 ونرمز للعدد المشتق للدالة f بالرمز $f'(x_0)$.</p>
التزسيخ		15د	
التقييم	تمرين محلول 2 صفحة 65. f دالة معرفة على \mathbb{R} بـ: $f(x) = -x^2 + 2$. أثبت أن الدالة f قابلة للإشتقاق على \mathbb{R} وعين دالتها المشتقة f' .	15د	

--	--	--	--

الأستاذ: ياحي رشيد.
المستوى: سنة ثانية علوم تجريبية.
التاريخ: 2013/12/01م.
الزمن: 2 سا.
الوسائل التعليمية: الكتاب المدرسي.

ثانوية عبد المجيد علاهم
الميدان: تحليل
الوحدة التعليمية: الإشتقاقية.
الموضوع: التفسير الهندسي للعدد المشتق.
الكفاءات القاعدية: تعيين معادلة مماس دالة عند قيمة .

توجيهات وتعليقات	المدة	المحتوى المعرفي	مراحل الدرس
------------------	-------	-----------------	----------------

<p>● تفسر قابلية الاشتقاق للدالة f بوجود مماس لتمثيلها البياني، معامل توجيهه هو $f'(x_0)$. ثم يتم إجراء التقريب الخطي لهذه الدالة بجوار القيمة x_0 بواسطة الدالة التآلفية:</p> $x \mapsto f'(x_0)(x-x_0) + f(x_0)$ <p>أي:</p> $f(x) \approx f'(x_0)(x-x_0) + f(x_0)$	<p>35</p>	<p>نشاط 1</p> <p>f دالة معرفة على \mathbb{R} بـ: $f(x) = \sqrt{x}$. وليكن (C_f) تمثيلها البياني في معلم متعامد $(O; I, J)$.</p> <p>1. أنشئ (C_f) على المجال $[0; 3]$.</p> <p>2. A نقطة من (C_f) فاصلتها 1.</p> <p>- أكتب معادلة للمستقيم (Δ) الذي يشمل النقطة A ومعامل توجيهه هو $f'(1)$.</p> <p>- أنشئ (Δ). ماذا تلاحظ؟</p> <p>3. لتكن الدالة التآلفية g الممثلة بالمستقيم (Δ).</p> <p>- أعط عبارة $g(x)$.</p> <p>- بإستعمال آلة حاسبة أعط قيمة مقربة للعدد $f(1,001)$ إلى 10^{-4}.</p> <p>- أحسب $g(1,001)$ ماذا تستنتج؟</p>	<p>التشخيص</p> <p>و</p> <p>الإكتشاف</p>
<p>60</p>	<p>60</p>	<p>التفسير الهندسي للعدد المشتق.</p> <p>1. معادلة المماس لمنحن دالة عند نقطة.</p> <p>تعريف: f دالة معرفة على مجال D_f من \mathbb{R}. x_0 عدد من D_f حيث f قابلة للإشتقاق عند x_0 و $f'(x_0)$ العدد المشتق عند العدد x_0. وليكن (C_f) رسمها البياني في المستوي المنسوب إلى معلم متعامد (O, \vec{i}, \vec{j}). مماس المنحنى (C_f) عند النقطة $A(x_0, f(x_0))$ هو المستقيم الذي يشمل A و معامل توجيهه $f'(x_0)$. معادلته هي: $y = f'(x_0)(x-x_0) + f(x_0)$.</p> <p>مثال</p> <p>f دالة معرفة على \mathbb{R} بـ: $f(x) = -x^2 + 2$. وليكن (C_f) رسمها البياني في المستوي المنسوب إلى معلم (O, \vec{i}, \vec{j}).</p> <p>• عين معادلة لـ (T) مماس المنحنى (C_f) عند النقطة A التي فاصلتها 1.</p> <p>2. التقريب التآلفي لدالة عند قيمة.</p> <p>في التعريف السابق لدينا $(T): y = f'(x_0)(x-x_0) + f(x_0)$ إذن (T) هو التمثيل البياني لدالة تآلفية g حيث: $g(x) = f'(x_0)(x-x_0) + f(x_0)$.</p> <p>الدالة التآلفية g تسمى تقريبا تآلفيا للدالة f بجوار العدد x_0 ونقبل أنها هي أحسن تقريب تآلفي للدالة f بجوار x_0 ونكتب $f(x) \approx f'(x_0)(x-x_0) + f(x_0)$.</p>	<p>البناء</p> <p>و</p> <p>التزيخ</p>
<p>25</p>	<p>25</p>	<p>تمرين محلول 4 ص 67.</p>	<p>التقييم</p>
<p>الأستاذ: يحي رشيد. المستوى: سنة ثانية علوم تجريبية. التاريخ: 2013/12/04م. الزمن: 1 سا. الوسائل التعليمية: الكتاب المدرسي.</p>		<p>ثانوية عبد المجيد علاهم الميدان: تحليل الوحدة التعليمية: الإشتقاقية. الموضوع: الدالة المشتقة. الكفاءات القاعدية مشتقات دوال مألوفة .</p>	

مراحل الدرس	المحتوى المعرفي	المدة	توجيهات وتعليقات
التشخيص و الإكتشاف	<p>نشاط</p> <p>أحسب مشتقات الدوال التالية</p> <p>$f: x \mapsto ax + b$ (حيث a و b عددا حقيقيان و $a \neq 0$) على \mathbb{R}؛ $f: x \mapsto x^2$ على \mathbb{R}؛ $f: x \mapsto \sqrt{x}$ على المجال $]0; +\infty[$؛ $f: x \mapsto \frac{1}{x}$ على \mathbb{R}^*.</p>	20د	<ul style="list-style-type: none"> • نجعل التلميذ يستعمل الرمز f' ، $f'(x)$ ويميز بينهما. • نلاحظ أنّ مجموعة قابلية الاشتقاق مطابقة لمجموعة التعريف في كل أنواع الدوال المقررة في هذا المستوى ماعدا دالة الجذر التربيعي. • نجد في استخراج قواعد حساب مشتقات هذه الدوال فرصة يمارس فيها التلميذ البرهان.
البناء و الترسيخ	<p>مبرهنة 1: الدالة التآلفية $f: x \mapsto ax + b$ حيث a و b عددا حقيقيان ، قابلة للاشتقاق على \mathbb{R} و دالتها المشتقة هي :</p> <p>حالة خاصة</p> <p>* إذا كان $a = 0$ نستنتج أن الدالة $f: x \mapsto b$ (الدالة الثابتة) قابلة للاشتقاق على \mathbb{R} و دالتها المشتقة هي : $f': x \mapsto 0$</p> <p>مثال: أحسب مشتقات الدوال التالية</p> <p>$f: x \mapsto -2x + 3$ ؛ $f: x \mapsto 2x$ ؛ $f: x \mapsto x$ ؛ $f: x \mapsto 5$.</p> <p>مبرهنة 2: الدالة $f: x \mapsto x^n$ (n عدد طبيعي غير معدوم) قابلة للاشتقاق على \mathbb{R} و دالتها المشتقة هي :</p> <p>مثال f دالة معرفة على \mathbb{R} : $f(x) = x^5$. أحسب دالتها المشتقة.</p> <p>مبرهنة 3: الدالة $f: x \mapsto \frac{1}{x}$ قابلة للاشتقاق على $]0, +\infty[$ و $]-\infty, 0[$ و دالتها المشتقة هي :</p> <p>مبرهنة 4: الدالة $f: x \mapsto \sqrt{x}$ قابلة للاشتقاق على $]0, +\infty[$ و دالتها المشتقة هي : $f': x \mapsto \frac{1}{2\sqrt{x}}$</p> <p>مبرهنة 5: (تقبل بدون برهان) الدالة $f: x \mapsto \sin x$ قابلة للاشتقاق على \mathbb{R} و دالتها المشتقة هي :</p> <p>مبرهنة 6: (تقبل بدون برهان) الدالة $f: x \mapsto \cos x$ قابلة للاشتقاق على \mathbb{R} و دالتها المشتقة هي :</p>	40د	

الأستاذ: يحيى رشيد.
المستوى: سنة ثانية علوم تجريبية.
التاريخ: 2013/12/08م.
الزمن: 2 سا.
الوسائل التعليمية: الكتاب المدرسي.

ثانوية عبد المجيد علاهم
الميدان: تحليل
الوحدة التعليمية: الإشتقاقية.
الموضوع: عمليات على المشتقات.

الكفاءات القاعدية: حساب مشتقات الدوال $f + g$ ، $f \times g$ ، $\frac{f}{g}$ ، $f(ax+b)$ ، $x \mapsto f(ax+b)$.

مراحل الدرس	المحتوى المعرفي	المدة	توجيهات وتعليقات
التشخيص و الإكتشاف	<p>نشاط . نعتبر الدالتان f و g المعرفتان على \mathbb{R} : $f(x) = \frac{1}{2}x + 1$ ؛ $g(x) = -x + 2$</p> <p>1. قارن بين $(f+g)'(x)$ ؛ $f'(x) + g'(x)$.</p> <p>2. قارن بين $(f \times g)'(x)$ ؛ $f'(x)g(x) + f(x)g'(x)$.</p> <p>3. قارن بين $\left(\frac{f(x)}{g(x)}\right)'$ ؛ $\frac{f'(x)g(x) - f(x)g'(x)}{g(x)^2}$.</p>	30د	
البناء و الترسيخ	<p>عمليات على الدوال المشتقة:</p> <p>مبرهنة: u و v دالتان قابلتان للإشتقاق على مجال D من \mathbb{R} .</p> <p>1. الدالة $(u+v)$ قابلة للإشتقاق على D ودالتها المشتقة هي: $(u+v)' = u' + v'$</p> <p>2. الدالة $(u.v)$ قابلة للإشتقاق على D ودالتها المشتقة هي: $(u.v)' = u'.v + u.v'$</p> <p>3. الدالة (λu) (حيث λ عدد حقيقي) قابلة للإشتقاق على D ودالتها المشتقة هي: $(\lambda u)' = \lambda u'$</p> <p>4. الدالة $\left(\frac{u}{v}\right)$ قابلة للإشتقاق على D ودالتها المشتقة هي: $\left(\frac{u}{v}\right)' = \frac{u'.v - u.v'}{v^2}$ حيث $v(x) \neq 0$</p> <p>5. الدالة $\left(\frac{1}{v}\right)$ قابلة للإشتقاق على D ودالتها المشتقة هي: $\left(\frac{1}{v}\right)' = -\frac{v'}{v^2}$ حيث $v(x) \neq 0$</p> <p>مثال: أحسب مشتق الدالة f في كل حالة ممايلي</p> <p>$f(x) = 4x + 8$ ، $f(x) = \frac{1}{3}x^3 + \frac{1}{2}x^2 + x$ ، $f : x \mapsto \frac{-2}{x}$ ، $f(x) = 2(x^4 - 1)$ ،</p> <p>$f : x \mapsto \frac{-x+1}{x+2}$ ، $f : x \mapsto 2x+1 - \frac{x+1}{x-3}$ ، $h(x) = \frac{1}{x-1}$ ، $f : x \mapsto \frac{2x^2+3x-1}{x^2-3}$ ،</p> <p>$f(x) = \frac{-6}{3}\sqrt{x}$ ، $f(x) = (x^3-1)(x^6+1)$ ، $f(x) = \frac{-6}{3}\sqrt{x}$ ، $f(x) = 2\cos x + 3.\sin x$.</p> <p>مشتقة الدالة: $f : x \mapsto u(ax+b)$</p> <p>مبرهنة: (تقبل بدون برهان) u دالة قابلة للإشتقاق على مجال D من \mathbb{R} . a و b عدنان حقيقيان. E مجموعة الأعداد الحقيقية x حيث $ax+b$ ينتمي إلى D . الدالة $f : x \mapsto u(ax+b)$ قابلة للإشتقاق على E ودالتها المشتقة f' هي: $f' : x \mapsto au'(ax+b)$. حيث u' مشتقة الدالة u على D .</p>	70د	

20د

التقييم
تمرين 68 ص 87.

الأستاذ: يحيى رشيد.

المستوى: سنة ثانية علوم تجريبية.

التاريخ: 2014/01/29م.

الزمن: 2 سا.

الوسائل التعليمية: الكتاب المدرسي.

ثانوية عبد المجيد علاهم

الميدان: تحليل

الوحدة التعليمية: تطبيقات الإشتقاقية.

الموضوع: اتجاه تغير دالة والقيم الحدية المحلية.

الكفاءات القاعدية الربط بين إشارة المشتق واتجاه التغير.

توجيهات وتعليقات

المدة

المحتوى المعرفي

مراحل
الدرس

<p>تختار أمثلة ندرس فيها اتجاه تغير دالة كثير حدود أو دالة ناطقة. تقترح أنشطة تهدف إلى استنتاج حصر دالة على مجال بثوابت. أو دوال بسيطة تعالج مسائل "الاستمثال" التي نبحت فيها عن القيم المثلى التي تحقق المطلوب.</p>	<p>20د</p>	<p>الإكتشاف</p> <p>نشاط 2ص 62</p> <p>1. اتجاه تغير دالة:</p> <p>مبرهنة: لتكن دالة f معرفة و قابلة للإشتقاق على مجال D_f و f' دالتها المشتقة .</p> <ul style="list-style-type: none"> • إذا كانت f' موجبة تماما (يمكن أن تكون f' معدومة من أجل قيم منعزلة من D_f) على المجال D_f فإن الدالة f متزايدة تماما على المجال D_f . • إذا كانت f' سالبة تماما (يمكن أن تكون f' معدومة من أجل قيم منعزلة من D_f) على المجال D_f فإن الدالة f متناقصة تماما على المجال D_f . • إذا كانت f' معدومة على المجال D_f فإن الدالة f ثابتة على المجال D_f .
<p>10د</p>	<p>10د</p>	<p>القيم</p> <p>تمرين: أدرس اتجاه تغير الدالة f . المعرفة على $\mathbb{R} - \{1\}$. ب: $f: x \mapsto \frac{x+2}{x-1}$.</p>
<p>10د</p>	<p>10د</p>	<p>الإكتشاف</p> <p>نشاط 02</p> <p>أسئلة إضافية (تابع للنشاط 01)</p> <p>(7) ماذا تمثل القيمة 1 بالنسبة للدالة g على المجال $\left[\frac{1}{2}; \frac{3}{2}\right]$</p> <p>(8) بين أن الدالة تنعدم f' عند 1 مغيرة إشارتها .</p> <p>(9) ما هو التخمين الذي يمكن أن تدلي به فيما يخص العلاقة الموجودة بين القيم الحدية المحلية لدالة f والدالة f' .</p>
<p>15د</p>	<p>15د</p>	<p>البناء</p> <p>و</p> <p>الترسيخ</p> <p>2. القيم الحدية المحلية لدالة:</p> <p>مبرهنة لتكن دالة f معرفة و قابلة للإشتقاق على مجال I و f' دالتها المشتقة .</p> <ul style="list-style-type: none"> • إذا انعدمت الدالة المشتقة f' عند قيمة c من I مغيرة إشارتها فإنه يوجد مجال مفتوح I' محتوى في I يشمل c تقبل فيه f قيمة حدية $f(c)$. تسمى $f(c)$ قيمة حدية محلية . • ملاحظات: يمكن وجود عدة قيم حدية محلية على I . • إذا انعدمت الدالة المشتقة f' عند قيمة c من I فإن الرسم البياني للدالة f يقبل مماسا موازيا لحامل محور الفواصل عند النقطة التي فاصلتها c .
<p>10د</p>	<p>10د</p>	<p>القيم</p> <p>تمرين لتكن الدالة f المعرفة على \mathbb{R} ب: $f(x) = \frac{1}{3}x^3 - \frac{1}{2}x^2 - 2x + 1$.</p> <ul style="list-style-type: none"> - أدرس اتجاه تغير الدالة f و شكل جدول تغيراتها. - عين مجالات من \mathbb{R} تقبل فيها f قيما حدية محلية يطلب تعيينها. <p>مسألة محلولة ص 101</p>
<p>الأستاذ: يحي رشيد. المستوى: سنة ثانية علوم تجريبية. التاريخ: 2014/02/01م. الزمن: 1 سا. الوسائل التعليمية: الكتاب المدرسي.</p>	<p>ثانوية عبد المجيد علاهم الميدان: تحليل الوحدة التعليمية: تطبيقات الإشتقاقية. الموضوع: حصر دالة. الكفاءات القاعدية:</p>	

مراحل الدرس	المحتوى المعرفي	المدة	توجيهات وتعليقات
التشخيص و الإكتشاف	<p>نشاط : لتكن الدالة f المعرفة على $[-3,1]$ كما يلي : $f : x \mapsto x^2 + 2x - 3$.</p> <p>1. أدرس اتجاه تغير الدالة f وشكل جدول تغيراتها.</p> <p>1. عين حصرا للعدد $f(x)$ على كل من المجالين $[-3,-1]$ و $[-1,1]$.</p>	20د	تقترح أنشطة تهدف إلى استنتاج حصر دالة على مجال بثوابت أو دوال بسيطة.
البناء و الترسيع	<p>حصر دالة:</p> <p>نتائج: لتكن دالة f معرفة و قابلة للإشتقاق على مجال $[a,b]$ و f' دالتها المشتقة .</p> <ul style="list-style-type: none"> • إذا كانت الدالة f متزايدة تماما على المجال $[a,b]$ فإن من أجل كل عدد حقيقي x من المجال $[a,b]$ $f(a) \leq f(x) \leq f(b)$ • إذا كانت الدالة f متناقصة تماما على المجال $[a,b]$ فإن من أجل كل عدد حقيقي x من المجال $[a,b]$ $f(b) \leq f(x) \leq f(a)$ 	20د	
التقييم	<p>تمرين 43 ص 106.</p>	20د	
		20د	

الأستاذ: يحيى رشيد.
المستوى: سنة ثانية علوم تجريبية.
التاريخ: 2014/02/03م.
الزمن: 2 سا.
الوسائل التعليمية: الكتاب المدرسي.

ثانوية عبد المجيد علاهم
الميدان: تحليل
الوحدة التعليمية: المتاليات العددية.
الموضوع: مفهوم متتالية عددية.
الكفاءات القاعدية: وصف ظاهرة بواسطة متتالية.

مراحل الدرس	المحتوى المعرفي	المدة	توجيهات وتعليقات
التشخيص و الإكتشاف	<p>نشاط 01</p> <p>1. نعتبر الدالة f المعرفة على مجموعة الأعداد الطبيعية كالتالي: $f(n) = 2n + 5$.</p> <p>- أحسب صور كل من 0، 3، 12، 100، 140 بالدالة f.</p> <p>2. لتكن A مجموعة الأعداد الطبيعية الفردية الأصغر من 16.</p> <p>- أوجد العدد الذي رتبته 1 والعدد الذي رتبته 2 والعدد الذي رتبته 6 في المجموعة A.</p>	30د	
البناء و الترسيخ	<p>1. مفهوم متتالية</p> <p>تعريف: نسمي متتالية عددية كل دالة معرفة على مجموعة الأعداد الطبيعية أو جزء منها نحو مجموعة الأعداد الحقيقية.</p> <p>اصطلاحات وتراميز</p> <p>- يرمز لمتتالية بأحد الرموز $T, U, H, (u_n), (v_n)$.</p> <p>- يرمز لصورة عدد طبيعي n بالمتتالية (u_n) بالرمز $u(n)$ أو u_n ويسمى n دليل الحد u_n.</p> <p>- الحد u_n هو الحد الذي دليله n ويسمى أيضا الحد العام للمتتالية (u_n).</p> <p>أمثلة: نعتبر المتتالية (u_n) المعرفة على \mathbb{N} ب: $u_n = 2n + 5$</p> <p>- أحسب الحدود u_2, u_9, u_{40}.</p> <p>- أحسب الحد الذي دليله 15.</p> <p>ملاحظات</p> <p>1. نرمز لمتتالية معرفة على مجموعة الأعداد الطبيعية ب: (u_n) وحدها الأول في هذه الحالة هو u_0 ما لم يذكر عكس ذلك (لم يصرح بالحد الأول)</p> <p>2. يمكن لمتتالية أن تكون معرفة انطلاقا من دليل معين n_0 نرمز لها في هذه الحالة بالرمز $(u_n)_{n \geq n_0}$ وحدها الأول هو u_{n_0}.</p> <p>أمثلة:</p> <p>- نعتبر المتتالية (u_n) المعرفة ب: $u_n = 3^n$. حدها الأول هو: $u_0 = 2^0 = 1$.</p> <p>- نعتبر المتتالية $(u_n)_{n \geq 4}$ المعرفة ب: $u_n = \sqrt{n-4}$. حدها الأول هو $u_4 = \sqrt{4-4} = 0$.</p> <p>العلاقة بين رتبة حد ودليله في متتالية.</p> <p>نعتبر المتتالية $(u_n)_{n \geq n_0}$ والتي حدها الأول هو u_{n_0}. وليكن u_p هو الحد الذي دليله p إذا رتبة الحد u_p هي $p - n_0 + 1$.</p> <p>مثال: نعتبر المتتالية (v_n) المعرفة ب: $v_n = 2n + 5$ و v_2 هو حدها الأول.</p> <p>1. أحسب الحد الذي دليله 10 ثم أحسب رتبته.</p>	70د	
	<p>1. أحسب الحد الذي دليله 10 ثم أحسب رتبته.</p>	20د	

2. أحسب رتبة الحد الذي قيمته 13.

تطبيق: نعتبر المتتالية (v_n) المعرفة ب: $v_n = 4n - 3$ و v_0 حدها الأول .

1. أحسب $v_0, v_3, v_{10}, v_{15}, v_{18}$.

2. أجب بصحيح أو خطأ مع التعليل

- رتبة الحد الذي دليله 5 هي 5 .

- الحد الذي قيمته 21 دليله هو 6 .

الحد الذي قيمته 37 رتبته هي 11 .

التقييم

الأستاذ: يحيى رشيد.
المستوى: سنة ثانية علوم تجريبية.
التاريخ: 2014/02/03م.
الزمن: 2 سا.
الوسائل التعليمية: الكتاب المدرسي.

ثانوية عبد المجيد علاهم
الميدان: تحليل
الوحدة التعليمية: المتتاليات العددية.
الموضوع: توليد متتالية عددية.
الكفاءات القاعدية:

مراحل الدرس	المحتوى المعرفي	المدة	توجيهات وتعليقات
التشخيص و الإكتشاف	<p>نشاط 01</p> <p>1. لتكن المتتالية (u_n) المعرفة على مجموعة الأعداد الطبيعية كما يلي : $u_n = \frac{1}{2^n}$. - أحسب u_0 ؛ u_1 ؛ u_2 ؛ 2. نعتبر المتتالية (v_n) المعرفة ب: $v_0 = 2$ و $v_{n+1} = v_n + 5$ من أجل كل عدد طبيعي n . - أحسب v_1 ؛ v_2 ؛ v_3 .</p>	30د	
البناء و الترسيخ	<p>1. طرق توليد متتالية عددية 1. بإعطاء عبارة الحد العام : يمكن تعريف متتالية بعبارة صريحة (دستور) تسمح بحساب كل حد بدلالة n مباشرة. مثال: لتكن المتتالية (u_n) المعرفة على مجموعة الأعداد الطبيعية كما يلي : $u_n = 2n + 5$. - أحسب u_0 ؛ u_3 ؛ u_6 . ملاحظة: يمكن التعبير عن الحد العام لمتتالية (u_n) باستعمال دالة f و نكتب $u_n = f(n)$ وتسمى الدالة f الدالة المرافقة للمتتالية (u_n) . مثال الدالة المرافقة للمتتالية (u_n) المعرفة بحددها العام $u_n = 3n + 5$ هي $f : x \mapsto 3x + 5$.</p> <p>2. بعلاقة تراجعية: يمكن تعريف متتالية بإعطاء: - الحد الأول . - وعلاقة تسمح بتعيين كل حد إنطلاقا من الحد السابق له مباشرة. مثال: لتكن المتتالية (u_n) المعرفة ب: $u_0 = 2$ و $u_{n+1} = u_n + 3$ من أجل كل عدد طبيعي n . - أحسب u_1 ؛ u_2 ؛ u_3 .</p> <p>2. اتجاه تغير متتالية عددية تكون متتالية (u_n) متزايدة إذا كان كل حد من حدودها أكبر من الحد السابق لها أي $u_{n+1} \geq u_n$ من أجل كل عدد طبيعي n . تكون متتالية (u_n) متناقصة إذا كان كل حد من حدودها أصغر من الحد السابق لها أي $u_{n+1} \leq u_n$ من أجل كل عدد طبيعي n . تكون متتالية (u_n) ثابتة إذا كان $u_{n+1} = u_n$ من أجل كل عدد طبيعي n .</p>	70د	

- نعتبر المتتالية (u_n) المعرفة بـ: $u_n = 3n + 5$ من أجل كل عدد طبيعي n .
- أحسب u_1 ؛ u_2 ؛ u_3 ؛ u_8 .
 - أدرس اتجاه تغير المتتالية (u_n) .

ملاحظة: لدراسة اتجاه تغير متتالية (u_n) يمكن أن:

- (1) ندرس إشارة $u_{n+1} - u_n$.
- (2) نقارن بين $\frac{u_{n+1}}{u_n}$ و 1 (إذا كانت إشارة المتتالية (u_n) ثابتة).
- (3) إذا وجدت دالة f حيث من أجل كل عدد طبيعي n : $u_n = f(n)$ ندرس تغيرات الدالة f .

تمرين

أدرس اتجاه تغير كل من المتتاليتين (u_n) و (v_n) المعرفتين على \mathbb{N} كما يلي $u_n = \frac{n+1}{3^n}$ و $v_n = \frac{2n-1}{n+3}$

3. التمثيل البياني لمتتالية عددية.

1. متتالية معرفة بالحد العام

المستوي منسوب إلى معلم (O, \vec{i}, \vec{j}) لنكن المتتالية (u_n) و f الدالة المرافقة لها. مجموعة النقط $M(n, f(n))$ هي التمثيل البياني للمتتالية (u_n) .

تطبيق: المستوي منسوب إلى معلم (O, \vec{i}, \vec{j}) . لنكن المتتالية (u_n) المعرفة على مجموعة الأعداد الطبيعية كما يلي : $u_n = 2n + 5$ و f الدالة المرافقة للمتتالية (u_n) .
أ. أعط عبارة الدالة f ثم مثلها بيانيا على المجال $[0; +\infty[$.
ب. مثل (u_n) بيانيا من أجل $n \leq 3$.

2. متتالية معرفة بعلاقة تراجعية .

لنكن المتتالية (u_n) المعرفة بعدها الأول u_0 و العلاقة التراجعية $u_{n+1} = f(u_n)$ حيث f دالة معرفة على \mathbb{R} . مجموعة النقط $M(u_n, f(u_n))$ هي التمثيل البياني في المستوي المنسوب إلى معلم للمتتالية (u_n) .

تطبيق: لنكن المتتالية (u_n) المعرفة بعدها الأول $u_0 = 1$ و العلاقة التراجعية $u_{n+1} = u_n^2 + 1$ من أجل كل عدد طبيعي n . لنكن f الدالة المعرفة على المجال $[0; +\infty[$. وليكن (C_f) تمثيلها البياني في المستوي المنسوب إلى معلم متعامد و متجانس (O, I, J) .

نضع من أجل كل عدد طبيعي n : $u_{n+1} = f(u_n)$. (Δ) مستقيم معادلته $y = x$. A النقطة من (C_f) التي فاصلتها u_0 . المستقيم الذي يشمل النقطة A و يوازي محور الفواصل يقطع (Δ) في النقطة B .

- أعط عبارة الدالة f ثم مثلها بيانيا على المجال $[0; +\infty[$.
- مثل المستقيم (Δ) .
- أثبت أن فاصلة B هي u_1 .
- عين بنفس الطريقة النقط C ، D ، E من (C_f) التي فواصلها على الترتيب u_2 ، u_3 ، u_4 . دون حساب الحدود u_2 ، u_3 ، u_4 .

--	--	--	--

<p>الأستاذ: يحي رشيد. المستوى: سنة ثانية علوم تجريبية. التاريخ: 2014/02/10م. الزمن: 2 سا. الوسائل التعليمية: الكتاب المدرسي.</p>	<p>ثانوية عبد المجيد علام الميدان: تحليل الوحدة التعليمية: المتتاليات العددية. الموضوع: المتتاليات الحسابية. • الكفاءات القاعدية:</p>		
<p>توجيهات وتعليقات</p>	<p>المدة</p>	<p>المحتوى المعرفي</p>	<p>مراحل الدرس</p>

<p>30د</p>	<p>نشاط 01</p> <p>نعتبر المتتالية (u_n) المعرفة بـ: $u_0 = 2$ و $u_{n+1} = u_n + 5$ من أجل كل عدد طبيعي n.</p> <p>أحسب u_1؛ u_2؛ u_3؛ u_4.</p> <p>أكتب الحدود u_1؛ u_2؛ u_3؛ u_4، بدلالة u_0، ثم خمن كتابة u_n بدلالة u_0.</p>	<p>التشخيص و الإكتشاف</p>
<p>70د</p>	<p>مفهوم متتالية حسابية :</p> <p>تعريف: نقول أن المتتالية (u_n) متتالية حسابية حدها الأول u_0 إذا و فقط إذا وجد عدد حقيقي r بحيث أن من أجل كل عدد طبيعي n : $u_{n+1} = u_n + r$. يسمى r أساس المتتالية (u_n).</p> <p>ملاحظة: إذا كان $r = 0$ فإن المتتالية (u_n) ثابتة و كل حدودها تساوي الحد الأول u_0.</p> <p>أمثلة: المتتالية (u_n) حيث أن $u_n = 3n + 5$ متتالية حسابية حدها الأول $u_0 = 5$ و أساسها $r = 3$. وبالفعل لدينا $u_{n+1} = 3(n+1) + 5 = 3n + 5 + 3 = u_n + 3$.</p> <p>الحد العام لمتتالية حسابية :</p> <p>مبرهنة: (تقبل بدون برهان) (u_n) متتالية حسابية حدها الأول u_0 أساسها r. الحد العام للمتتالية الحسابية (u_n) هو $u_n = u_0 + nr$ من أجل كل عدد طبيعي n.</p> <p>ملاحظات:</p> <ul style="list-style-type: none"> • إذا كان u_1 الحد الأول فإن عبارة الحد العام هي $u_n = u_1 + (n-1)r$. • بصفة عامة إذا كان u_p الحد الأول (p عدد طبيعي أصغر من n) فإن عبارة الحد العام هي: $u_n = u_p + (n-p)r$. • تعيين الحد العام يعود إلى كتابة u_n بدلالة n. • العلاقة $u_n = u_p + (n-p)r$ تسمح بحساب الأساس والحد الأول لمتتالية حسابية انطلاقا من معرفة حدين لهذه المتتالية. <p>تمرين (u_n) متتالية حسابية حيث: $u_{11} = 38$ و $u_{19} = 62$</p> <ul style="list-style-type: none"> - أحسب الأساس r والحد الأول u_0. - اكتب عبارة الحد العام u_n بدلالة n. - اوجد قيمة العدد الطبيعي n حتى يكون $u_n = 305$. <p>هل الحد الذي قيمته 128 هو حد من حدود المتتالية (u_n)؟</p>	<p>البناء و التربيع و التقييم</p>

الأستاذ: يحيى رشيد
المستوى: سنة ثانية علوم تجريبية.
التاريخ: 2014/02/12م
الزمن: 1 سا و 10د.
الوسائل التعليمية: الصبورة.

ثانوية عبد المجيد علاهم
الميدان: تحليل
الوحدة التعليمية: المتتاليات العددية.
الموضوع: اتجاه تغير متتالية حسابية - حساب مجموع حدود متعاقبة من متتالية حسابية.
الكفاءات المستهدفة.

توجيهات وتعليقات	المدة	المحتوى المعرفي	مراحل الدرس
	10د	<p>نشاط</p> <p>أدرس اتجاه تغير المتتاليات الحسابية التالية :</p> <ul style="list-style-type: none"> - المتتالية (u_n) المعرفة ب: $u_n = 3n + 5$ من أجل كل عدد طبيعي n . - المتتالية (v_n) المعرفة ب: $v_n = -n - 5$ من أجل كل عدد طبيعي n . - المتتالية (w_n) المعرفة ب: $w_n = 5$ من أجل كل عدد طبيعي n . 	التشخيص و الإكتشاف
	15د	<p>اتجاه تغير متتالية حسابية :</p> <p>مبرهنة (u_n) متتالية حسابية حدها الأول u_0 و أساسها r .</p> <ul style="list-style-type: none"> - المتتالية (u_n) متناقصة تماما اذا فقط اذا كان $r < 0$. - المتتالية (u_n) متزايدة تماما اذا فقط اذا كان $r > 0$. - المتتالية (u_n) ثابتة اذا فقط اذا كان $r = 0$. <p>اعطاء أمثلة</p>	البناء و الترسيع
	15د	<p>نشاط 2.</p> <p>نعتبر المتتالية الحسابية (u_n) المعرفة ب: $u_0 = 2$ و $u_{n+1} = u_n + 5$ من أجل كل عدد طبيعي n .</p> <p>أحسب $u_0 + u_1 + u_2 + u_3 + u_4 + u_5$ ؛ $\frac{6}{2}(u_0 + u_5)$ ، قارن بينهما.</p>	الإكتشاف
	15د	<p>مجموع حدود متتالية حسابية :</p> <p>مبرهنة : (u_n) متتالية حسابية حدها الأول u_0 و أساسها r . ليكن المجموع $S = u_0 + u_1 + \dots + u_{n-1} + u_n$</p> <p>من أجل كل عدد طبيعي n : $S = \frac{n+1}{2}(u_0 + u_n)$.</p> <p>وبصفة عامة</p> <p>وبصفة عامة مجموع حدود متتالية حسابية يساوي:</p> <div style="border: 1px solid black; padding: 10px; width: fit-content; margin: 10px auto;"> $\frac{\text{عدد الحدود}}{2} \times (\text{الحد الأول الوارد في المجموع} + \text{الحد الأخير})$ </div> <p>ملاحظة : عدد الحدود يساوي: دليل الحد الأخير - دليل الحد الأول الوارد في المجموع + 1</p>	البناء و الترسيع

تطبيق:

نعتبر المتتالية الحسابية (u_n) المعرفة بـ: $u_0 = 2$ و $u_{n+1} = u_n - 2$ من أجل كل عدد طبيعي n
- أحسب المجاميع التالية

$$u_0 + u_1 + \dots + u_{12} \quad \bullet$$

$$u_1 + \dots + u_{18} \quad \bullet$$

$$u_{45} + \dots + u_{108} \quad \bullet$$

15د

التقييم

الأستاذ:ياحي رشيد المستوى: سنة ثانية علوم تجريبية. التاريخ:2014/02/24م الزمن: 1 سا. الوسائل التعليمية: الصبورة.		ثانوية عبد المجيد علاهم الميدان: تحليل الوحدة التعليمية: المتتاليات العددية. الموضوع: المتتالية الهندسية. الكفاءات المستهدفة: تعريف متتالية هندسية والتعرّف عليها تبعا لطريقة توليدها ووصفها باستعمال التعبير المناسب.	
مراحل الدرس	المحتوى المعرفي	المدة	توجيهات وتعليقات
التشخيص و الإكتشاف	نشاط: لتكن المتتالية (u_n) المعرفة على مجموعة الأعداد الطبيعية كما يلي : $u_n = 2 \times 3^n$. أحسب $u_0 ; u_1 ; u_2 ; u_3 ; u_4$. أكتب الحدود $u_1 ; u_2 ; u_3 ; u_4$ ، بدلالة u_0 ثم خمن كتابة u_n بدلالة u_0 .	15د	
البناء و الترسيخ	مفهوم متتالية هندسية : تعريف: نقول أن المتتالية (u_n) متتالية هندسية حدها الأول u_0 إذا و فقط إذا وجد عدد حقيقي q حيث أن من أجل كل عدد طبيعي n : $u_{n+1} = u_n \times q$. يسمى q أساس المتتالية (u_n) . ملاحظة: • إذا كان $q = 1$ فإن المتتالية ثابتة جميع حدودها تساوي u_0 . • إذا كان $q = 0$ فإن حدود المتتالية معدومة إبتداءا من الحد الثاني . مثال: المتتالية (u_n) حيث أن $u_n = 3 \times 2^n$ متتالية هندسية حدها الأول $u_0 = 3$ أساسها $q = 2$. الحد العام لمتتالية هندسية : مبرهنة (u_n) متتالية هندسية حدها الأول u_0 أساسها q .عبارة الحد العام للمتتالية الهندسية (u_n) هي $u_n = u_0 \times q^n$ ملاحظات: • إذا كان الحد الأول u_1 عبارة الحد العام $u_n = u_1 \times q^{n-1}$. • بصفة عامة إذا كان u_p (p عدد طبيعي أصغر من n) فإن: $u_n = u_p \times q^{n-p}$.	30د	
التقييم	تطبيق: (u_n) متتالية هندسية حيث $u_6 = 192$ و $u_3 = 24$ أحسب الأساس q والحد الأول u_0 . أكتب عبارة الحد العام u_n بدلالة n .	15د	

		<p>الأستاذ:ياحي رشيد المستوى: سنة ثانية علوم تجريبية. التاريخ:2014/02/24م الزمن: 1 سا. الوسائل التعليمية: الصبورة.</p>	<p>ثانوية عبد المجيد علام الميدان: تحليل الوحدة التعليمية: المتتاليات العددية. الموضوع: حساب مجموع n حدا متتابعة من متتالية هندسية.. الكفاءات المستهدفة: حساب مجموع n حدا متتابعة لمتتالية هندسية.</p>
توجيهات وتعليقات	المدة	المحتوى المعرفي	
		مراحل الدرس	

التشخيص و الإكتشاف	<p>نشاط</p> <p>نعتبر المتتالية الهندسية (u_n) المعرفة ب: $u_0 = 2$ و $u_{n+1} = 3u_n$ من أجل كل عدد طبيعي n أحسب $u_0 + u_1 + u_2 + u_3 + u_4 + u_5$؛ $2 \left(\frac{1 - 3^6}{1 - 3} \right)$؛ قارن بينهما.</p>	<p>البناء</p> <p>مجموع حدود متتابعة من متتالية هندسية : مبرهنة 1: (u_n) متتالية هندسية حدها الأول u_0 أساسها q. ليكن المجموع $S = u_0 + u_1 + \dots + u_{n-1} + u_n$ • إذا كان $q = 1$ فإن $S = (n+1)u_0$ من أجل كل عدد طبيعي n. • إذا كان $q \neq 1$ فإن $S = u_0 \left(\frac{1 - q^{n+1}}{1 - q} \right) = u_0 \left(\frac{q^{n+1} - 1}{q - 1} \right)$ من أجل كل عدد طبيعي n. S يساوي الحد الأول مضروب في النسبة $\left(\frac{1 - q^{n+1}}{1 - q} \right)$ حيث $n+1$ هو عدد الحدود.</p> <p>ملاحظة وبصفة عامة مجموع حدود متتابعة من متتالية هندسية أساسها يختلف عن 1 ($q \neq 1$) يساوي:</p> <div style="border: 1px solid black; padding: 5px; width: fit-content; margin: 10px auto;"> $\left(\frac{1 - q^{\text{عدد الحدود}}}{1 - q} \right) \times \text{الحد الأول الوارد في المجموع}$ </div>	<p>التقييم</p> <p>تطبيق: (u_n) متتالية هندسية حدها الأول $u_0 = 2$ وأساسها $q = 3$. - أحسب المجموع التالي: $u_0 + u_1 + \dots + u_{12}$ •</p> <p>الوسط الهندسي أعمال موجهة صفحة 158.</p>	<p>الأستاذ: ياحي رشيد المستوى: سنة ثانية علوم تجريبية. التاريخ: 2014/02/26م الزمن: 2 سا. الوسائل التعليمية: الصبورة.</p>
البناء و			<p>ثانوية عبد المجيد علاهم الميدان: تحليل. الوحدة التعليمية: النهايات. الموضوع: حساب النهاية • الكفاءات القاعدية: حساب نهاية دالة عندما يؤول x إلى x_0 أو إلى $+\infty$ أو $-\infty$..</p>	

مراحل الدرس	المحتوى المعرفي	المدة	توجيهات وتعليقات																		
التشخيص و الإكتشاف	<p>نشاط 01: نعتبر الدالة f المعرفة على $\mathbb{R} - \{3\}$ كما يلي: $f(x) = \frac{1}{(x-3)^2}$</p> <p>1. أكمل، باستعمال آلة حاسبة، جدول القيم الموالي:</p> <table border="1"> <tr> <td>x</td> <td>2.9</td> <td>2.99</td> <td>2.999</td> <td>2.9999</td> <td>3.0001</td> <td>3.001</td> <td>3.01</td> <td>3.1</td> </tr> <tr> <td>$f(x)$</td> <td></td> <td></td> <td></td> <td></td> <td></td> <td></td> <td></td> <td></td> </tr> </table> <p>2. ماذا تلاحظ؟</p> <p>3. ماذا يمكن القول عن نهاية f لما يؤول x إلى 3.</p>	x	2.9	2.99	2.999	2.9999	3.0001	3.001	3.01	3.1	$f(x)$									10د	
x	2.9	2.99	2.999	2.9999	3.0001	3.001	3.01	3.1													
$f(x)$																					
البناء و الترسيع	<p>1. نهاية غير منتهية عند عدد حقيقي</p> <p>تعريف: القول أن نهاية دالة f عند عدد حقيقي x_0 هي $+\infty$ يعني أنه يمكن جعل قيم $f(x)$ كبيرة جدا بالقدر الذي نريد شريطة أن يأخذ x قيمة قريبة من x_0 بالقدر الكافي ونكتب $\lim_{x \rightarrow x_0} f(x) = +\infty$.</p> <p>مبرهنة: نقبل دون برهان النتيجة التالية: $\lim_{x \rightarrow a} \frac{1}{(x-a)^2} = +\infty$</p> <p>مثال: $\lim_{x \rightarrow 0} \frac{1}{x^2} = +\infty$ ، $\lim_{x \rightarrow 5} \frac{1}{(x-5)^2} = +\infty$</p>	15د																			
التشخيص و الإكتشاف	<p>نشاط 02: نعتبر الدالة g المعرفة على $\mathbb{R} - \{1\}$ كما يلي: $g(x) = \frac{1}{x-1}$</p> <p>1. أكمل، باستعمال آلة حاسبة، جدول القيم الموالي:</p> <table border="1"> <tr> <td>x</td> <td>0.9</td> <td>0.99</td> <td>0.999</td> <td>0.9999</td> <td>1.0001</td> <td>1.001</td> <td>1.01</td> <td>1.1</td> </tr> <tr> <td>$g(x)$</td> <td></td> <td></td> <td></td> <td></td> <td></td> <td></td> <td></td> <td></td> </tr> </table> <p>2. ماذا تلاحظ؟</p> <p>3. ماذا يمكن القول عن نهاية g لما يؤول x إلى 1 بقيم أصغر.</p> <p>4. ماذا يمكن القول عن نهاية g لما يؤول x إلى 1 بقيم أكبر.</p>	x	0.9	0.99	0.999	0.9999	1.0001	1.001	1.01	1.1	$g(x)$									15د	
x	0.9	0.99	0.999	0.9999	1.0001	1.001	1.01	1.1													
$g(x)$																					
البناء و الترسيع	<p>2. النهاية من اليمين والنهاية من اليسار.</p> <p>تعريف 2: القول أن نهاية دالة f عند عدد حقيقي x_0 بقيم صغرى (النهاية من اليسار) هي $-\infty$ يعني أنه يمكن جعل قيم $f(x)$ صغيرة جدا بالقدر الذي نريد شريطة أن يأخذ x قيمة قريبة من x_0 بالقدر الكافي ونكتب $\lim_{x \rightarrow x_0} f(x) = -\infty$.</p> <p>تعريف 3: القول أن نهاية دالة f عند عدد حقيقي x_0 بقيم كبرى (النهاية من اليمين) هي $+\infty$ يعني أنه يمكن جعل قيم $f(x)$ كبيرة جدا بالقدر الذي نريد شريطة أن يأخذ x قيمة قريبة من x_0 بالقدر الكافي ونكتب $\lim_{x \rightarrow x_0} f(x) = +\infty$.</p> <p>مبرهنة 3: نقبل دون برهان النتيجتين التاليتين: $\lim_{x \rightarrow a} \frac{1}{x-a} = +\infty$ ، $\lim_{x \rightarrow a} \frac{1}{x-a} = -\infty$</p> <p>أمثلة: $\lim_{x \rightarrow 5} \frac{1}{x-5} = +\infty$ ، $\lim_{x \rightarrow 1} \frac{1}{x-1} = -\infty$</p>	25د																			

20

نشاط 03: نعتبر الدالة h المعرفة على $\mathbb{R} - \{0\}$ كما يلي: $h(x) = \frac{2x+1}{x}$

- بين أن $h(x) = a + \frac{b}{x}$ حيث a و b عدنان حقيقيان يطلب تعيينهما.
- أكمل جدولتي القيم المواليتين:

x	10	10^2	10^3	-10^4
$h(x)$				

x	-10	-10^2	-10^3	-10^4
$h(x)$				

3. ماذا تلاحظ؟

ب-ماذا يمكن القول عن نهاية الدالة h لما يؤول x إلى $-\infty$ ، $+\infty$.

التشخيص

و

الإكتشاف

30

نهاية منتهية عند ما لانهاية

تعريف: القول أن نهاية دالة f عند عدد حقيقي $+\infty$ هي b (عدد حقيقي) يعني أنه يمكن جعل قيم $f(x)$ قريبة جدا من b بالقدر الذي نريد شريطة أن يأخذ x قيمة كبيرة جدا بالقدر الكافي ونكتب $\lim_{x \rightarrow +\infty} f(x) = b$.

مبرهنة: نقبل دون برهان النتيجة التالية: $\lim_{|x| \rightarrow +\infty} \frac{1}{(x-a)} = 0$. حيث a عدد حقيقي.

نعتبر الدالة f المعرفة على $\mathbb{R} - \{0\}$ كما يلي: $f(x) = \frac{1}{x} + 3$

أحسب $\lim_{x \rightarrow -\infty} f(x)$ ، $\lim_{x \rightarrow +\infty} f(x)$

ملاحظات:

1. يمكن الحصول على تعاريف لنهايات أخرى. مثال ، $\lim_{x \rightarrow a} f(x) = l$ ، $\lim_{|x| \rightarrow +\infty} f(x) = +\infty$ ،

البناء

و

التسيخ

الأستاذ:ياحي رشيد المستوى: سنة ثانية علوم تجريبية. التاريخ:2014/03/09م الزمن: 2 سا. الوسائل التعليمية: الصبورة.		ثانوية عبد المجيد علام الميدان: تحليل. الوحدة التعليمية: النهايات. الموضوع: السلوك التقاربي لمنحنى دالة. الكفاءات القاعدية : التفسير البياني لنهاية غير منتهية لدالة عندما يؤول x إلى x_0 - معرفة شرط وجود مستقيم مقارب للمنحنى يوازي أحد محوري المعلم- تبرير أن مستقيما معلوما هو مستقيم مقارب.	
مراحل الدرس	المحتوى المعرفي	المدة	توجيهات وتعليقات
التشخيص و الإكتشاف	نشاط 01: نعتبر الدالة f المعرفة على $\mathbb{R} - \{3\}$ كما يلي: $f(x) = \frac{1}{(x-3)^2}$ - أحسب $\lim_{x \rightarrow 3} \frac{1}{(x-3)^2}$ - كيف تفسر هذه النتيجة بيانيا.	10د	
البناء و الترسيخ	1. المستقيم المقارب الموازي لمحور الترتيب تعريف: ليكن (C_f) التمثيل البياني لدالة f في معلم و ليكن a عدد حقيقي. إذا كانت النهاية للدالة f عند العدد a هي $+\infty$ أو $-\infty$ نقول أن المستقيم الموازي لمحور الترتيب ذو المعادلة $x = a$ مستقيم مقارب للمنحنى (C_f) . مثال: نعتبر الدالة f المعرفة على $]-1; 0[\cup]-2; -1[$ بـ: $f(x) = -1 + \frac{1}{(x+1)^2}$ و ليكن (C_f) تمثيلها البياني في معلم. 1. أحسب نهاية الدالة f عند (-1) ، ثم فسر النتيجة بيانيا .	25د	
التشخيص و الإكتشاف	نعتبر الدالة f المعرفة على $\mathbb{R} - \{0\}$ كما يلي: $f(x) = \frac{1}{x} + 3$ - أحسب $\lim_{x \rightarrow +\infty} f(x)$ كيف تفسر هذه النتيجة بيانيا.	10د	
البناء و الترسيخ القيّم	2. مستقيم المقارب الموازي لمحور الفواصل ليكن (C_f) التمثيل البياني لدالة f في معلم و ليكن b عدد حقيقي. القول أن المستقيم الموازي لمحور الفواصل ذو المعادلة $y = b$ مستقيم مقارب للمنحنى (C_f) عند $+\infty$ (على الترتيب عند $-\infty$) يعني أن $\lim_{x \rightarrow +\infty} f(x) = b$ (على الترتيب $\lim_{x \rightarrow -\infty} f(x) = b$) مثال: نعتبر الدالة f المعرفة على $\mathbb{R} - \{-1\}$ بـ: $f(x) = \frac{2x-1}{x+1}$ و ليكن (C_f) تمثيلها البياني في معلم. بين أنه من أجل كل عدد حقيقي x من $\mathbb{R} - \{-1\}$ يكون: $f(x) = 2 - \frac{1}{x+1}$.	25د	

60

أحسب : $\lim_{x \rightarrow -\infty} f(x)$ ، $\lim_{x \rightarrow +\infty} f(x)$ ، ثم فسر النتائج بيانياً .

نشاط

نعتبر الدالة f المعرفة على $\mathbb{R} - \{0\}$ كما يلي :

$$f(x) = \frac{x^2 + x + 1}{x}$$
 1. بين أنه من أجل كل عدد حقيقي x من $\mathbb{R} - \{0\}$ لدينا : $f(x) = x + 1 + \frac{1}{x}$
 2. أحسب $\lim_{x \rightarrow +\infty} f(x) - (x + 1)$ ، $\lim_{x \rightarrow -\infty} f(x) - (x + 1)$. فسر النتائج بيانياً .

3. المستقيم المقارب المائل

تعريف: ليكن (C_f) التمثيل البياني لدالة f في معلم و ليكن (Δ) المستقيم ذو المعادلة : $y = ax + b$
 القول أن المستقيم (Δ) مستقيم مقارب للمنحني (C_f) عند $+\infty$ (على الترتيب عند $-\infty$) يعني أن :

$$\left(\lim_{x \rightarrow -\infty} [f(x) - (ax + b)] = 0 \right) \text{ على الترتيب } \left(\lim_{x \rightarrow +\infty} [f(x) - (ax + b)] = 0 \right)$$

تمرين

نعتبر الدالة f المعرفة على $]-\infty; 3[\cup]3; +\infty[$:

$$f(x) = x + 2 + \frac{1}{x - 3}$$
 ليكن (C_f) تمثيلها البياني في معلم. و ليكن في نفس المعلم المستقيم (Δ) ذو المعادلة $y = -x + 2$
 بين أن المستقيم (Δ) مستقيم مقارب مائل للمنحني (C_f) عند $-\infty$ و عند $+\infty$.

التقييم

30

الأستاذ: ياحي رشيد
المستوى: سنة ثانية علوم تجريبية.
التاريخ: 2014/03/12م
الزمن: 2 سا.
الوسائل التعليمية: الصبورة.

ثانوية عبد المجيد علام
الميدان: تحليل.
الوحدة التعليمية: النهايات.
الموضوع: عمليات على النهايات.
الكفاءات القاعدية:

توجيهات وتعليقات	المدة	المحتوى المعرفي	مراحل الدرس																																																																																										
		<p style="text-align: center;">عمليات على النهايات</p> <p style="text-align: center;">1. المبرهنات الأولية على النهايات</p> <p>f و g دالتان. a يمثل عدد حقيقي أو $+\infty$ أو $-\infty$. نقبل دون برهان المبرهنات التالية:</p> <p style="text-align: right;">نهاية مجموع دالتين:</p> <table border="1" style="width: 100%; text-align: center;"> <tr> <td>$\lim_{x \rightarrow a} f(x)$</td> <td>$l \in \mathbb{R}$</td> <td>$l \in \mathbb{R}$</td> <td>$l \in \mathbb{R}$</td> <td>$+\infty$</td> <td>$+\infty$</td> <td>$-\infty$</td> </tr> <tr> <td>$\lim_{x \rightarrow a} g(x)$</td> <td>$l \in \mathbb{R}$</td> <td>$+\infty$</td> <td>$-\infty$</td> <td>$+\infty$</td> <td>$-\infty$</td> <td>$-\infty$</td> </tr> <tr> <td>$\lim_{x \rightarrow a} (f(x) + g(x))$</td> <td>$l + l'$</td> <td>$+\infty$</td> <td>$-\infty$</td> <td>$+\infty$</td> <td>ح ع ت</td> <td>$-\infty$</td> </tr> </table> <p style="text-align: right;">نهاية جداء دالتين:</p> <table border="1" style="width: 100%; text-align: center;"> <tr> <td>$\lim_{x \rightarrow a} f(x)$</td> <td>$l \in \mathbb{R}$</td> <td>$l > 0$</td> <td>$l > 0$</td> <td>$l < 0$</td> <td>$l < 0$</td> <td>$+\infty$</td> <td>$+\infty$</td> <td>$-\infty$</td> <td>0</td> <td>0</td> </tr> <tr> <td>$\lim_{x \rightarrow a} g(x)$</td> <td>$\mathbb{R}$ $l' \in$</td> <td>$+\infty$</td> <td>$-\infty$</td> <td>$+\infty$</td> <td>$-\infty$</td> <td>$+\infty$</td> <td>$-\infty$</td> <td>$-\infty$</td> <td>$+\infty$</td> <td>$-\infty$</td> </tr> <tr> <td>$\lim_{x \rightarrow a} (f(x) \times g(x))$</td> <td>$l \times l'$</td> <td>$+\infty$</td> <td>$-\infty$</td> <td>$-\infty$</td> <td>$+\infty$</td> <td>$+\infty$</td> <td>$-\infty$</td> <td>$+\infty$</td> <td>ح ع ت</td> <td>ح ع ت</td> </tr> </table> <p style="text-align: right;">نهاية حاصل قسمة دالتين:</p> <table border="1" style="width: 100%; text-align: center;"> <tr> <td>$\lim_{x \rightarrow a} f(x)$</td> <td>$l \in \mathbb{R}$</td> <td>$l$</td> <td>$l$</td> <td>$+\infty$</td> <td>$+\infty$</td> <td>$-\infty$</td> <td>$-\infty$</td> <td>$+\infty$</td> <td>$+\infty$</td> <td>$-\infty$</td> <td>$-\infty$</td> </tr> <tr> <td>$\lim_{x \rightarrow a} g(x)$</td> <td>$l \in \mathbb{R}$</td> <td>$+\infty$</td> <td>$-\infty$</td> <td>$l' > 0$</td> <td>$l' < 0$</td> <td>$l' > 0$</td> <td>$l' < 0$</td> <td>$+\infty$</td> <td>$-\infty$</td> <td>$+\infty$</td> <td>$-\infty$</td> </tr> <tr> <td>$\lim_{x \rightarrow a} \left(\frac{f(x)}{g(x)} \right)$</td> <td>$\frac{l}{l'}$</td> <td>0</td> <td>0</td> <td>$+\infty$</td> <td>$-\infty$</td> <td>$-\infty$</td> <td>$+\infty$</td> <td>ح ع ت</td> <td>ح ع ت</td> <td>ح ع ت</td> <td>ح ع ت</td> </tr> </table> <p style="text-align: right;">ملاحظة: تسمى الحالات التي لا تسمح فيها النظريات السابقة من استنتاج النهاية بحالات "عدم التعيين" مثال: أحسب النهايات التالية: $\lim_{x \rightarrow -\infty} x^3 - x + 1$, $\lim_{x \rightarrow -\infty} x^2 + x + 1$ نتيجة: نهاية دالة كثير عند $+\infty$ أو $-\infty$ هي نهاية الحد الأعلى درجة. أحسب النهايات التالية: $\lim_{x \rightarrow +\infty} \frac{2x^2 + 8}{x - 3}$, $\lim_{x \rightarrow +\infty} \frac{2x + 8}{x - 3}$</p>	$\lim_{x \rightarrow a} f(x)$	$l \in \mathbb{R}$	$l \in \mathbb{R}$	$l \in \mathbb{R}$	$+\infty$	$+\infty$	$-\infty$	$\lim_{x \rightarrow a} g(x)$	$l \in \mathbb{R}$	$+\infty$	$-\infty$	$+\infty$	$-\infty$	$-\infty$	$\lim_{x \rightarrow a} (f(x) + g(x))$	$l + l'$	$+\infty$	$-\infty$	$+\infty$	ح ع ت	$-\infty$	$\lim_{x \rightarrow a} f(x)$	$l \in \mathbb{R}$	$l > 0$	$l > 0$	$l < 0$	$l < 0$	$+\infty$	$+\infty$	$-\infty$	0	0	$\lim_{x \rightarrow a} g(x)$	\mathbb{R} $l' \in$	$+\infty$	$-\infty$	$+\infty$	$-\infty$	$+\infty$	$-\infty$	$-\infty$	$+\infty$	$-\infty$	$\lim_{x \rightarrow a} (f(x) \times g(x))$	$l \times l'$	$+\infty$	$-\infty$	$-\infty$	$+\infty$	$+\infty$	$-\infty$	$+\infty$	ح ع ت	ح ع ت	$\lim_{x \rightarrow a} f(x)$	$l \in \mathbb{R}$	l	l	$+\infty$	$+\infty$	$-\infty$	$-\infty$	$+\infty$	$+\infty$	$-\infty$	$-\infty$	$\lim_{x \rightarrow a} g(x)$	$l \in \mathbb{R}$	$+\infty$	$-\infty$	$l' > 0$	$l' < 0$	$l' > 0$	$l' < 0$	$+\infty$	$-\infty$	$+\infty$	$-\infty$	$\lim_{x \rightarrow a} \left(\frac{f(x)}{g(x)} \right)$	$\frac{l}{l'}$	0	0	$+\infty$	$-\infty$	$-\infty$	$+\infty$	ح ع ت	ح ع ت	ح ع ت	ح ع ت	البناء
$\lim_{x \rightarrow a} f(x)$	$l \in \mathbb{R}$	$l \in \mathbb{R}$	$l \in \mathbb{R}$	$+\infty$	$+\infty$	$-\infty$																																																																																							
$\lim_{x \rightarrow a} g(x)$	$l \in \mathbb{R}$	$+\infty$	$-\infty$	$+\infty$	$-\infty$	$-\infty$																																																																																							
$\lim_{x \rightarrow a} (f(x) + g(x))$	$l + l'$	$+\infty$	$-\infty$	$+\infty$	ح ع ت	$-\infty$																																																																																							
$\lim_{x \rightarrow a} f(x)$	$l \in \mathbb{R}$	$l > 0$	$l > 0$	$l < 0$	$l < 0$	$+\infty$	$+\infty$	$-\infty$	0	0																																																																																			
$\lim_{x \rightarrow a} g(x)$	\mathbb{R} $l' \in$	$+\infty$	$-\infty$	$+\infty$	$-\infty$	$+\infty$	$-\infty$	$-\infty$	$+\infty$	$-\infty$																																																																																			
$\lim_{x \rightarrow a} (f(x) \times g(x))$	$l \times l'$	$+\infty$	$-\infty$	$-\infty$	$+\infty$	$+\infty$	$-\infty$	$+\infty$	ح ع ت	ح ع ت																																																																																			
$\lim_{x \rightarrow a} f(x)$	$l \in \mathbb{R}$	l	l	$+\infty$	$+\infty$	$-\infty$	$-\infty$	$+\infty$	$+\infty$	$-\infty$	$-\infty$																																																																																		
$\lim_{x \rightarrow a} g(x)$	$l \in \mathbb{R}$	$+\infty$	$-\infty$	$l' > 0$	$l' < 0$	$l' > 0$	$l' < 0$	$+\infty$	$-\infty$	$+\infty$	$-\infty$																																																																																		
$\lim_{x \rightarrow a} \left(\frac{f(x)}{g(x)} \right)$	$\frac{l}{l'}$	0	0	$+\infty$	$-\infty$	$-\infty$	$+\infty$	ح ع ت	ح ع ت	ح ع ت	ح ع ت																																																																																		
			و																																																																																										
			الترسيخ																																																																																										

60ـ

ملاحظة: تسمى الحالات التي لا تسمح فيها النظريات السابقة من استنتاج النهاية بحالات "عدم التعيين"

مثال: أحسب النهايات التالية:

$$\lim_{x \rightarrow -\infty} x^3 - x + 1, \lim_{x \rightarrow -\infty} x^2 + x + 1$$

نتيجة: نهاية دالة كثير عند $-\infty$ أو $+\infty$ هي نهاية الحد الأعلى درجة.

أحسب النهايات التالية:

$$\lim_{x \rightarrow +\infty} \frac{2x^2 + 8}{x - 3}, \lim_{x \rightarrow +\infty} \frac{2x + 8}{x - 3}$$

نتيجة: نهاية دالة ناطقة عند $-\infty$ أو $+\infty$ هي نهاية حاصل قسمة الحد الأعلى درجة في البسط على الحد الأعلى درجة في

المقام.

تطبيق: أحسب النهايات التالية:

التقييم

30ـ

التقييم

الأستاذ:ياحي رشيد المستوى: سنة ثانية علوم تجريبية. التاريخ:2014/03/23م الزمن: 1 سا. الوسائل التعليمية: الصبورة.		ثانوية عبد المجيد علاهم الميدان: تحليل. الوحدة التعليمية: المتتاليات العددية. الموضوع: نهاية متتالية . الكفاءات القاعدية :	
مراحل الدرس	المحتوى المعرفي	المدة	توجيهات وتعليقات
الإكتشاف	<p>نشاط 01</p> <p>أحسب نهاية كل متتالية هندسية مما يلي:</p> <p>(1) المتتالية (u_n) المعرفة على \mathbb{N} بـ : $u_n = 3 \times 2^n$.</p> <p>(2) المتتالية (v_n) المعرفة على \mathbb{N} بـ : $u_n = -5 \times 3^n$.</p> <p>(3) المتتالية (w_n) المعرفة على \mathbb{N} بـ : $u_n = 5 \times \frac{1}{2^n}$.</p>	15د	تخمين نهاية متتالية عددية حدها العام يؤول إلى ما لا نهاية. يمكن أن .
البناء و	<p>نهاية متتالية هندسية.</p> <p>مبرهنة: (u_n) متتالية هندسية حدها الأول u_0 وأساسها q .</p> <ul style="list-style-type: none"> • إذا كان $q > 1$ و $u_0 > 0$ فإن $\lim_{n \rightarrow +\infty} u_n = +\infty$ • إذا كان $q > 1$ و $u_0 < 0$ فإن $\lim_{n \rightarrow +\infty} u_n = -\infty$ • إذا كان $-1 < q < 1$ فإن $\lim_{n \rightarrow +\infty} u_n = 0$ • إذا كان $q \leq -1$ فإن نهاية المتتالية (u_n) غير موجودة . <p>أمثلة:</p> <p>أحسب نهاية كل متتالية هندسية ممايلي إن وجدت :</p> <p>(1) المتتالية (u_n) المعرفة على \mathbb{N} بـ : $u_n = 3 \left(\frac{1}{2}\right)^n$.</p> <p>(4) المتتالية (v_n) المعرفة على \mathbb{N} بـ : $v_n = 3^n$.</p> <p>(3) المتتالية (w_n) المعرفة على \mathbb{N} بـ : $w_n = (-3)^n$.</p>	40د	نختار كمثال على ذلك نهاية متتالية هندسية أساسها أكبر من 1.
الترسيخ			

--	--	--	--

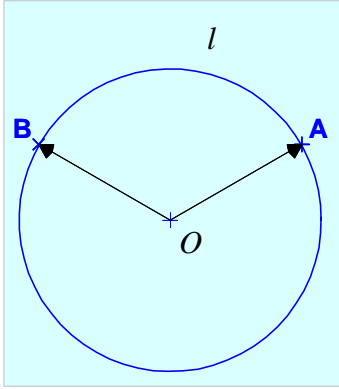
<p>الأستاذ:ياحي رشيد المستوى: سنة ثانية علوم تجريبية. التاريخ:2014/03/25م الزمن: 2 سا. الوسائل التعليمية: الصبورة.</p>	<p>ثانوية عبد المجيد علاهم الميدان: هندسية. الوحدة التعليمية: الزوايا الموجهة وحساب المثلثات. الموضوع: الزوايا الموجهة. الكفاءات القاعدية : استعمال خواص الزوايا الموجهة لإثبات تقايس الزوايا. تعيين أقياس زاوية موجهة لشعاعين.</p>		
<p>توجيهات وتعليقات</p>	<p>المدة</p>	<p>المحتوى المعرفي</p>	<p>مراحل الدرس</p>

اتم جدول التناسبية التالي

الراديان	$\frac{\pi}{6}$	$\frac{\pi}{3}$	$\frac{\pi}{2}$	π	$\frac{3\pi}{2}$	360^0
الدرجة		45^0	120^0			

15

(C) الدائرة المثلثية التي مركزها O و نصف قطرها l الموجهة الاتجاه الموجب المعاكس لإتجاه دوران عقارب الساعة .



30

لتكن A و B نقطتين من الدائرة (C) (أنظر الشكل المقابل) .

بتحرك A نحو B في الإتجاه الموجب (للمرة الأولى) تعرف لنا النقطتان

A و B قوسا \widehat{AB} طولهُ l . اصطلاحا نقول ان l قيس بالراديان للزاوية

\widehat{AOB} المعرفة بالشعاعين \overrightarrow{OA} و \overrightarrow{OB} . و نكتب $l = (\overrightarrow{OA}, \overrightarrow{OB})$.

وإذا تحركت B نحو A في الإتجاه الغير مباشر نكتب $(\overrightarrow{OB}, \overrightarrow{OA}) = -l$.

ضع على الدائرة المثلثية (C) النقط C, D, E, F, G, H, K, L في الحالات الآتية :

$$(1) \text{ ح } \text{ علما أن: } (\overrightarrow{OA}, \overrightarrow{OC}) = \frac{\pi}{4}, (\overrightarrow{OC}, \overrightarrow{OD}) = \frac{\pi}{6}, (\overrightarrow{OD}, \overrightarrow{OE}) = \frac{\pi}{2}, (\overrightarrow{OE}, \overrightarrow{OF}) = \frac{5\pi}{6} .$$

$$(2) \text{ ح } \text{ علما أن: } (\overrightarrow{OA}, \overrightarrow{OC}) = -\frac{\pi}{3}, (\overrightarrow{OC}, \overrightarrow{OD}) = -\frac{\pi}{4}, (\overrightarrow{OD}, \overrightarrow{OE}) = -\frac{2\pi}{3}, (\overrightarrow{OE}, \overrightarrow{OF}) = -\frac{\pi}{6} .$$

الزوايا الموجهة

1. مفاهيم عامة

المستوي الموجه هو المستوي الذي وجهت كل دوائره.

الدائرة الموجهة هي دائرة اختير عليها اتجاهها للحركة .

الدائرة المثلثية هي دائرة موجهة نصف قطرها 1، والدائرة المثلثية المرفقة بمعلم هي دائرة مثلثية مركزها مبدأ المعلم المتعامد والمتجانس.

2. قياس الزوايا الموجهة: في كل ما يأتي نعتبر المستوي موجه:

1. الزاوية موجهة:

ليكن \vec{u} و \vec{v} شعاعين غير معدمين . الثنائية (\vec{u}, \vec{v}) تسمى زاوية موجهة لشعاعين .

إذا كان x قيسا للزاوية الموجهة (\vec{u}, \vec{v}) فإن كل الأعداد من الشكل $x + 2k\pi$ هي قياس للزاوية (\vec{u}, \vec{v}) مع

k عدد صحيح

إصطلاح: نقبل التجاوز في التعبير الذي نعبر به على الزاوية و قيس لها في نفس الوقت ونقول الزاوية (\vec{u}, \vec{v}) تساوي x .

2. القيس الرئيسي

من بين قياس الزاوية الموجهة (\vec{u}, \vec{v}) يوجد قيس وحيد على المجال $]-\pi, \pi]$ يسمى القيس الرئيسي للزاوية

الموجهة (\vec{u}, \vec{v}) .

40

- مثال (1) القيس الرئيسي للزاوية المعدومة (\vec{u}, \vec{u}) هو 0 .
 (2) القيس الرئيسي للزاوية المستقيمة $(\vec{u}, -\vec{u})$ هو π .
 (3) القيس الرئيسي للزاوية القائمة المباشرة هو $\frac{\pi}{2}$.
 (4) القيس الرئيسي للزاوية القائمة غير المباشرة هو $-\frac{\pi}{2}$.

ملاحظة: قيس الزاوية الموجهة يمكن أن يكون سالبا، وقيس الزاوية الهندسية دوما موجب.

نشاط 03.

\vec{u}, \vec{v} شعاعان من المستوي الموجه حيث $(\vec{v}; \vec{u}) = \alpha$ مثل كل زاوية مما يلي ثم اذكر قيسا لها بدلالة α .
 $(\vec{v}; \vec{u}), (\vec{v}; -\vec{u}), (-\vec{v}; \vec{u}), (-\vec{v}; -\vec{u}), (2\vec{v}; 3\vec{u}), (2\vec{v}; -3\vec{u})$.

نتائج:

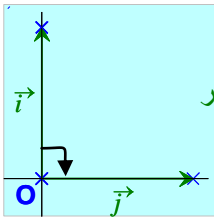
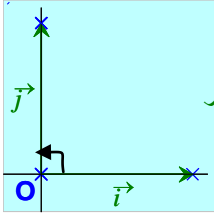
- علاقة شال: (تقبل بدون برهان) من أجل كل ثلاثة أشعة غير معدومة \vec{u}, \vec{v} و \vec{w} لدينا
 $(\vec{u}, \vec{v}) + (\vec{v}, \vec{w}) = (\vec{u}, \vec{w})$
- من أجل كل شعاعين غير معدومين \vec{u} و \vec{v} لدينا : $(\vec{v}, \vec{u}) = -(\vec{u}, \vec{v})$ ،
 $(-\vec{u}, -\vec{v}) = (\vec{u}, \vec{v})$ ، $(-\vec{u}, \vec{v}) = (\vec{u}, \vec{v}) + \pi$ ، $(\vec{u}, -\vec{v}) = (\vec{u}, \vec{v}) + \pi$
- إذا كان $(\vec{v}; \vec{u}) = k\pi$ مع k عدد صحيح فإن الشعاعين \vec{u} و \vec{v} مرتبطين خطيا.
- إذا كان $(\vec{v}; \vec{u}) = \alpha$ و $(\vec{v}'; \vec{u}') = \beta$ فإن $(\vec{u}'; \vec{v}') = \beta - \alpha$ و $(\vec{v}; \vec{u}) = \alpha$ متقايسين يكافئ وجود عدد صحيح k حيث $\beta - \alpha = 2k\pi$. نقول في هذه الحالة أن α و β قيسان لنفس الزاوية أو قيسان لزاويتين متقايستين.
- k و k' عددين صحيحين إذا كان k و k' من نفس الإشارة فإن $(k\vec{u}, k'\vec{v}) = (\vec{u}, \vec{v})$. وإذا كانا مختلفين في الإشارة فإن $(k\vec{u}, k'\vec{v}) = (\vec{u}, \vec{v}) + \pi$.

تمرين 01

لتكن (C) الدائرة المثلثية المرفقة بالمعلم المتعامد و المتجانس $(O; \vec{i}, \vec{j})$. لتكن النقطتين A و B من الدائرة (C) حيث $(\vec{OA}, \vec{OA}) = \frac{\pi}{6}$ و $(\vec{OI}, \vec{OB}) = \frac{3\pi}{4}$.
 - عين قيسا للزاويا الموجهة : (1) (\vec{OJ}, \vec{OA}) . (2) (\vec{OJ}, \vec{OB}) . (3) (\vec{OA}, \vec{OB}) .
 - نقطة M من (C) حيث $(\vec{OI}; \vec{OM}) = \frac{2013\pi}{4}$ أوجد القيس الرئيسي للزاوية $(\vec{OI}; \vec{OM})$ ثم أنشئ النقطة M .

الأستاذ: ياحي رشيد
المستوى: سنة ثانية علوم تجريبية.
التاريخ: 2014/03/30م
الزمن: 2 سا.
الوسائل التعليمية: الصبورة.

ثانوية عبد المجيد علاهم
الميدان: هندسية.
الوحدة التعليمية: الزوايا الموجهة وحساب المثلثات.
الموضوع: جيب و جيب تمام عدد حقيقي.
الكفاءات القاعدية: استعمال خواص الزوايا الموجهة لإثبات تقايس الزوايا.
تعيين أقياس زاوية موجهة لشعاعين.

مراحل الدرس	المحتوى المعرفي	المدة	توجيهات وتعليقات																								
الإكتشاف	<p>نشاط 01</p> <p>M نقطة من (C) والتي هي صورة x ، باعتبار x ينتمي إلى المجال $\left[0, \frac{\pi}{2}\right]$</p> <p>1. عبر عن إحداثياتي M في المعلم (O ; I, J) بدلالة x .</p> <p>1. اتمم الجدول التالي</p>	15د	1.																								
البناء	<table border="1"> <thead> <tr> <th>x</th> <th>0</th> <th>$\frac{\pi}{6}$</th> <th>$\frac{\pi}{4}$</th> <th>$\frac{\pi}{3}$</th> <th>$\frac{\pi}{2}$</th> <th>π</th> <th>$\frac{3\pi}{2}$</th> </tr> </thead> <tbody> <tr> <td>sin x</td> <td></td> <td></td> <td></td> <td></td> <td></td> <td></td> <td></td> </tr> <tr> <td>cos x</td> <td></td> <td></td> <td></td> <td></td> <td></td> <td></td> <td></td> </tr> </tbody> </table>	x	0	$\frac{\pi}{6}$	$\frac{\pi}{4}$	$\frac{\pi}{3}$	$\frac{\pi}{2}$	π	$\frac{3\pi}{2}$	sin x								cos x								40د	
x	0	$\frac{\pi}{6}$	$\frac{\pi}{4}$	$\frac{\pi}{3}$	$\frac{\pi}{2}$	π	$\frac{3\pi}{2}$																				
sin x																											
cos x																											
و	<p>المعلم المتعامد والمتجانس المباشر وغير المباشر</p> <p>تعريف: إذا كان $(\vec{i}, \vec{j}) = \frac{\pi}{2}$ نقول أن المعلم المتعامد والمتجانس $(O; \vec{i}, \vec{j})$ من المستوى مباشر .</p> <p>إذا كان $(\vec{i}, \vec{j}) = -\frac{\pi}{2}$ نقول أن المعلم المتعامد والمتجانس $(O; \vec{i}, \vec{j})$ من المستوى غير مباشر .</p>																										
الترسيخ	<div style="display: flex; justify-content: space-around;"> <div style="text-align: center;">  <p>معلم متعامد ومتجانس غير مباشر</p> </div> <div style="text-align: center;">  <p>معلم متعامد ومتجانس مباشر</p> </div> </div> <p>جيب وجيب تمام عدد حقيقي:</p> <p>x عدد حقيقي . M النقطة المرفقة بالعدد x من الدائرة المثلثية . في المعلم (O ; I, J):</p> <ul style="list-style-type: none"> نسَمي جيب تمام العدد الحقيقي x ، فاصلة النقطة M ونرمز إليه بالرمز cos x . نسَمي جيب العدد الحقيقي x ، ترتيب النقطة M ونرمز إليه بالرمز sin x . <p>نتائج من أجل كل عدد حقيقي x ، لدينا،</p> $\left. \begin{array}{l} -1 \leq \cos x \leq 1 \\ -1 \leq \sin x \leq 1 \end{array} \right\} \begin{array}{l} \cos(x + k \times 2\pi) = \cos x \\ \sin(x + k \times 2\pi) = \sin x \end{array}$																										

تعريف: • جيب تمام زاوية موجهة (\vec{u}, \vec{v}) هو جيب تمام أحد أقياسها بالرديان و نرمز له بالرمز $\cos(\vec{u}, \vec{v})$

• جيب زاوية موجهة (\vec{u}, \vec{v}) هو جيب أحد أقياسها بالرديان و نرمز له بالرمز $\sin(\vec{u}, \vec{v})$.

تطبيق

إستعن بالدائرة المثلثية لإثبات أنه من أجل كل عدد حقيقي x و من أجل كل عدد صحيح k لدينا :

$$\left. \begin{array}{l} \cos(\pi + x) = -\cos x \\ \sin(\pi + x) = -\sin x \end{array} \right\} \cdot \left. \begin{array}{l} \cos(\pi - x) = -\cos x \\ \sin(\pi - x) = \sin x \end{array} \right\} \cdot \left. \begin{array}{l} \cos(-x) = \cos x \\ \sin(-x) = -\sin x \end{array} \right\}$$

$$\left. \begin{array}{l} \cos\left(\frac{\pi}{2} + x\right) = -\cos x \\ \sin\left(\frac{\pi}{2} + x\right) = \cos x \end{array} \right\} \cdot \left. \begin{array}{l} \cos\left(\frac{\pi}{2} - x\right) = \sin x \\ \sin\left(\frac{\pi}{2} - x\right) = \cos x \end{array} \right\}$$

تمرين

بدون استعمال الآلة الحاسبة عين القيم المضبوطة لكل من:

$$\begin{array}{ll} \cdot \sin \frac{25\pi}{6} & (2) \quad \cdot \cos \frac{9\pi}{4} & (1) \\ \cdot \cos \left(-\frac{31\pi}{4}\right) & (4) \quad \cdot \sin \left(-\frac{11\pi}{3}\right) & (2) \end{array}$$

الأستاذ:ياحي رشيد المستوى: سنة ثانية علوم تجريبية. التاريخ:2014/04/06م الزمن: 2 سا. الوسائل التعليمية: الصبورة.	ثانوية عبد المجيد علاهم الميدان: هندسية. الوحدة التعليمية: الزوايا الموجهة وحساب المثلثات. الموضوع: المعادلات والمترجمات المثلثية. الكفاءات القاعدية: حلّ المعادلات المثلثية الأساسية. حلّ مترجمات مثلثية بسيطة.
---	---

مراحل الدرس	المحتوى المعرفي	المدة	توجيهات وتعليقات
الإكتشاف	<p>نشاط 01: a و b عددين حقيقيين.</p> <p>استعن بالدائرة المثلثية لإيجاد علاقة بين a و b في الحالات التالية :</p> <p>1. $\cos a = \cos b$</p> <p>2. $\sin a = \sin b$</p> <p>حل معادلات مثلثية بسيطة:</p> <p>تطبيق 01</p> <p>حل في مجموعة الأعداد الحقيقية المعادلات ذات المجهول الحقيقي x التالية ثم مثل صور الحلول على الدائرة المثلثية</p>	15د	<p>نقصد هنا المترجمات من النوع : $\cos x < a$ $\sin x < b$ فيما يخص المترجمات، نكتفي بحلها على مجال طوله 2π على الأكثر ونمثل مجموعة الحلول على الدائرة المثلثية.</p>
و	<p>حل في مجموعة الأعداد الحقيقية المعادلات ذات المجهول الحقيقي x التالية ثم مثل صور الحلول على الدائرة المثلثية</p> $\cos(2x + \frac{\pi}{2}) = \frac{\sqrt{2}}{2}, \sin x = \frac{1}{2}, \cos x = \frac{\sqrt{3}}{2}$ <p>تطبيق 02 - حل في المجال $[-\pi; \pi]$ المعادلة $\cos x = \frac{1}{2}$. ثم مثل صور الحلول على الدائرة المثلثية</p> <p>- حل في المجال $[0; 2\pi]$ المعادلة $\cos x = \frac{1}{2}$. ثم مثل صور الحلول على الدائرة المثلثية</p> <p>حل مترجمات مثلثية بسيطة:</p> <p>تطبيق 01: حل في المجموعة $[-\pi; \pi]$ المترجمة ذات المجهول الحقيقي x : $2\cos x \geq \sqrt{3}$ ثم مثل صور الحلول على الدائرة المثلثية .</p> <p>تطبيق 02: حل في المجموعة $[0, 2\pi]$ المترجمة ذات المجهول الحقيقي x : $\sin x < -\frac{1}{2}$ ثم مثل الحلول على الدائرة المثلثية.</p>	30د	
التشخيص	<p>تمرين: حل في المجموعة $[0, 2\pi]$ المترجمات ذات المجهول الحقيقي x ثم مثل صور الحلول على الدائرة المثلثية .</p> <p>في كل حالة من الحالات الآتية:</p> <p>(1) $2\cos x < 1$</p> <p>(2) $\sqrt{2}\cos 3x + 2 \leq 0$</p> <p>(3) $\sin 4x - \frac{\sqrt{3}}{2} \leq 0$</p> <p>(4) $\cos 4x - \frac{1}{2} > 0$</p>	15د	
البناء		15د	
و		30د	

--	--	--	--

<p>الأستاذ:ياحي رشيد المستوى: سنة ثانية علوم تجريبية. التاريخ:2014/04/07م الزمن: 1 سا. الوسائل التعليمية: الصبورة.</p>		<p>ثانوية عبد المجيد علاهم الميدان: إحصاء. الوحدة التعليمية: مؤشرات للتشتت. الموضوع: المخطط بالعلبة. الكفاءات القاعدية : تلخيص سلسلة إحصائية بواسطة مخطط بالعلبة.</p>	
توجيهات	المدة	المحتوى المعرفي	مراحل

وتعليقات		الدرس
		التشخيص
		نشاط 01 نعتبر السلسلة الإحصائية التالية
		و
	20	1. أكمل قائمة قيم الطبع الإحصائي مرتبة ترتيبا تصاعديا 4,4,4,4,4,7,7,7,7,10,..... 2. عين وسيط السلسلة 3. عين أول قيمة ترتيبها أكبر أو يساوي ربع التكرار الكلي. 4. عين أول قيمة ترتيبها أكبر أو يساوي ثلاثة أرباع التكرار الكلي.
		الإكتشاف
		الربيعيات
		البناء
	25	الربيعي الأول Q_1 لسلسلة إحصائية تكرارها N هو أول قيمة ترتيبها n حيث $n \geq \frac{N}{4}$. الربيعي الثالث Q_3 لسلسلة إحصائية تكرارها N هو أول قيمة ترتيبها n حيث . الانحراف الربيعي لسلسلة إحصائية هو الفرق بين الربيعي الأول والربيعي الثالث أي $Q_3 - Q_1$.
		و
		ملاحظة
		1. Q_3 قيمتان من السلسلة بخلاف لوسيط Med الذي يمكن ألا يكون قيمة من السلسلة. 2. الانحراف الربيعي هو مؤشر من مؤشرات التشتت
		المخطط بالعلب :
		نكوّن مخططا بالعلب بالطريقة التالية :
		- نضع قيم الطبع على محور (أفقي أو شاقولي) - نعيّن على هذا المحور القيم min ، max ، Q_1 ، Med و Q_3 . (القيمة الصغرى ، القيمة الكبرى ، الربيعيين الأول و الثالث و الوسيط) - نكون عندئذ مستطيلا (العلبة) بالتوازي مع المحور . (طول المستطيل هو الانحراف الربيعي و عرضه كيفي
		تمرين
	15	نعتبر السلسلة الإحصائية التالي
		- عين الوسيط Med و الربيعيين Q_1 و Q_3 لهذه السلسلة - أنشئ مخطط العلبة لهذه السلسلة.
		التقييم
		ثانوية عبد المجيد علاهم الميدان: احصاء . الوحدة التعليمية:
		الأستاذ:ياحي رشيد المستوى: سنة ثانية علوم تجريبية. التاريخ:2014/03/24 الزمن: 2 سا . الوسائل التعليمية: الصبور
توجيهات وتعليقات	المدة	المحتوى المعرفي
		مراحل الدرس

15

x_i	4	7	10
n_i	3	5	2

1. أحسب التكرار الكلي N لهذه السلسلة.
2. أحسب الوسط الحسابي \bar{X} لهذه السلسلة.
3. أحسب العددين V ، σ حيث:

$$\sigma = \sqrt{V}, V = \frac{n_1(x_1 - \bar{X})^2 + n_2(x_2 - \bar{X})^2 + n_3(x_3 - \bar{X})^2}{N}$$

4. علما أن السلسلة السابقة تمثل نتائج تلاميذ في اختبار، قسمها إلى فئات متساوية الطول ابتداء بالفئة من جديد حيث A واحسب العدد من جديد (استعمل مراكز الفئات بدل القيم x_i)

30

5. أحسب العدد e_m حيث: $e_m = \frac{n_1|x_1 - \bar{X}| + n_2|x_2 - \bar{X}| + n_3|x_3 - \bar{X}|}{N}$

التباين و الإنحراف المعياري - الوسط الحسابي للانحرافات المطلقة .

نعتبر السلسلة (x_i, n_i) حيث x_i هي قيم الطبع و n_i تكراراتها مع $\{i \in \{1, 2, 3, \dots, p\}\}$ ،

1. نسمي تباين السلسلة الإحصائية العدد الحقيقي الذي نرمز له بالرمز V والمعرف بالعلاقة :

$$V = \frac{n_1(x_1 - \bar{X})^2 + n_2(x_2 - \bar{X})^2 + \dots + n_p(x_p - \bar{X})^2}{N}$$

مع $N = n_1 + n_2 + \dots + n_p$ و

\bar{X} الوسط الحسابي للسلسلة.

إذا كانت f_i هي تواترات السلسلة حيث $\{i \in \{1, 2, 3, \dots, p\}\}$ فإن: $V = f_1 \times (x_1 - \bar{X})^2 + f_2 \times (x_2 - \bar{X})^2 + \dots + f_p \times (x_p - \bar{X})^2$

2. يسمى العدد الحقيقي \sqrt{V} الانحراف المعياري و يرمز له بالرمز σ و نكتب $\sigma = \sqrt{V}$.

3. نسمي الوسط الحسابي للانحرافات المطلقة العدد الحقيقي e_m حيث:

$$e_m = \frac{n_1|x_1 - \bar{X}| + n_2|x_2 - \bar{X}| + n_3|x_3 - \bar{X}|}{N}$$

40

x_i	4	6	7
n_i	2	3	5

ملاحظة:

تمرين

نعتبر السلسلة الإحصائية التالية:

- 1- أحسب تباينها و إنحرافها المعياري .
- 2- أحسب الوسط الحسابي للانحرافات المطلقة.

الأستاذ:ياحي رشيد
المستوى: سنة ثانية علوم تجريبية.
التاريخ: 2014/03/24م
الزمن: 2 سا.
الوسائل التعليمية: الصبورة.

ثانوية عبد المجيد علاهم
الميدان: احصاء.
الوحدة التعليمية: الزوايا الموجهة وحساب المثلثات.
الموضوع: مؤشرات التشتت.
الكفاءات القاعدية :

مراحل الدرس	المحتوى المعرفي	المدة	توجيهات وتعليقات								
الإكتشاف	<p>نشاط 01</p> <p>1. نعتبر السلسلة الإحصائية التالية</p> <p>- أحسب التكرار الكلي N لهذه السلسلة.</p> <p>- أحسب كل من الوسط الحسابي، التباين والانحراف المعياري لهذه السلسلة.</p> <p>2. أكمل قيم السلسلة الإحصائية التالية حيث $y_i = 2x_i + 3$ و $i \in \{1;2;3\}$.</p> <p>- أحسب كل من الوسط الحسابي، التباين والانحراف المعياري لهذه السلسلة.</p>	15د	<table border="1"> <tr> <td>x_i</td> <td>4</td> <td>7</td> <td>10</td> </tr> <tr> <td>n_i</td> <td>3</td> <td>5</td> <td>2</td> </tr> </table>	x_i	4	7	10	n_i	3	5	2
x_i	4	7	10								
n_i	3	5	2								
التشخيص البناء	<p>التغيير التآلفي :</p> <p>مبرهنة 4 : إذا كانت $A(x_i, n_i)$ سلسلة إحصائية تباينها V_x وانحرافها المعياري s_x و $B(y_i, n_i)$ سلسلة إحصائية بنفس التكرار V_y وانحرافها المعياري s_y و $y_i = a \cdot x_i + b$ مع $a \in \mathbb{R}^*, b \in \mathbb{R}$ من أجل $i \in \{1, 2, 3, \dots, p\}$ يكون لدينا $V_y = a^2 \cdot V_x$ و $s_y = a \cdot s_x$.</p>	30د									
و الترسيخ	<p>1. يقترح مدير شركة على العمال طريقتين لزيادة الأجور</p> <p>* الطريقة الأولى : رفع الأجور كلها بنسبة 5% * الطريقة الثانية : زيادة مبلغ 750 DA للجميع</p> <p>يُفضّل العمال الطريقة التي تتقارب بها الأجور أكثر بعد الزيادة . فإذا علمت أن معدل أجور العمال قبل الزيادة هو 15000 DA و الانحراف المعياري هو 5400 DA . فأى الطريقتين أنسب للعمال ؟</p>	40د									

الأستاذ:ياحي رشيد المستوى: سنة ثانية علوم تجريبية. التاريخ:2014/04/13م الزمن: 2 سا و 30د. الوسائل التعليمية: الصبورة.	ثانوية عبد المجيد علاهم الميدان: هندسة. الوحدة التعليمية: الجداء السلمي في المستوي. الموضوع: الجداء السلمي. الكفاءات القاعدية : حساب الجداء السلمي. لشعاعين غير معدومين- استعمال خواص الجداء السلمي لإثبات علاقات تتعلق بالمتعادم.
---	--

توجيهات وتعليقات	المدة	المحتوى المعرفي	مراحل الدرس
	1د		التشخيص
	20د		الإكتشاف
	15د	<p style="text-align: center;">1. الجداء السلمي لشعاعين</p> <p>تعريف: الجداء السلمي لشعاعين \vec{u} و \vec{v} هو العدد الحقيقي الذي نرمز إليه بالرمز $\vec{u} \cdot \vec{v}$ و المعروف بـ:</p> <ul style="list-style-type: none"> • $\vec{u} \cdot \vec{v} = 0$ إذا كان $\vec{u} = \vec{0}$ أو $\vec{v} = \vec{0}$ • $\vec{u} \cdot \vec{v} = \ \vec{u}\ \ \vec{v}\ \cos(\vec{u}, \vec{v})$ إذا كان $\vec{u} \neq \vec{0}$ و $\vec{v} \neq \vec{0}$ <p style="text-align: right;">حالات خاصة:</p> <ul style="list-style-type: none"> • إذا كان \vec{u} و \vec{v} مرتبطين خطيا و كان لهما نفس الاتجاه فإن $\vec{u} \cdot \vec{v} = \ \vec{u}\ \ \vec{v}\$ لأن $\cos(\vec{u}, \vec{v}) = 1$ • إذا كان \vec{u} و \vec{v} مرتبطين خطيا و كانا اتجاهاهما متعاكسين فإن $\vec{u} \cdot \vec{v} = -\ \vec{u}\ \ \vec{v}\$ لأن $\cos(\vec{u}, \vec{v}) = -1$ • نرمز إلى الجداء السلمي $\vec{u} \cdot \vec{u}$ بـ \vec{u}^2 و نسميه المربع السلمي للشعاع \vec{u} و هكذا $\vec{u}^2 = \ \vec{u}\ ^2$ و بصفة خاصة إذا كانت A و B نقطتين فإن $\overline{AB}^2 = \ \overline{AB}\ ^2 = AB^2$. <p style="text-align: center;">مبرهنة: إذا كان \vec{u} و \vec{v} شعاعين فإن: $\vec{u} \cdot \vec{v} = \frac{1}{2} (\ \vec{u}\ ^2 + \ \vec{v}\ ^2 - \ \vec{u} - \vec{v}\ ^2)$</p> <p style="text-align: center;">2. العبارة التحليلية للجداء السلمي</p> <p>مبرهنة: إذا كانت، في معلم متعامد و متجانس، إحداثيات \vec{u} هي (x, y) و كانت إحداثيات \vec{v} هي (x', y') فإن: $\vec{u} \cdot \vec{v} = xx' + yy'$</p> <p>تطبيق 01: مثلث متقايس الأضلاع حيث $AB = AC = BC = 3$ و لتكن النقط A'، B' و C' منتصفات القطع المستقيمة $[BC]$، $[AC]$ و $[AB]$ على الترتيب. أحسب الجداءات السلمية الآتية: $\overline{AB} \cdot \overline{AC}$، $\overline{BC} \cdot \overline{CA}$، $\overline{CC'} \cdot \overline{AB}$ و $\overline{A'B'} \cdot \overline{AB}$.</p> <p>تطبيق 02: في معلم متعامد و متجانس، النقط A، B و C احداثياتها على الترتيب $(5; 2)$، $(3; 4)$ و $(0; 1)$</p> <p style="text-align: center;">- احسب الجداء السلمي $\overline{AB} \cdot \overline{AC}$.</p> <p style="text-align: center;">3. الأشعة المتعامدة</p> <p>تعريف: القول أن الشعاعين غير المعدومين \vec{u} و \vec{v} متعامدان يعني أنه إذا كان: $\overline{AB} = \vec{u}$ و $\overline{AC} = \vec{v}$ يكون المستقيمان (AB) و (AC) متعامدين.</p>	البناء و الترسيع

تطبيق 01: مثلث متقايس الأضلاع حيث $AB = AC = BC = 3$ و لتكن النقط A' ، B' و C' منتصفات القطع المستقيمة $[BC]$ ، $[AC]$ و $[AB]$ على الترتيب.

أحسب الجداءات السلمية الآتية: $\overrightarrow{AB} \cdot \overrightarrow{AC}$ ، $\overrightarrow{BC} \cdot \overrightarrow{CA}$ ، $\overrightarrow{CC'} \cdot \overrightarrow{AB}$ و $\overrightarrow{A'B'} \cdot \overrightarrow{AB}$.

تطبيق 02: في معلم متعامد و متجانس، النقط A ، B و C احداثياتها على الترتيب $(5; 2)$ ، $(3; 4)$ و $(0; 1)$

- احسب الجداء السلمي $\overrightarrow{AB} \cdot \overrightarrow{AC}$.

4. الأشعة المتعامدة

تعريف: القول أن الشعاعين غير المعدومين \vec{u} و \vec{v} متعامدان يعني أنه إذا كان:

$\overrightarrow{AB} = \vec{u}$ و $\overrightarrow{AC} = \vec{v}$ يكون المستقيمان (AB) و (AC) متعامدين.

ملاحظة: نصلح على أن الشعاع المعدوم عمودي على كل الأشعة.

مبرهنة: القول أن الشعاعين \vec{u} و \vec{v} متعامدان يعني أن $\vec{u} \cdot \vec{v} = 0$.

تمرين: المستوي منسوب الى معلم متعامد و متجانس $(O; \vec{i}, \vec{j})$.

نعتبر النقط $A(1; 1)$ ، $B(3; 4)$ ، $C(3 - \alpha; -1)$.

- أحسب $\overrightarrow{AC} \cdot \overrightarrow{AB}$ ثم عين قيمة α بحيث يكون المثلث ABC قائم في النقطة A .

5. خواص الجداء السلمي

مبرهنة: من اجل كل ثلاث أشعة \vec{u} ، \vec{v} و \vec{w} و من أجل كل عدد حقيقي λ لدينا

$$(1) \quad \vec{u} \cdot \vec{v} = \vec{v} \cdot \vec{u} \quad (2) \quad \vec{u} \cdot (\vec{v} + \vec{w}) = \vec{u} \cdot \vec{v} + \vec{u} \cdot \vec{w} \quad (3) \quad (\vec{u} + \vec{v}) \cdot \vec{w} = \vec{u} \cdot \vec{w} + \vec{v} \cdot \vec{w}$$

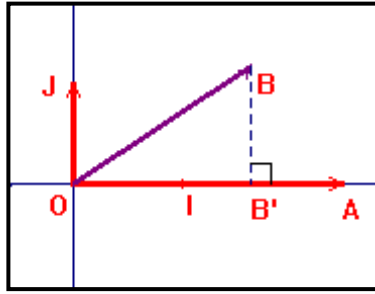
$$(4) \quad (\lambda \vec{u}) \cdot \vec{v} = \lambda (\vec{u} \cdot \vec{v}) \quad (5) \quad \vec{u} \cdot (\lambda \vec{v}) = \lambda (\vec{u} \cdot \vec{v})$$

--	--	--	--

<p>الأستاذ:ياحي رشيد المستوى: سنة ثانية علوم تجريبية. التاريخ:2014/04/21م الزمن: 1 سا. الوسائل التعليمية: الصبورة.</p>	<p>ثانوية عبد المجيد علاهم الميدان: هندسية. الوحدة التعليمية: الجداء السلمي في المستوي. الموضوع: تطبيقات الجداء السلمي الكفاءات القاعدية استعمال خواص الجداء السلمي لإثبات علاقات تتعلق بالتعامد .</p>
--	--

توجيهات وتعليقات	المدة	المحتوى المعرفي	مراحل الدرس
---------------------	-------	-----------------	----------------

نزود المستوي بمعلم متعامد و متجانس $(O; \vec{i}, \vec{j})$
 أحسب كلا من $\vec{OB} \cdot \vec{OA}$ ، $\vec{AB}' \cdot \vec{OA}$ ثم قارن بينهما



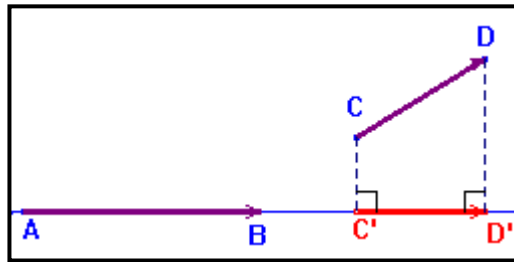
10د

1. الجداء السلمي و الإسقاط العمودي

مبرهنة

10د

مثلث ABC ، مثلث إذا كانت C' المسقط العمودي للنقطة C على (AB) فإن $\vec{AB} \cdot \vec{AC} = \vec{AB} \cdot \vec{AC}'$
نتيجة: إذا كان \vec{AB} و \vec{CD} شعاعين غير معدومين و كانتا C' و D' المسقطان العموديان على الترتيب للنقطتين C و D على المستقيم (AB) فإن: $\vec{AB} \cdot \vec{CD} = \vec{AB} \cdot \vec{C'D}'$



10د

مثال: $ABCD$ مستطيلا حيث $AB = 5$ و $CB = 3$

- احسب كلا من $\vec{AB} \cdot \vec{BD}$ ، $\vec{BC} \cdot \vec{BD}$.

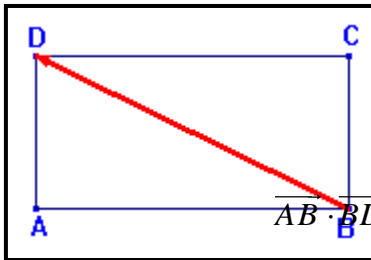
الحل:

$$\vec{AB} \cdot \vec{BD} = \vec{AB} \cdot \vec{BA} = \vec{AB} \cdot (-\vec{AB}) = -\vec{AB}^2 = -AB^2 = -25$$

لأن المسقط العمودي للشعاع \vec{BD} على الشعاع \vec{AB} هو \vec{BA}

$$\vec{BC} \cdot \vec{BD} = \vec{BC} \cdot \vec{BC} = \vec{BC}^2 = 3$$

لأن المسقط العمودي للشعاع \vec{BD} على الشعاع \vec{BC} هو \vec{BC}



ثانوية عبد المجيد علاهم.

الميدان: هندسة.

الوحدة التعليمية: الجداء السلمي في المستوي.

الموضوع: تطبيقات الجداء السلمي.

الكفاءات القبلية : الإرتباط الخطي لشعاعين-الجداء السلمي لشعاعين-تعامد شعاعين

الأستاذ:ياحي رشيد

المستوى: سنة ثانية علوم تجريبية.

التاريخ:2014/04/23م

الزمن: 1 سا.

الوسائل التعليمية: الكوس- الصبورة.

الكفاءات المستهدفة: كتابة معادلة مستقيم علم شعاع ناظمي له ونقطة منه.

مراحل الدرس	المحتوى المعرفي	المدة	توجيهات وتعليقات
التشخيص	ذكر بشرط الإرتباط الخطي لشعاعين $\vec{u}\begin{pmatrix} x \\ y \end{pmatrix}$ و $\vec{v}\begin{pmatrix} x \\ y \end{pmatrix}$ في مستو مزود بمعلم $(O; \vec{i}, \vec{j})$.	01	توظيف شرط الإرتباط الخطي لشعاعين لكتابة معادلة مستقيم.
الإكتشاف	<p>نشاط: في المستوي المنسوب إلى المعلم المتعامد و المتجانس $(O; \vec{i}, \vec{j})$. نعتبر النقطتان $A(3;1)$ و $B(2;4)$.</p> <ol style="list-style-type: none"> 1. ماذا يمثل الشعاع \overrightarrow{AB} بالنسبة للمستقيم (AB) ؟ 2. $M(x; y)$ نقطة من المستقيم (AB)، ماذا يمكن القول عن الشعاعين \overrightarrow{AB} و \overrightarrow{AM} ؟ 3. اكتب معادلة للمستقيم (AB). 4. ليكن $\vec{n}\begin{pmatrix} 3 \\ 1 \end{pmatrix}$ شعاع من المستوي. <p>أ) احسب الجداء السلمي $\vec{n} \cdot \overrightarrow{AB}$ وماذا تستنتج؟</p> <p>ب) $N(x; y)$ نقطة من المستوي، احسب بدلالة x و y الجداء السلمي $\vec{n} \cdot \overrightarrow{AN}$. ثم استنتج معادلة للمستقيم (AB) باعتبار N نقطة متحركة على المستقيم (AB).</p> <p>حل النشاط</p> <ol style="list-style-type: none"> 1. الشعاع \overrightarrow{AB} هو شعاع توجيه للمستقيم (AB). 2. الشعاعان \overrightarrow{AB} و \overrightarrow{AM} مرتبطان خطيا. 3. كتابة معادلة للمستقيم (AB): بما أن الشعاعين $\overrightarrow{AB}\begin{pmatrix} -1 \\ 3 \end{pmatrix}$ و $\overrightarrow{AM}\begin{pmatrix} x-3 \\ y-1 \end{pmatrix}$ مرتبطان خطيا فإن $3(x-3) - (-1)(y-1) = 0$ أي $3x + y - 10 = 0$ و هي معادلة للمستقيم (AB). 4. أ) حساب الجداء السلمي $\vec{n} \cdot \overrightarrow{AB} = 3 \times (-1) + 1 \times 3 = 0$: نستنتج أن الشعاعين \vec{n}، \overrightarrow{AB} متعامدان. <p>ب) حساب بدلالة x و y الجداء السلمي $\vec{n} \cdot \overrightarrow{AN}$: لدينا $\overrightarrow{AN}\begin{pmatrix} x-3 \\ y-1 \end{pmatrix}$ و $\vec{n}\begin{pmatrix} 3 \\ 1 \end{pmatrix}$ ومنه $\vec{n} \cdot \overrightarrow{AN} = 3(x-3) + 1(y-1) = 3x + y - 10$</p> <p>- استنتاج معادلة للمستقيم (AB): إذا كانت N نقطة متحركة على المستقيم (AB)، فهذا يعني أن الشعاعين \overrightarrow{AN} و \overrightarrow{AB} مرتبطين خطيا وبالتالي فهما متوازيان وبما أن الشعاعين \vec{n}، \overrightarrow{AB} متعامدان. فينتج أن الشعاعان \vec{n}، \overrightarrow{AN} متعامدان كذلك ومنه $\vec{n} \cdot \overrightarrow{AN} = 0$ أي $3x + y - 10 = 0$ و هي معادلة للمستقيم (AB).</p>	14	حساب الجداء السلمي لشعاعين بإستعمال العبارة التحليلية.
			<p>شرط تعامد شعاعين في مستوي مزود بمعلم متعامد ومتجانس.</p>

1. الشعاع الناظمي لمستقيم

تعريف: (D) مستقيم. نسمي شعاع ناظمي للمستقيم (D) كل شعاع غير معدوم عمودي على أحد أشعة توجيهه المستقيم (D) .

2. معادلة مستقيم علم شعاع ناظمي له ونقطة منه

نعتبر في المستوي المنسوب إلى المعلم المتعامد والمتجانس $(O; \vec{i}, \vec{j})$ الشعاع غير المعدوم $\vec{n}(a, b)$ والنقطة

$A(x_0, y_0)$ و ليكن (D) المستقيم الذي يشمل A و \vec{n}

شعاع ناظمي له.

(D) هو إذن مجموعة النقط $M(x, y)$ من المستوي بحيث:

$$\vec{AM} \cdot \vec{n} = 0$$

لدينا $\vec{AM}(x - x_0, y - y_0)$ و بالتالي

$$\vec{AM} \cdot \vec{n} = a(x - x_0) + b(y - y_0)$$

إذن تكون $M(x, y)$ نقطة من (D) إذا وفقط إذا كان

$$a(x - x_0) + b(y - y_0) = 0$$

$$ax + by - (ax_0 + by_0) = 0 \text{ أي}$$

بوضع $c = -(ax_0 + by_0)$ ينتج $(D) : ax + by + c = 0$

مبرهنة: في معلم متعامد و متجانس يكون لكل مستقيم حيث الشعاع غير المعدوم $\vec{n}(a, b)$ شعاع ناظمي له معادلة من الشكل: $ax + by + c = 0$ حيث a, b, c أعداد حقيقية و $(a; b) \neq (0; 0)$.

ملاحظة: إذا كانت $ax + by + c = 0$ معادلة لمستقيم (D) فإن شعاع توجيهه له و منه الشعاع

$$\vec{n}(a, b) \text{ شعاع ناظمي للمستقيم } (D) \text{ لأن } \vec{n} \text{ و } \vec{u} \text{ متعامدان مادام } \vec{n} \cdot \vec{u} = 0$$

مثال 01: ليكن المستقيم (Δ) الذي معادله له: $-2x + 5y + 3 = 0$ ومنه $\vec{n}(-2; 5)$ هو شعاع ناظمي له و

$\vec{u}(-5; -2)$ هو شعاع توجيهه له

مثال 02: في المستوي منسوب إلى المعلم المتعامد و المتجانس $(O; \vec{i}, \vec{j})$. معادلة للمستقيم (D) الذي يشمل

$A(1; 2)$ و $\vec{n}(5; 4)$ و شعاع ناظمي له هي من الشكل $5x + 4y + c = 0$. حيث

$$c = -(5 \times 1 + 4 \times 2) = 13 \text{ ومنه } 5x + 4y + 13 = 0 \text{ هي معادلة للمستقيم } (D) \text{ .}$$

تطبيق: في المستوي المنسوب إلى المعلم المتعامد و المتجانس $(O; \vec{i}, \vec{j})$. نعتبر النقط $A(-2; 0)$ ،

$B(2; 1)$ و $C(-3; 3)$

(1) اكتب معادلة لارتفاع المتعلق بالضلع $[BC]$.

(2) اكتب معادلة للمستقيم (Δ) الذي يشمل A و يعامد المستقيم (AB) .

(3) اكتب معادلة للمستقيم (D) الذي يشمل B و يعامد المستقيم ذي المعادلة: $-2y + x + 3 = 0$

حل التطبيق:

1) كتابة معادلة للارتفاع المتعلق بالضلع $[BC]$.
الارتفاع المتعلق بالضلع $[BC]$ هو المستقيم العمودي على (BC) المستقيم ويشمل النقطة $A(-2;0)$ إذا
 $\overline{BC}(-5;2)$ هو شعاع ناظمي له ومنه معادلة له هي من الشكل $-5x + 2y + c = 0$ حيث
 $c = -(-5 \times -2 + 0 \times 2) = -10$ ومنه $-5x + 2y - 10 = 0$ هي معادلة للارتفاع المتعلق بالضلع $[BC]$

1) كتابة معادلة للمستقيم (Δ) الذي يشمل $A(-2;0)$ و يعامد المستقيم (AB) .
 $\overline{AB}(4;1)$ هو شعاع ناظمي لـ (Δ) ومنه معادلة لـ (Δ) هي من الشكل $4x + y + c = 0$ حيث
 $c = -(4 \times -2 + 1 \times 0) = 8$ ومنه $4x + y + 8 = 0$ هي معادلة للمستقيم (Δ) .
2) كتابة معادلة للمستقيم (D) الذي يشمل $B(2;1)$ و يعامد المستقيم ذي المعادلة :
 $-2y + x + 3 = 0$
لدينا $\vec{u}(2;1)$ هو شعاع توجيه للمستقيم الممثل بالمعادلة $-2y + x + 3 = 0$ وبالتالي $\vec{u}(2;1)$ هو
شعاع ناظمي لـ (D) ومنه معادلة لـ (D) هي من الشكل $2x + y + c = 0$ حيث
 $c = -(2 \times 2 + 1 \times 1) = 5$ ومنه $2x + y + 5 = 0$ هي معادلة للمستقيم (D) .

ثانوية عبد المجيد علاهم.

الميدان: هندسة.

الوحدة التعليمية: الجداء السلمي في المستوي.

الموضوع: تطبيقات الجداء السلمي.

الكفاءات القبلية: الجداء السلمي لشعاعين-تعامد شعاعين .

الكفاءات المستهدفة: استعمال خواص الجداء السلمي لكتابة معادلة دائرة.

الأستاذ: ياحي رشيد

المستوى: سنة ثانية علوم تجريبية.

التاريخ: 2014/04/28م

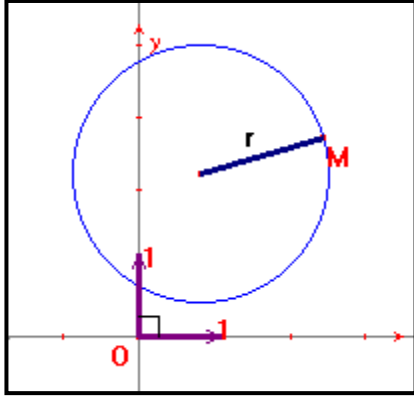
الزمن: 1 سا.

الوسائل التعليمية: الكوس-المدور-الصبورة.

مراحل الدرس	المحتوى المعرفي	المدة	توجيهات وتعليقات
التشخيص	ذكر بشرط تعامد شعاعين $\vec{u}\begin{pmatrix} x \\ y \end{pmatrix}$ و $\vec{v}\begin{pmatrix} x' \\ y' \end{pmatrix}$ في مستوي مزود بمعلم متعامد و متجانس $(O; \vec{i}, \vec{j})$.	01د	
الإكتشاف	<p>نشاط: في المستوي المنسوب إلى المعلم المتعامد و المتجانس $(O; \vec{i}, \vec{j})$. نعتبر النقطتان $A(2;1)$ و $B(0;5)$</p> <p>(I)</p> <p>5. علم النقطتان A, B.</p> <p>6. لتكن Ω منتصف القطعة $[AB]$.</p> <p>- احسب إحداثيتي النقطة Ω.</p> <p>7. لتكن $M(x; y)$ نقطة من الدائرة (C) التي مركزها Ω و نصف قطرها $\frac{AB}{2}$.</p> <p>- عبر بدلالة x و y عن ΩM^2 ثم استنتج معادلة للدائرة (C).</p> <p>(II)</p> <p>لتكن $N(x; y)$ نقطة من الدائرة (C).</p> <p>1. هل الشعاعان \vec{NA} و \vec{NB} متعامدان (برر جوابك)؟</p> <p>2. عبر بدلالة x و y عن الجداء السلمي $\vec{NB} \cdot \vec{NA}$، ثم استنتج معادلة للدائرة (C).</p> <p>حل النشاط</p> <p>الجزء (I)</p> <p>1. تعليم النقطتين A, B.</p> <p>2. حساب إحداثيتي النقطة $\Omega: \Omega\left(\frac{2+0}{2}; \frac{1+5}{2}\right)$ أي $\Omega(1;3)$.</p> <p>3. التعبير بدلالة x و y عن ΩM^2: لدينا $\Omega M^2 = \left(\sqrt{(x-1)^2 + (y-3)^2}\right)^2$ أي</p> $\Omega M^2 = (x-1)^2 + (y-3)^2 \dots (1)$ <p>- استنتج معادلة (C): $M \in (C)$ يعني $\Omega M = \frac{AB}{2}$، أي $\Omega M^2 = \left(\frac{AB}{2}\right)^2$: ومن (1)</p> $(x-1)^2 + (y-3)^2 = \left(\frac{AB}{2}\right)^2$ <p>نجد:</p> $(x-1)^2 + (y-3)^2 = \left(\frac{AB}{2}\right)^2$ <p>هي معادلة للدائرة (C). (يمكن حساب الطول $\left(\frac{AB}{2}\right)^2$).</p>	10د	حساب منتصف قطعة مستقيمة شروط تعامد شعاعين في مستوي مزود بمعلم متعامد ومتجانس. حساب الجداء السلمي لشعاعين يأستعمل العبارة التحليلية.

3. معادلة دائرة

المستوي منسوب إلى المعلم المتعامد و المتجانس $(O; \vec{i}, \vec{j})$.



10د

أ) معادلة دائرة علم مركزها و نصف قطرها

لتكن (C) الدائرة التي مركزها $\Omega(x_0, y_0)$ و نصف قطرها r .
 (C) هي مجموعة النقط $M(x, y)$ حيث: $\Omega M = r$ أي

$$\Omega M^2 = r^2$$

و هذا يعني أن: $(x - x_0)^2 + (y - y_0)^2 = r^2$

مبرهنة: في معلم متعامد و متجانس معادلة الدائرة (C) التي

مركزها $\Omega(x_0, y_0)$ و نصف قطرها r هي:

$$(x - x_0)^2 + (y - y_0)^2 = r^2$$

مثال: $(O; \vec{i}, \vec{j})$ معلم متعامد و متجانس.

1. اكتب معادلة للدائرة (C) التي مركزها $\Omega(1;2)$ و نصف قطرها 5.

02د

التزيخ

الجزء (II)

- بما أن $[AB]$ هو قطر في الدائرة (C) و N نقطة من هذه الدائرة فإن المثلث ANB قائم في النقطة N ، ومنه المستقيمان (NA) و (NB) متعامدان.

- التعبير بدلالة x و y عن الجداء السلمي $\vec{NB} \cdot \vec{NA}$ لدينا $\vec{NB}(-x; 5-y)$ ،
 $\vec{NA}(2-x; 1-y)$

$$\vec{NA} \cdot \vec{NB} = -x(2-x) + (5-y)(1-y)$$

$$\vec{NA} \cdot \vec{NB} = x^2 - 2x + y^2 - 6y + 5$$

$$\vec{NA} \cdot \vec{NB} = x^2 + y^2 - 2x - 6y + 5$$

ومنه :

15د

استنتاج معادلة للدائرة : اذا كانت N تختلف عن A و B : لدينا (NA) و (NB) متعامدان. ومنه \vec{NA}

و $\vec{NB} \cdot \vec{NA} = 0$ متعامدان اذن

اذا كانت N منطبقة على A أو B : يكون لدينا $\vec{NB} \cdot \vec{NA} = 0$ ومنه $x^2 + y^2 - 2x - 6y + 5 = 0$

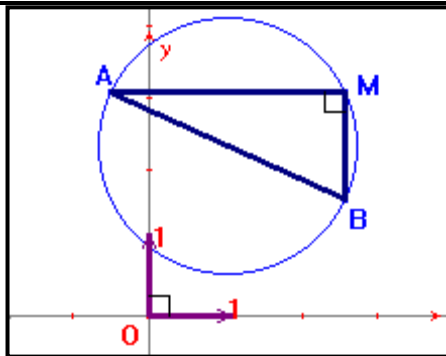
هي معادلة للدائرة (C) .

ب) معادلة دائرة علم قطر لها

لتكن (C) الدائرة التي قطرها $[AB]$. (C) باستثناء A و B هي مجموعة النقط M بحيث يكون المثلث

$$AMB \text{ قائما في } M \text{ أي } \vec{MA} \cdot \vec{MB} = 0$$

لدينا كذلك $\vec{MA} \cdot \vec{MB} = 0$ إذا كانت M منطبقة على A أو على B .



10

مبرهنة: الدائرة التي قطرها $[AB]$ هي مجموعة النقط M
 حيث $\vec{MA} \cdot \vec{MB} = 0$
مثال: في المستوي المنسوب إلى المعلم المتعامد و المتجانس
 $(O; \vec{i}, \vec{j})$. نعتبر النقطتان $A(2;6)$ و $B(2;5)$
 - اكتب معادلة الدائرة التي قطرها $[AB]$

تطبيق

المستوي منسوب الى معلم متعامد ومتجانس $(O; \vec{i}, \vec{j})$.

نعتبر النقط $A(1;1)$ ، $B(3;4)$.

1. أكتب معادلة للدائرة (C) التي مركزها $\Omega(2; \frac{5}{2})$ و نصف قطرها $\sqrt{3}$.

2. أكتب معادلة (C') الدائرة التي قطرها $[AB]$.

3. ناقش تبعا لقيم العدد الحقيقي k طبيعة مجموعة النقط $M(x; y)$ حيث:

20

$$x^2 + y^2 + 2x - 4y + 5 - k = 0.$$

10

