

الجمهورية الجزائرية الديمقراطية الشعبية

الشعبة : **ثالثة علوم تجريبية**
السنة الدراسية : **2018-2019**

ثانوية: **مفدي زكرياء - الأزهرية**
إختبارات **الفصل الأول**

المدة: **02 سا**

إختبار في **مادة: الرياضيات**

التمرين الأول: (07 نقاط)

f الدالة المعرفة على المجموعة D حيث $D = \mathbb{R} - \{-1, 1\}$

بـ : $f(x) = \frac{x^3 + x^2 - 1}{x^2 - 1}$ ، (C_f) تمثيلها البياني في

المستوي المنسوب إلى المعلم المتعامد و المتجانس $(O; \vec{i}; \vec{j})$. كما في الشكل المقابل .

1 [قراءة بيانية أحسب النهايات التالية : $\lim_{x \rightarrow +\infty} f(x)$:

$\lim_{x \rightarrow -1} f(x)$: $\lim_{x \rightarrow 1} f(x)$: $\lim_{x \rightarrow -1} f(x)$: $\lim_{x \rightarrow -\infty} f(x)$

، و عين معادلات المستقيمات المقاربة لـ (C_f) .

2 [أحسب $f'(x)$ من أجل كل x من D ، ثم أدرس إتجاه

تغير f و شكّل جدول تغيراتها .

3 [من أجل كل x من D ، أحسب $f(x) + f(-x)$ ثم فسر

هذه النتيجة بيانيا .

4 [نعتبر الدالة g المعرفة على D بـ $g(x) = f(|x|)$.

أ) أدرس قابلية اشتقاق الدالة g عند القيمة 0 .

ب) تحقق أنّ g زوجية ؛ ثمّ إشرح كيف يمكن رسم (C_g)

إنطلاقا من (C_f) و أرسمها في نفس المعلم .

5 [ناقش حسب قيم الوسيط الحقيقي m عدد حلول المعادلة

ذات المجهول الحقيقي x التالية : $g(x) = |m|$.

التمرين الثاني: (04 نقاط)

1 [حل في \mathbb{R} المعادلة التفاضلية (E_0) التالية : $y' - 2y = 0 \dots (E_0)$.

2 [نعتبر المعادلة التفاضلية (E) التالية : $y' - 2y = 5 \cos x \dots (E)$.

أ) تحقق أنّ الدالة g المعرفة على \mathbb{R} بـ : $g(x) = \sin x - 2 \cos x$ هي حل لـ (E) .

ب) أثبت أنّ f حل لـ E إذا و فقط إذا كان $f - g$ حل لـ (E_0) .

3 [استنتج حلول المعادلة التفاضلية (E) ؛ ثمّ عين الحل الذي ينعدم من أجل $\frac{\pi}{2}$.

التمرين الثالث: (09 نقاط)

1 [الدالة المعرفة على \mathbb{R} بـ : $g(x) = e^x - xe^x + 1$.

1 [أ) بين أنّ : $\lim_{x \rightarrow +\infty} g(x) = -\infty$ ؛ ثمّ أحسب $\lim_{x \rightarrow -\infty} g(x)$

ب) أدرس إتجاه تغير g و شكّل جدول تغيراتها .

2 [بين أنّ المعادلة : $g(x) = 0$ تقبل حلا وحيدا α في \mathbb{R} ؛ ثمّ تحقق أنّ : $1.2 < \alpha < 1.3$.

3 استنتج إشارة $g(x)$ حسب قيم x .

II نعتبر الدالة f المعرفة على \mathbb{R} بـ : $f(x) = \frac{4x}{e^x + 1}$ ، (C_f) تمثيلها البياني في المستوي المنسوب إلي المعلم المتعامد $(O; \vec{i}; \vec{j})$ (وحدة الطول $\|\vec{j}\| = 4\text{cm}$ ، $\|\vec{i}\| = 1\text{cm}$) .

1 أ) أثبت أن : $f'(x) = \frac{4g(x)}{(e^x + 1)^2}$ من أجل كل x من \mathbb{R} .

ب) أدرس اتجاه تغير f و شكل جدول تغيراتها .

2 أ) أثبت أن : $f(\alpha) = 4(\alpha - 1)$.

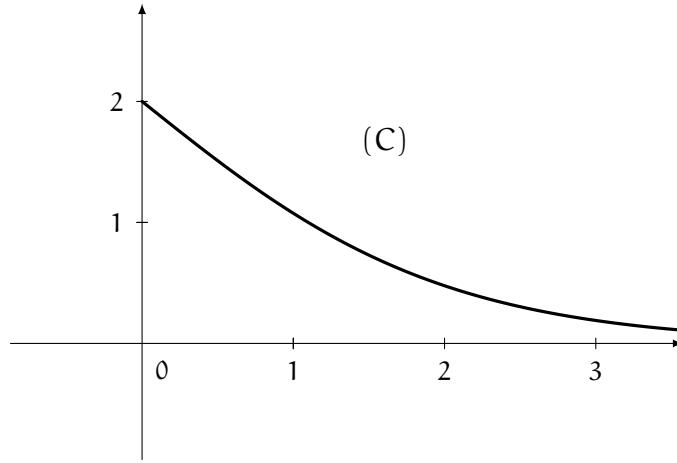
ب) أرسم (C_f) .

III نمثل في الشكل أدناه (C) المنحنى البياني للدالة h المعرفة على المجال $[0; +\infty[$ بـ : $h(x) = \frac{4}{e^x + 1}$ و من

أجل كل عدد حقيقي x موجب نسمي M, P, Q النقط التي إحداثياتها على الترتيب $(x, h(x))$ ، $(x; 0)$ ، $(0, h(x))$.

1 بين أن مساحة المستطيل $OPMQ$ تكون أعظمية ، إذا كانت α فاصلة M .

2 نفرض أن فاصلة M هي α ، أثبت أن المماس (T) في النقطة M لـ (C) يوازي المستقيم (PQ) .



التصحيح المفصل لإمتحان الرياضيات للفصل الأول 3 علوم تجريبية

العلامة		عناصر الإجابة																						
المجموع	مجزأة																							
		<p>التمرين الأول</p> <p>$\lim_{x \rightarrow +\infty} f(x) = +\infty$ و $\lim_{x \rightarrow -\infty} f(x) = -\infty$ و $\lim_{x \rightarrow +\infty} f(x) = +\infty$ /1</p> <p>$\lim_{x \rightarrow 1} f(x) = -\infty$ ، $\lim_{x \rightarrow 1} f(x) = +\infty$ ، $\lim_{x \rightarrow -1} f(x) = -\infty$</p> <p>$(C_f)$ يقبل مستقيمين مقاربين عموديين معادلتيهما $x = 1$ و $x = -1$ ومستقيم مقارب مائل معادلته $y = x + 1$:</p> <p>$f'(x) = \frac{x^2(x^2 - 3)}{(x^2 - 1)^2}$ /2</p> <p>$f'(x) = 0$ معناه $x^2 - 3 = 0$ معناه $x = \sqrt{3}$ أو $x = -\sqrt{3}$</p> <p>$f'(x) > 0$ معناه $x \in]-\infty, -\sqrt{3}[\cup]\sqrt{3}, +\infty[$</p> <p>$f'(x) < 0$ معناه $x \in]\sqrt{3}, -1[\cup]-1, 1[\cup]1, \sqrt{3}[$</p> <p>ومنه: f متزايدة على المجالين $]-\infty, -\sqrt{3}[$ و $]\sqrt{3}, +\infty[$ و متناقصة تماما على المجالين $]-\sqrt{3}, -1[$ و $]1, \sqrt{3}[$ ،</p> <p>جدول التغيرات :</p> <table border="1"> <tr> <td>x</td> <td>$-\infty$</td> <td>$-\sqrt{3}$</td> <td>-1</td> <td>1</td> <td>$\sqrt{3}$</td> <td>$+\infty$</td> </tr> <tr> <td>$f'(x)$</td> <td>+</td> <td>0</td> <td>-</td> <td>-</td> <td>-</td> <td>0</td> <td>+</td> </tr> <tr> <td>$f(x)$</td> <td>$-\infty$</td> <td>$f(-\sqrt{3})$</td> <td>$+\infty$</td> <td>$+\infty$</td> <td>$f(\sqrt{3})$</td> <td>$+\infty$</td> </tr> </table>	x	$-\infty$	$-\sqrt{3}$	-1	1	$\sqrt{3}$	$+\infty$	$f'(x)$	+	0	-	-	-	0	+	$f(x)$	$-\infty$	$f(-\sqrt{3})$	$+\infty$	$+\infty$	$f(\sqrt{3})$	$+\infty$
x	$-\infty$	$-\sqrt{3}$	-1	1	$\sqrt{3}$	$+\infty$																		
$f'(x)$	+	0	-	-	-	0	+																	
$f(x)$	$-\infty$	$f(-\sqrt{3})$	$+\infty$	$+\infty$	$f(\sqrt{3})$	$+\infty$																		
1.5	0.75																							
0.5																								
	0.75																							
	0.5																							
	0.5																							
	0.5																							
		<p>$f(-x) + f(x) = \frac{-x^3 + x^2 - 1}{x^2 - 1} + \frac{x^3 + x^2 - 1}{x^2 - 1} = \frac{2x^2 - 2}{x^2 - 1}$ /3</p> <p>$f(-x) + f(x) = 2$</p> <p>(C_f) يقبل النقطة ذات الإحداثيات $(0, 1)$ مركز تناظر</p> <p>$g(x) = f(x)$ /4</p> <p>$g(x) = \begin{cases} \frac{x^3 + x^2 - 1}{x^2 - 1} , & x \geq 0 \\ \frac{-x^3 + x^2 - 1}{x^2 - 1} , & x \leq 0 \end{cases}$ (أ) ومنه :</p>																						



و ايضا $\lim_{x \rightarrow 0} \frac{g(x) - g(0)}{x} = 0$ ومنه $\lim_{x \rightarrow 0} \frac{g(x) - g(0)}{x} = \lim_{x \rightarrow 0} \frac{x^3}{x(x^2 - 1)}$
 و عليه $\lim_{x \rightarrow 0} \frac{g(x) - g(0)}{x} = 0$ ومنه $\lim_{x \rightarrow 0} \frac{g(x) - g(0)}{x} = \lim_{x \rightarrow 0} \frac{-x^3}{x(x^2 - 1)}$:

0.25

ومنه $\lim_{x \rightarrow 0} \frac{g(x) - g(0)}{x} = 0$ و g تقبل الإشتقاق عند القيمة $x = 0$

0.25

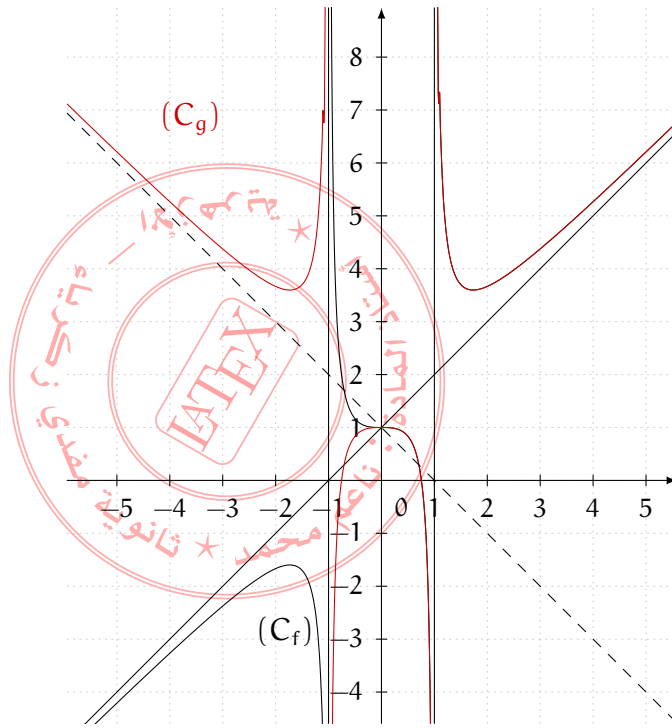
ب) من اجل x من D ، $-x$ عنصر من D و $g(-x) = f(|-x|) = f(|x|)$ لان $|-x| = |x|$:
 ومنه $g(-x) = g(x)$:

0.25

◀ (C_g) ينطبق على (C_f) على المجال $[0; +\infty[$ ثم نناظر هذا الجزء بالنسبة الى حامل محور الترتيب لان الدالة g زوجية .

0.5

الرسم :



5/ حلول المعادلة : $g(x) = |m|$ بيانها هي فواصل تقط المنحنى (C_g) والمستقيم ذو المعادلة

$y = |m|$: الذي يوازي حامل محور الفواصل مهما تغيرت قيمة m

من البيان نجد : إذا كان $0 \leq |m| < 1$ اي $-1 < m < 1$ المعادلة تقبل حلين

إذا كان $|m| = 1$ اي $m = 1$ أو $m = -1$ المعادلة تقبل حلا واحدا


إذا كان $1 \leq |m| < g(\sqrt{3})$ اي $-g(\sqrt{3}) < m < -1$ او $1 < m < g(\sqrt{3})$ المعادلة

لا تقبل حلول

إذا كان $|m| > g(\sqrt{3})$ اي $m > g(\sqrt{3})$ او $m < -g(\sqrt{3})$ المعادلة تقبل أربعة حلول

7

0.5



التمرين الثاني

1 / حلل المعادلة التفاضلية $y' - 2y = 0$ في \mathbb{R} هي الدوال h المعرفة على \mathbb{R} بـ $h(x) = Ce^{2x}$ مع C عدد حقيقي ثابت

1 / $g'(x) = \cos x + 2 \sin x$ ومنه $g'(x) - 2g(x) = 5 \cos x$ ومنه : الدالة g هي حل للمعادلة التفاضلية (E)

ب) حل f لـ (E) معناه : (1) $f'(x) - 2f(x) = 5 \cos x$ ومن السؤال السابق g حل لـ (E) أي : (2) $g'(x) - 2g(x) = 5 \cos x$ بالطرح طرفاً لطرف بين (1) و (2) نجد :

1 / $(f - g)'(x) - 2(f - g)(x) = 0$ أي $f'(x) - g'(x) - 2(f(x) - g(x)) = 0$ ومنه : الدالة $f - g$ هي حل لـ (E₀)

3 / حلل المعادلة (E) في \mathbb{R} هي الدوال f المعرفة على \mathbb{R} بـ $f(x) = Ce^{2x} + \sin x - 2 \cos x$ مع C عدد حقيقي ثابت

0.5 / $f(\frac{\pi}{2}) = 0$ معناه : $Ce^{\pi} + 1 = 0$ ومنه $C = -e^{-\pi}$ ومنه الحل للمعادلة (E) والذي ينعدم من أجل $x = \frac{\pi}{2}$ هو : $f_1(x) = -e^{2x-\pi} + \sin x - 2 \cos x$

4

0.5

التمرين الثالث

1 / (I) لدينا : $g(x) = e^x \left(1 - x + \frac{1}{e^x}\right)$ ولدينا $\lim_{x \rightarrow +\infty} e^x = +\infty$ ، و $\lim_{x \rightarrow +\infty} \frac{1}{e^x} = 0$

0.5 / $\lim_{x \rightarrow -\infty} g(x) = 1$ ، $\lim_{x \rightarrow +\infty} g(x) = -\infty$ ومنه : $\lim_{x \rightarrow +\infty} (1 - x) = -\infty$ ،

(ب) $g'(x) = -xe^x$

$g'(x) = 0$ من أجل $x = 0$

$g'(x) > 0$ من أجل $x \in]-\infty, 0[$

0.5 / $g'(x) < 0$ من أجل $x \in]0, +\infty[$ ومنه الدالة g متزايدة تماماً على المجال $]0, +\infty[$ و متناقصة تماماً على المجال $]0, +\infty[$

0.5

جدول التغيرات

x	$-\infty$	0	$+\infty$
$g'(x)$		$+$	$-$
$g(x)$	1	2	$-\infty$

0.25 / 2 / على المجال $]0, +\infty[$ الدالة g مستمرة و متناقصة تماماً و $g(x) = 0$ ومنه المعادلة : $g(x) = 0$ تقبل حلاً وحيداً ، على المجال $]0, +\infty[$ المعادلة $g(x) = 0$ ليس لها حل لأن g موجبة تماماً على المجال السابق ومنه المعادلة $g(x) = 0$ تقبل حلاً وحيداً α على \mathbb{R}

0.25

لدينا $g(1.2) \times g(1.3) < 0$ ومنه : $1.2 < \alpha < 1.3$



0.5

1/ إشارة $g(x)$

x	$-\infty$	α	$+\infty$
$g(x)$		+	0 -

0.75 $f'(x) = \frac{4g(x)}{(e^x + 1)^2}$: $f'(x) = \frac{4 \times (e^x + 1) - e^x(4x)}{(e^x + 1)^2}$ بعد التبسيط نجد : (II) 1/أ

0.75

ب) إشارة $f'(x)$ هي إشارة $g(x)$ ومنه الدالة f متزايدة تماما على المجال $]-\infty, \alpha[$ ومتناقصة تماما على المجال $]\alpha, +\infty[$

1

جدول التغيرات

x	$-\infty$	α	$+\infty$
$f'(x)$		+	0 -
$f(x)$	$-\infty$	$f(\alpha)$	0

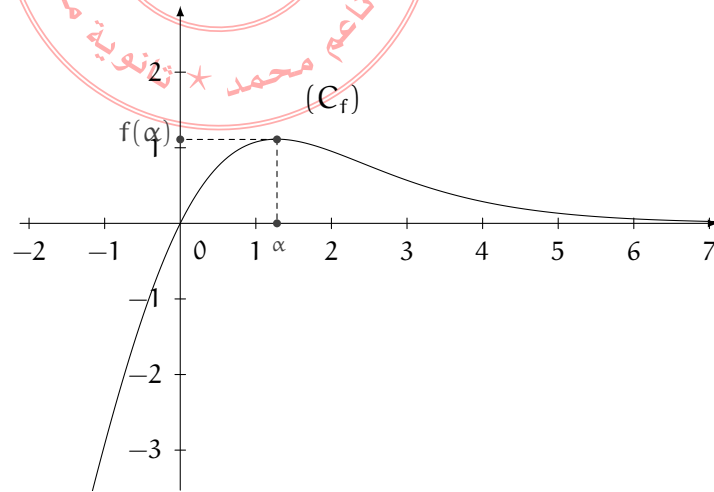
0.5

1

أ/2 لدينا : $f(\alpha) = \frac{4\alpha}{e^\alpha + 1}$ لكن $g(\alpha) = 0$ أي : $e^\alpha - \alpha \times e^\alpha + 1 = 0$:
 $e^\alpha = \frac{1}{\alpha - 1}$ ومنه : $f(\alpha) = \frac{4\alpha}{\frac{1}{\alpha - 1} + 1}$ ومنه $f(\alpha) = \frac{4\alpha(\alpha - 1)}{\alpha}$

$$f(\alpha) = 4(\alpha - 1)$$

الرسم



(III) 1/ مساحة المستطيل OPMQ تساوي : $x \times h(x)$ أي مساحة المستطيل OPMQ تساوي

0.5

: $f(x)$ وهي تمثل $\frac{4x}{e^x + 1}$

0.25

$f(x)$ أعظمية من أجل $x = \alpha$ (لاحظ جدول تغيرات الدالة f) ومنه المساحة تكون أعظمية إذا كانت فاصلة النقطة M هي α



2/ معامل توجيه المماس لـ (C) عند M هو $a_1 = h'(\alpha)$ لكن $a_1 = -\frac{4e^\alpha}{(e^\alpha + 1)^2}$ إذن المماس

لـ (C) معامل توجيهه هو $a_1 = -\frac{4e^\alpha}{(e^\alpha + 1)^2}$ والمستقيم (PQ) معامل توجيهه : $a_2 = \frac{h(\alpha)}{-\alpha}$

$$a_2 = \frac{-4}{\alpha(e^\alpha + 1)} \text{ أي}$$

لكن $g(\alpha) = 0$ أي $e^\alpha - \alpha e^\alpha + 1 = 0$ ومنه $e^\alpha + 1 = \alpha e^\alpha$ أي : $\frac{e^\alpha}{e^\alpha + 1} = \frac{1}{\alpha}$ ومنه

$a_1 = -\frac{4}{\alpha(e^\alpha + 1)}$ وعليه : $a_1 = a_2$ مما يدل على ان المماس (T) والمستقيم (PQ) متوازيان

9

0.75

