

المادة: رياضيات

الأستاذ: بلجري كمال

المؤسسة: سليمان جلول

المستوى والشعبة: الثالثة علوم تجريبية

المحتوى المكرفي: الاحتمالات

الكفاءات المستهدفة: - التعرف على قانون احتمال .

- سير الحصة

ملاحظات	المهمة	التعليق (الأنشطة المرادولة لكل مرحلة)	المرحلة
		<p>* التهيئة النفسية:</p> <p>تذكير:</p> <p>1 مصطلحات:</p> <p>* نقول عن تجربة إنها عشوائية إذا كانت كل إمكانيتها معلومة لكن عندما نجرب لا نستطيع تحديد أي إمكانية منها ستتحقق .</p> <p>مثلا : رمي قطعة نقدية (الوجه أو الظهر) ، رمي زهرة نرد (الأرقام الستة) ، السحب من كيس (ظهور إحدى الكريات) .</p> <p>* نقوم بتجربة عشوائية و نحصل على نتيجة ، نرزم لمجموعة النتائج الممكنة بالرمز Ω و نسميها مجموعة الإمكانيات (الخارج) أو المجموعة الشاملة .</p> <p>* كل عنصر من Ω يسمى إمكانية و كل جزء منها يسمى حادثة (حدث) .</p> <p>* Ω تسمى كذلك الحادثة الأكيدة و \emptyset تسمى الحادثة المستحيلة .</p> <p>* اتحاد الحادثتين A و B هي الحادثة $A \cup B$ تسمى كذلك الحادثة A أو B .</p> <p>* تقاطع الحادثتين A و B هي الحادثة $A \cap B$ تسمى كذلك الحادثة A و B .</p> <p>* عندما تكون الحادثة $A \cap B = \emptyset$ نقول إن الحادثتين A و B غير متلائمتين .</p> <p>* نسمي حادثة عكسية للحادثة A ، المجموعة المتممة للحادثة A في Ω و نرزم لها بـ : \bar{A} .</p> <p>2 قانون الأختمال:</p>	<p>الإنتلاق:</p>
		<p>تعريف: Ω مجموعة مخارج لتجربة عشوائية إمكانياتها x_1, x_2, \dots, x_n و p دالة ترفق بكل عنصر x_i من Ω عددا حقيقيا موجبا p_i .</p> <p>نقول عن p إنه قانون احتمال على Ω إذا و فقط إذا كان : $\sum_{i=1}^n p_i = 1$</p>	<p>بناء المفاهيم:</p>
		<p>3 نمذجة تجربة عشوائية:</p> <p>• عندما يكون عدد مخارج تجربة عشوائية متتبا يعرف على مجموعة المخارج $\Omega = \{x_1, x_2, \dots, x_n\}$ قانون احتمال و ذلك بإعطاء متتالية أعداد (p_1, p_2, \dots, p_n) تحقق : $\sum_{i=1}^n p_i = 1$ و $p_i \geq 0$.</p> <p>• عند القيام بتحقيق تجربة عشوائية ، نقوم باختيار : مجموعة الامكانيات Ω و قانون احتمال p معرف على Ω .</p> <p>نمذجة تجربة عشوائية هو اختيار ال ثنائية (Ω, p) التي تسمى فضاء احتمالي منته .</p>	

ملاحظات	المهمة	النسبة (النشطة المرافقة لكل مرحلة)	المرحلة
		<p>ملاحظات:</p> <ul style="list-style-type: none"> * احتمال حادثة A هو مجموع احتمالات كل المخارج التي تنتمي إلى A. * في حالة تساوي الأعداد p_i نقول إن الاحتمال متساوي التوزيع ، و يتول حساب احتمال حادثة A أي : $p(A)$ إلى مسألة عد . * بعض العبارات التي تدل على تساوي الاحتمالات : لكل الامكانيات نفس الاحتمال أو نفس الحظ ، قطعة (نقد أو نرد) غير مزيفة ، سحب عشوائيا ، كريات لا نفرق بينها باللمس ... <p>مبرهنة: في حالة تساوي احتمال على Ω</p> <p>يكون لدينا من أجل كل حادثة A :</p> $p(A) = \frac{\text{عدد عناصر } A}{\text{عدد عناصر } \Omega}$ <p>مثال: نرمي زهرة نرد غير مزيفة ذات ستة أوجه مرقمة من 1 إلى 6 . لدينا مجموعة المخارج هي : $\Omega = \{1, 2, 3, 4, 5, 6\}$ بما أن : زهرة النرد غير مزيفة (أي أن كل الوجوه لها نفس احتمال الظهور) فهذا يعني أنه من أجل كل عدد طبيعي i من 1 إلى n فإن : $p_i = \frac{1}{6}$. ومنه : احتمال الحادثة A : الحصول على رقم زوجي هو : $\frac{3}{6}$</p> <p>خواص:</p> <ol style="list-style-type: none"> ① $p(\emptyset) = 0$ و $p(\Omega) = 1$ ② $0 \leq p(A) \leq 1$: حادثة لدينا ③ A و B حادثتان كئيفيتان لدينا : ④ $p(A \cup B) = p(A) + p(B) - p(A \cap B)$ ⑤ $p(\bar{A}) = 1 - p(A)$ الحادثة العكسية للحادثة A لدينا <p>تمرين تطبيقي: يحتوي كيس على 15 كرية مرقمة من 1 إلى 15 نسحب كرية واحدة و نسجل رقمها .</p> <ol style="list-style-type: none"> ① عين المجموعة الشاملة Ω . ② عين الحادثة A : الحصول على رقم مضاعف للعدد 5 . ③ عين الحادثة B : الحصول على رقم مضاعف للعدد 3 . ④ عين الحوادث $A \cap B$ و \bar{A} و \bar{B} ثم استنتج الحادثتين $\overline{A \cap B}$ و $\overline{A \cap \bar{B}}$. <p>حيث : \bar{A} و \bar{B} و $\overline{A \cap B}$ هي الحوادث العكسية للحوادث A و B و $A \cap B$ على الترتيب .</p> <p>حل التمرين 03 صفحة 218 حل التمرين 41 و 42 و 44 صفحة 223</p>	<p>بناء المفاهيم:</p> <p>تقويم</p>
			ملاحظات عامة حول الحصة:

المادة: رياضيات

الأستاذ: بلجري كمال

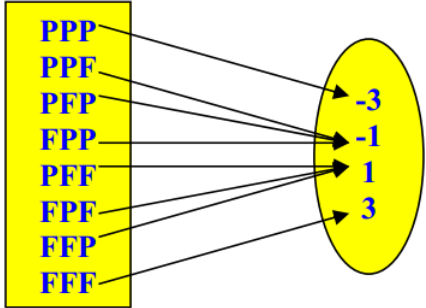
المؤسسة: سليمان جلول

المستوى والشعبة: الثالثة علوم تجريبية

المحتوى المكرفي: الاحتمالات

الكفاءات المستهدفة: - تعيين قانون احتمال متغير عشوائي .

- سير الحصة

ملاحظات	المهمة	التعليق (الأنشطة المرادولة لكل مرحلة)	المرحلة
		<p>* التهيئة النفسية:</p> <p>تذكير:</p> <p>لتكن Ω مجموعة النتائج الممكنة لتجربة عشوائية حيث: $\Omega = \{x_1, x_2, x_3, \dots, x_n\}$ و ليكن p احتمال على Ω.</p> <p>* أمل قانون الاحتمال هو العدد E حيث: $E = \sum_{i=1}^n x_i p_i$.</p> <p>* تباين قانون الاحتمال هو العدد V حيث: $V = \sum_{i=1}^n (x_i - E)^2 p_i$.</p> <p>* الانحراف المعياري لقانون الاحتمال هو العدد $\sigma = \sqrt{V}$.</p> <p>1 المنعبر العشوائي:</p> <p>مثال تمهيدي: نرمي قطعة نقدية متوازنة 3 مرات متتابة و نسجل النتيجة وجه F و ظهر P.</p> <p>مجموعة المخارج هي: $\Omega = \{PPP, PPF, PFP, PFF, FPP, FPF, FFP, FFF\}$</p> <p>نعتبر اللعبة التالية: يرمح اللاعب دينارا واحدا كلما ظهر (وجه F) و يخسر دينارا واحدا كلما ظهر (ظهر P).</p>	الإنتلاف:
		<p>* نعتبر الدالة X التي ترفق بكل نتيجة الرمح (أو الخسارة) المناسب لها.</p> <p>يسمى X المتغير العشوائي المعرف على Ω</p> 	بناء المفاهيم:
		<p>تعريف: المجموعة الشاملة لتجربة عشوائية .</p> <p>نسمي متغيرا عشوائيا كل دالة عددية معرفة على Ω.</p>	
		<p>2 قانون احتمال متغير عشوائي:</p> <p>في المثال السابق نبحث عن احتمال الحادثة: يكون الرمح دينارا واحدا مثلا: نعبّر عن هذه الحادثة بالكتابة $(X = 1)$، و تتحقق هذه الحادثة لما تتحقق الحادثة $A = \{PFF, FFP, FPF\}$ حيث:</p>	

التفسير (الأنشطة المرافقة لكل مرحلة)

ملاحظات

المادة

المرحلة

الربح x	-3	-1	1	3
P(X = x)	$\frac{1}{8}$	$\frac{3}{8}$	$\frac{3}{8}$	$\frac{1}{8}$

لكن $p(A) = \frac{3}{8}$ نكتب : $p(X = 1) = \frac{3}{8}$
الجدول التالي يمثل قانون الاحتمال
للمتغير العشوائي X .

تعريف:

قانون احتمال لمتغير عشوائي X هو الدالة المعرفة على I (مجموعة قيم X) والتي ترفق بكل قيمة x_i من I العدد $p(X = x_i)$.

* الأمل الرياضي:

(Ω, p) فضاء احتمالي ، X متغير عشوائي على Ω قيمه (x_i) واحتمالاتها (p_i)
حيث : i عدا طبيعي غير معدوم .

* الأمل الرياضي للمتغير العشوائي X هو العدد الحقيقي المعروف

$$E(X) = \sum_{i=1}^n p_i x_i \quad \text{بـ :}$$

مثال :

الأمل الرياضي للمتغير العشوائي X المعروف في المثال السابق هو العدد :

$$E(X) = (-3) \times \frac{1}{8} + (-1) \times \frac{3}{8} + 1 \times \frac{3}{8} + 3 \times \frac{1}{8} = 0$$

ملاحظة :

* إذا كان $E(X) = 0$ نقول عن اللعبة إنها عادلة .

* الانحراف المعياري:

(Ω, p) فضاء احتمالي ، X متغير عشوائي على Ω قيمه (x_i) واحتمالاتها (p_i)
و أمله الرياضي $E(X)$.

الانحراف المعياري للمتغير العشوائي X هو الجذر التربيعي للتباين $V(X)$ و نرمز إليه بـ : $\sigma(X)$

$$V(X) = \sum_{i=1}^n p_i (x_i - E(X))^2 = E(X^2) - (E(X))^2 \quad \text{حيث :}$$

مثال : (المثال السابق)

$$\sigma(X) = \sqrt{3} \quad \text{و} \quad V(X) = 9 \times \frac{1}{8} + 1 \times \frac{3}{8} + 1 \times \frac{3}{8} + 9 \times \frac{1}{8} - 0^2 = 3$$

تمرين تطبيقي : نرمي قطعة نقد متوازنة ثلاث مرات متتالية في الهواء ، و نعتبر المتغير العشوائي X الذي يرفق بكل رمية عدد مرات ظهور الوجه .

① اكتب قانون الاحتمال للمتغير العشوائي X .

② احسب الأمل الرياضي للمتغير X .

③ احسب التباين و الانحراف المعياري للمتغير X .

حل التمرين 38 و 39 صفحة 223

نقوم

المادة: رياضيات

الأستاذ: بلجري كمال

المؤسسة: سليمان جلول

المستوى والشعبة: الثالثة علوم تجريبية
المحتوى المكرفي: الاحتمالات

الكفاءات المستهدفة: - تنظيم معطيات من أجل عددها باستعمال المبدأ الأساسي للعد .

- سير الحصة

الملاحظات	المصيدة	التفسير (الأنشطة المرأهقة لكل مرحلة)	الأمثلة
		<p>* التهيئة النفسية: نشاط: ما هو عدد الأعداد التي يمكن تشكيلها من الأرقام : 2 ، 3 ، 5 إذا كانت هذه الأعداد تتكون من : ① رقمين ② رقمين مختلفين ③ ثلاثة أرقام مختلفة العد (القوائم ، الترتيبات ، التبديلات) : ① القوائم :</p> <p>تعريف: مجموعة منتهية عدد عناصرها n (n عدد طبيعي غير معدوم) و p عدد طبيعي ($p \geq 1$) . نسمي قائمة ذات p ($p \geq 1$) عنصرا من E كل متتالية مرتبة من p عنصرا من E عناصر E . حيث : عدد القوائم ذات p عنصرا من E هو : n^p</p>	الإنتلاق:
		<p>التفسير: * لكل عنصر من عناصر القائمة توجد n إمكانية ، إذن عدد القوائم ذات p عنصرا من E هو : $n \times n \times n \times \dots \times n$ (p مرة) أي هو : n^p</p> <p>أمثلة: * عدد الطرائق الممكنة لتلوين مكعب بثلاثة ألوان مختلفة هو : 3^6 طريقة . * عدد الطرائق الممكنة لسحب كرتين على التوالي مع الإعادة من كيس يحتوي على 12 كرية هو : 12^2 طريقة . ② الترتيبات :</p>	بناء المفاهيم:
		<p>تعريف: مجموعة منتهية عدد عناصرها n (n عدد طبيعي غير معدوم) و p عدد طبيعي ($1 \leq p \leq n$) . نسمي ترتيبية p عنصرا من E كل متتالية مرتبة من p عنصرا متمايزة مثنى مثنى من E عناصر E . عدد ترتيبات p عنصرا من E هو العدد الطبيعي : A_n^p حيث : $A_n^p = n(n-1)(n-2)\dots(n-p+1)$</p>	

ملاحظات	المادة	التفسير (النشطة المرافقة لكل مرحلة)	المرحلة
		<p>التفسير:</p> <p>* لتكوين ترتيبية توجد n إمكانية للعنصر الأول ثم $(n-1)$ للعنصر الثاني و أخيرا $(n-p+1)$ للعنصر الأخير الذي رتبته p.</p> <p>ملاحظة: الترتيبية هي قائمة عناصرها متميزة مثنى مثنى .</p> <p>أمثلة:</p> <p>* عدد الطرائق الممكنة لتجليس 5 تلاميذ على 3 مقاعد في صف واحد هو : $A_5^3 = 5 \times 4 \times 3 = 60$. طريقة .</p> <p>* عدد الطرائق الممكنة لسحب كرتين على التوالي دون الإعادة من كيس يحتوي على 12 كرية هو : $A_{12}^2 = 12 \times 11$. طريقة .</p> <p>التبصيرات :</p>	بناء المفاهيم:
		<p>تعريف:</p> <p>نسمي تبدلية لعناصر المجموعة E كل ترتيبية n عنصرا من E . عدد تبديلات مجموعة ذات n عنصرا هي العدد الطبيعي : A_n^n حيث : $A_n^n = n(n-1)(n-2)... \times 2 \times 1$ نرمز لهذا العدد بن : $n!$ أي : $n! = n(n-1)(n-2)... \times 2 \times 1$ و يقرأ : n عاملي .</p>	
		<p>مثال:</p> <p>$6! = 6 \times 5 \times 4 \times 3 \times 2 \times 1$ *</p> <p>اصطلاح: $0! = 1$</p> <p>مثال:</p> <p>* عدد الطرائق الممكنة لترتيب 5 أشخاص للدخول على إحدى المصالح الإدارية هو : $5! = 5 \times 4 \times 3 \times 2 \times 1 = 120$. طريقة .</p> <p>ملاحظة: يمكن كتابة عدد الترتيبات ذات p عنبر من مجموعة بها n عنصر كما يلي :</p> <p>$A_n^p = \frac{n!}{(n-p)!}$</p> <p>مثلا: $A_8^5 = \frac{8!}{3!} = 8 \times 7 \times 6 \times 5 \times 4 = 6720$</p> <p>تمرين تطبيقي : يتكون رقم الهواتف النقالة لشبكة موبيليس من 10 أرقام حيث أول رقمين فيها هما 06 ثابتين .</p> <p>① ما هو عدد الخطوط الممكن تكوينها ؟</p> <p>② ما هو عدد الخطوط الممكن تكوينها بحيث الأرقام الثمانية الأخيرة متميزة مثنى مثنى ؟</p>	نفويهم
		ملاحظات عامة حول الحصة:	

المادة: رياضيات

الأستاذ: بلجري كمال

المؤسسة: سليمان جلول

المستوى والشعبة: الثالثة علوم تجريبية

المحتوى المكرفي: الاحتمالات

الكفاءات المستهدفة: - تنظيم معطيات من أجل عدها باستعمال المبدأ الأساسي للعد .

- سير الحصة

الملاحظات	المصحة	التنبيه (الأنشطة المرادولة لكل مرحلة)	الأمثلة
		<p>* التهيئة النفسية:</p> <p>التوفيقات - دستور ثنائي الحد :</p> <p>① التوفيقات :</p> <p>تعريف: مجموعة متتهية عدد عناصرها n (عدد طبيعي غير معدوم) و p عدد طبيعي حيث $(0 \leq p \leq n)$.</p> <p>نسمي توفيق ذات p عنصرا من عناصر E كل جزء من E ذي p عنصرا من عناصر E .</p> <p>نرمز لعدد التوفيقات ذات p عنصرا من مجموعة ذات n عنصرا بـ : C_n^p أو $\binom{n}{p}$</p> <p>و المعروف بـ : $C_n^p = \frac{A_n^p}{p!} = \frac{n!}{p!(n-p)!}$</p> <p>مثلا:</p> $C_{10}^2 = \frac{10!}{2!(10-2)!} = 45$ <p>أمثلة:</p> <p>* عدد الطرائق الممكنة لاختيار تلميذين من بين 28 تلميذا هو :</p> $C_{28}^2 = \frac{28!}{2!(28-2)!} = 378$ <p>* عدد الطرائق الممكنة لسحب 3 كريات في آن واحد من كيس يحتوي على 12 كرية هو : C_{12}^3 طريقة .</p> <p>ملاحظة :</p> <p>* عدد أجزاء E ذات n عنصرا هو 1 لأن E هي الجزء الوحيد الذي يشمل n عنصرا و منه : $C_n^n = \frac{n!}{n!(0)!} = 1$</p> <p>* لدينا كذلك : $C_n^1 = n$ و $C_n^0 = 1$</p> <p>خواص:</p> <p>① من أجل كل عددين طبيعيين n و p حيث $(0 \leq p \leq n)$ لدينا : $C_n^p = C_n^{n-p}$</p> <p>② من أجل كل عددين طبيعيين n و p حيث $(1 \leq p \leq n-1)$.</p> <p>لدينا : $C_n^p = C_{n-1}^p + C_{n-1}^{p-1}$</p>	<p>الإنتلاق:</p> <p>بناء المفاهيم:</p>

التوسيع (الأشكال المرافقة لكل مرحلة)

p \ n	0	1	2	3	4	5	6
0	1						
1	1	1					
2	1	2	1				
3	1	3	3	1			
4	1	4	6	4	1		
5	1	5	10	10	5	1	
6	1	6	15	20	15	6	1

ملاحظة:

* تمكنا الخاصية الثانية من حساب C_n^p إذا علمنا C_{n-1}^p و C_{n-1}^{p-1} كما هو مبين في الشكل المقابل (مثلث باسكال)

② برهان تناوب الكعب:

مبرهنة: من أجل كل عددين حقيقيين a و b من أجل كل عدد طبيعي

$$(a + b)^n = \sum_{p=0}^n C_n^p a^{n-p} b^p$$

البرهان: (نستعمل الاستدلال بالتراجع)

مثال:

$$(x + 1)^5 = \sum_{p=0}^5 C_5^p x^{5-p} (1)^p = x^5 + 5x^4 + 10x^3 + 10x^2 + 5x + 1$$

③ طرائق اللعب:

مجموعات	سحب من كيس	تشكيل لجان	تشكيل أعداد	الطريقة/ المطلوب
//	على التوالي مع الإعادة	//	الأرقام يمكن أن تتكرر	قائمة
//	على التوالي دون إعادة	المهام محددة	الأرقام لا تتكرر	ترتيبية
أجزاء مجموعة	في آن واحد	المهام غير محددة	//	توفيقية

تمرين تطبيقي: يحتوي كيس على 32 كرية لا نفرق بينها عند اللمس

نسحب 8 كريات عشوائيا .

ما هو عدد الطرائق الممكنة إذا كان :

- ① السحب في آن واحد .
- ② السحب على التوالي و دون إرجاع .
- ③ السحب على التوالي مع الإرجاع .

حل التمرين 14 و 15 صفحة 219

حل التمرين 20 و 24 صفحة 135

نقوم

المادة: رياضيات

الأستاذ: بلجري كمال

المؤسسة: سليمان جلول

المستوى والشعبة: الثالثة علوم تجريبية

المحتوى المفكري: الاحتمالات

الكفاءات المستهدفة: - توظيف الاحتمالات الشريطية لحل مسائل .

- سير الحصّة

ملاحظات	المصحة	التعليق (المراعاة لكل مرحلة)	المراجع																
		<p>* التهيئة النفسية:</p> <p>الاحتمالات الشريطية:</p> <p>مناقشة النشاط 6 صفحة 201:</p> <table border="1"> <thead> <tr> <th>المجموع</th> <th>ألمانية (D)</th> <th>إنجليزية (A)</th> <th>اللغة الحية</th> </tr> </thead> <tbody> <tr> <td>180</td> <td>50</td> <td>130</td> <td>بنون (G)</td> </tr> <tr> <td>220</td> <td>80</td> <td>140</td> <td>بنات (F)</td> </tr> <tr> <td>400</td> <td>130</td> <td>270</td> <td>المجموع</td> </tr> </tbody> </table> <p>① احتمال أن يكون التلميذ المختار بنتا هو : $p(F) = \frac{220}{400} = \frac{11}{20}$</p> <p>② احتمال أن يكون التلميذ المختار يدرس الألمانية هو : $p(D) = \frac{130}{400} = \frac{13}{40}$</p> <p>③ احتمال أن يكون التلميذ المختار يدرس الألمانية علما أنه بنت هو : $p_F(D) = \frac{80}{220} = \frac{4}{11}$</p> <p>④ حساب $\frac{p(D \cap F)}{p(F)}$:</p> <p>لدينا : $p(D \cap F) = \frac{80}{400} = \frac{1}{5}$ و منه : $\frac{p(D \cap F)}{p(F)} = \frac{\frac{1}{5}}{\frac{11}{20}} = \frac{4}{11}$</p> <p>المقارنة : $p_F(D) = \frac{p(D \cap F)}{p(F)}$</p> <p>الاحتمال الشريطي:</p> <p>(Ω, p) فضاء احتمالي ، A و B حادثان حيث $p(A) \neq 0$.</p> <div style="border: 1px solid blue; padding: 5px; margin: 10px 0;"> <p>تعريف: احتمال الحادثة B علما أن A (أي الحادثة A محققة)</p> <p>هو العدد $p_A(B)$ المعروف بـ : $p_A(B) = \frac{p(A \cap B)}{p(A)}$</p> </div> <p>مثال: نرمي قطعة نرد غير مزيفة مرقمة من 1 إلى 6 .</p> <p>- ما هو احتمال الحصول على رقم فردي علما أنه مضاعف للعدد 3 ؟</p> <p>حل:</p> <p>نضع : A : الحصول على عدد مضاعف لـ 3 ، B : الحصول على عدد فردي</p> <p>نجد : $A = \{3, 6\}$ ، $B = \{1, 3, 5\}$ ، $A \cap B = \{3\}$</p> <p>و بالتالي : $p(A) = \frac{2}{6}$ و $p(A \cap B) = \frac{1}{6}$ ومنه : $p_A(B) = \frac{p(A \cap B)}{p(A)} = \frac{1}{2}$</p> <p>لاحظ أن : الأرقام التي هي من مضاعفات 3 في التجربة هي : 3 ، 6 ،</p> <p>احتمال الحصول على عدد فردي منها هو : $\frac{1}{2}$</p>	المجموع	ألمانية (D)	إنجليزية (A)	اللغة الحية	180	50	130	بنون (G)	220	80	140	بنات (F)	400	130	270	المجموع	<p>الإطلاق:</p> <p>بناء المفاهيم:</p>
المجموع	ألمانية (D)	إنجليزية (A)	اللغة الحية																
180	50	130	بنون (G)																
220	80	140	بنات (F)																
400	130	270	المجموع																

ملاحظات	المادة	التفسير (النشطة المرافقة لكل مرحلة)	المرحلة
		<p>ملاحظات :</p> <p>* يجب أن نفرق بين العبارتين : (B و A) و (B علما أن A) الأولى تعني : تحقق الحادثين A و B في آن واحد . الثانية تعني : تحقق B يتبع تحقق A و A محققة سلفا . * عند تساوي الاحتمال يكون :</p> $p_A(B) = \frac{\text{عدد عناصر المجموعة } A \cap B}{\text{عدد عناصر المجموعة } A}$ <p>تمرين تطبيقي «1» : يتكون قسم نهائي من 40% ذكور و 60% إناث . نفرض أن 30% من الذكور و 50% من الإناث هم تلاميذ مجتهدون . نأخذ عشوائيا تلميذا من القسم ، ما هو احتمال الأحداث التالية :</p> <p>A : أن يكون التلميذ ولدا . B : أن يكون التلميذ بنتا . C : أن يكون التلميذ مجتهدا . D : أن يكون التلميذ ولدا علما أنه عنصر مجتهد .</p> <p>حل التمرين التطبيقي «1» :</p> $p(B) = \frac{60}{100} = \frac{3}{5} \quad p(A) = \frac{40}{100} = \frac{2}{5}$ $p(C) = p(A \cap C) + p(B \cap C) = \frac{40}{100} \times \frac{30}{100} + \frac{60}{100} \times \frac{50}{100} = \frac{105}{250}$ $p_C(A) = \frac{p(A \cap C)}{p(C)} = \frac{2}{7}$ <p>تمرين تطبيقي «2» :</p> <p>حل التمرين 47 و 52 صفحة 224</p>	بناء المفاهيم:
			نقوم
		ملاحظات عامة حول الحصة:	

المادة: رياضيات

الأستاذ: بلجري كمال

المؤسسة: سليمان جلول

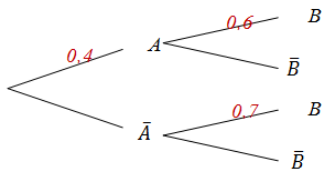
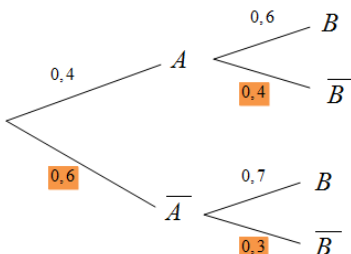
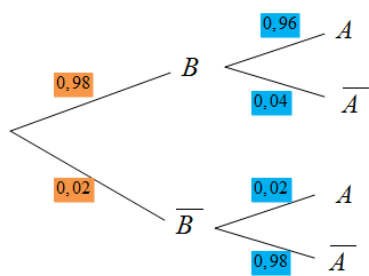
المستوى والشعبة: الثالثة علوم تجريبية

المحتوى المعرفي: الاحتمالات

الكفاءات المستهدفة: - توظيف شجرة الاحتمالات لحل مسائل في الاحتمالات الشرطية .

- سير الحصة

ملاحظات	المصحة	التعليق (الأنشطة المرادولة لكل مرحلة)	المرحلة
		<p>* التهيئة النفسية:</p> <p>شجرة الاحتمالات :</p> <p>فواعد استعمال شجرة الاحتمالات :</p> <ul style="list-style-type: none"> * فرع يبدأ من البداية حتى نهاية طرف الشجرة يمثل تقاطعات كل الحوادث الموجودة في مساره . * مجموع الاحتمالات المكتوبة على الفروع المرسومة من نفس العقدة يساوي 1 . * احتمال الحادثة الممثلة بطرق تساوي جداء الاحتمالات المكتوبة في فروع هذا المسار . * كل عقدة من الشجرة تمثل مرحلة من التجربة . * مثلا : على مسار A ، B ، C نكتب الاحتمالات : $p(A)$ ، $p_A(B)$ ، $p_{A \cap B}(C)$ وهذا المسار يمثل الحادثة $A \cap B \cap C$. <p>مثال :</p> <p>لدينا مايلي :</p> <div style="border: 1px solid black; padding: 5px; margin: 10px 0;"> $p(A \cap B) = p(A) \times p_A(B)$ $p(A \cap \bar{B}) = p(A) \times p_A(\bar{B})$ $p(\bar{A} \cap B) = p(\bar{A}) \times p_{\bar{A}}(B)$ $p(\bar{A} \cap \bar{B}) = p(\bar{A}) \times p_{\bar{A}}(\bar{B})$ </div> <div style="border: 1px solid black; padding: 5px; margin: 10px 0;"> $p(B) = p(A \cap B) + p(\bar{A} \cap B)$ $p(\bar{B}) = p(A \cap \bar{B}) + p(\bar{A} \cap \bar{B})$ </div>	الإنتلاق:
			بناء المفاهيم:

ملاحظات	المهمة	التفسير (النشطة المرافقة لكل مرحلة)	المرحلة
		 <p>مثال تطبيقي: إليك الشجرة التالية : ① عين الاحتمالات الناقصة . ② احسب $p(\bar{A} \cap B)$ ، $p(A \cap \bar{B})$ ، $p(A \cap B)$ و $p(\bar{A} \cap \bar{B})$</p> <p>حل المثال التطبيقي: ① تعيين الاحتمالات الناقصة :</p>  <p>② حساب الاحتمالات :</p> $p(A \cap \bar{B}) = 0.4 \times 0.4 = 0.16 \quad p(A \cap B) = 0.4 \times 0.6 = 0.24$ $p(\bar{A} \cap \bar{B}) = 0.6 \times 0.3 = 0.18 \quad p(\bar{A} \cap B) = 0.6 \times 0.7 = 0.42$ <p>ملاحظة: * غالبا ما يكون حساب الاحتمال $p(A \cap B)$ مباشرة صعب لذلك يكفي معرفة $p_A(B)$ أو $p_B(A)$ لحسابه . لدينا : $p(A \cap B) = p(A) \cdot p_B(A)$ و $p(A \cap \bar{B}) = p(A) \cdot p_{\bar{B}}(A)$</p> <p>تمرين تطبيقي: في ورشة عمل ، 2% من القطع المصنوعة معيبة . قرنا المراقبة التالية : • إذا كانت القطعة جيدة ، فإن احتمال قبولها هو : 0,96 • إذا كانت القطعة معيبة ، فإن احتمال رفضها هو : 0,98 نختار عشوائيا قطعة و نفرض أن كل الاختيارات متساوية الاحتمال . - ما هو احتمال أن تكون القطعة جيدة و مرفوضة ؟</p> <p>حل التمرين التطبيقي:</p>  <p>نرمز للحادثة A : القطعة مقبولة نرمز للحادثة B : القطعة جيدة و نستعمل شجرة الاحتمالات :</p> $p(B \cap \bar{A}) = p(B) \cdot p_{\bar{A}}(B) = 0.98 \times 0.04 = 0.0392$ <p>نفويج</p> <p>حل التمرين 47 و 52 صفحة 224</p>	بناء المفاهيم:

المادة: رياضيات

الأستاذ: بلجري كمال

المؤسسة: سليمان جلول


المستوى والشعبة: الثالثة علوم تجريبية

المحتوى المكرفي: الاحتمالات

الكفاءات المستهدفة: - التعرف على استقلال أو ارتباط حدثين .

- سير الحصة

الملاحظات	المصحة	النهي (الأشكال المراهقة لطل مراكلة)	المراجلة
		<p>* التهيئة النفسية:</p> <p>الحوادث المستقلة والمتغيرات العشوائية المستقلة :</p> <p>1 الكوابيرث المهنولة :</p> <p>(Ω, p) فضاء احتمالي ، A و B حدثان .</p> <p>تعريف:</p> <p>نقول عن الحادثين A و B إنهما مستقلتان إذا فقط إذا كان تحقق إحداهما لا يغير من احتمال تحقق الأخرى .</p> <p>مبرهنة:</p> <p>نقول عن الحادثين A و B إنهما مستقلتان إذا فقط إذا كان :</p> $p(A \cap B) = p(A) \times p(B)$ <p>نتيجة:</p> <p>إذا كان $p(A) \neq 0$ فإن : $p_A(B) = p(B)$</p> <p>مثال «1» :</p> <p>نرمي قطعة نرد غير مزيفة مرقمة من 1 إلى 6 و نعتبر الحادثين .</p> <p>A : نحصل على عدد زوجي B : نحصل على عدد أولي .</p> <p>- هل الحادثان A و B مستقلتان ؟</p> <p>حل :</p> <p>$p(A) = \frac{1}{2}$ و $p(B) = \frac{1}{2}$ و $p(A \cap B) = p(\{2\}) = \frac{1}{6}$</p> <p>بما أن : $\frac{1}{6} \neq \frac{1}{4}$ فالحدثان A و B غير مستقلتين .</p> <p>مثال «2» :</p> <p>نرمي قطعة نقد غير مزيفة مرتين على التوالي و نعتبر الحادثين .</p> <p>A : نحصل على الوجه في الرمية الأولى</p> <p>B : نحصل على الوجه في الرمية الثانية .</p> <p>- هل الحادثان A و B مستقلتان ؟</p>	<p>الإطلاق:</p> <p>بناء المفاهيم:</p>

ملاحظات	المصحة	التفسير (النشطة المرافقة لكل مرحلة)	المرحل
		<p>حل :</p> $p(A \cap B) = p((F, F)) = \frac{1}{4} \text{ و } p(B) = \frac{1}{2} \text{ و } p(A) = \frac{1}{2}$ <p>بما أن : $\frac{1}{4} = \frac{1}{4}$ فالحدثان A و B مستقلتان .</p> <p>ملاحظات :</p> <p>* في حالة استقلال الحوادث يكون احتمال قائمة النتائج هو جداء احتمالات كل النتائج (يحدث هذا عموما في التجارب العشوائية المكررة) .</p> <p>* إذا كانت A و B حادثتين مستقلتين فإن A و \bar{B} مستقلتين .</p> <p>* A و B مستقلتان لا يستلزم عموما أن A و B غير متلائمتين .</p> <p>* إذا كان A و B حادثتين غير متلائمتين مع : $p(A) \neq 0$ و $p(B) \neq 0$ فإن A و B غير مستقلتين ($p(A \cap B) = 0$ و $p(A) \times p(B) \neq 0$)</p> <p>⊕ المتغير أبتر العشوائية المستقلة :</p>	بناء المفاهيم:
		<p>تعريف:  X و Y متغيران معرفان على نفس مجموعة الامكانيات E . تكن x_1, x_2, \dots, x_n قيم المتغير X و y_1, y_2, \dots, y_n قيم المتغير Y . نقول إن X و Y مستقلان عندما تكون الحادثتان $(X = x_i)$ و $(Y = y_j)$ مستقلتان من أجل كل i و j حيث : $(1 \leq i \leq n, 1 \leq j \leq m)$.</p>	
		<p>ملاحظة :</p> <p>* متغيران عشوائيان مرتبطان بتجربتين مختلفتين مستقلان .</p> <p>تمرين تطبيقي «1» :</p> <p>صندوق به 3 قريصات بيضاء تحمل الأرقام 1 ، 2 ، 3 و 3 قريصات صفراء تحمل الأرقام 1 ، 2 ، 3 نسحب عشوائيا قريصة واحدة من الصندوق ، ليكن X المتغير العشوائي حيث $X = 1$ القريصة المسحوبة بيضاء و إلا $X = 0$. و ليكن Y المتغير العشوائي الذي يرفق كل سحبة برقم القريصة المسحوبة .</p> <p>① عرف قانون الاحتمال لكل من X و Y .</p> <p>② برهن أن X و Y مستقلان .</p> <p>تمرين تطبيقي «2» :</p> <p>في مسابقة يجيب مترشح عن عدد من الاسئلة و يشار للجواب الصحيح بالعدد 1 و للخطيء بالعدد 0 . نعتبر الحادثتين :</p> <p>A : ليس للأجوبة نفس الإشارة B : جواب واحد على الأكثر له إشارة 0 .</p> <p>① إذا كان عدد الأسئلة اثنين ، هل A و B مستقلتان ؟</p> <p>② إذا كان عدد الأسئلة ثلاثة ، هل A و B مستقلتان ؟</p>	نقوم
		<p>حل التمرين 62 صفحة 227</p>	

المادة: رياضيات

الأستاذ: بلجري كمال

المؤسسة: سليمان جلول

المستوى والشعبة: الثالثة علوم تجريبية

المحتوى المعرفي: الاحتمالات

الكفاءات المستهدفة: - توظيف دستور الاحتمالات الكلية لحل مسائل تتعلق بالسحب من أكثر من كيس .

- سير الحصة

ملاحظات	المهمة	النسب (الأنشطة المرادولة لكل مرحلة)	المرحلة
		<p>* التهيئة النفسية:</p> <p>الاحتمالات الكلية :</p> <p>1 تجزئة لمجموعة :</p> <p>* نسمي تجزئة مجموعة أجزاء لهذه المجموعة كلها ليست خالية ، منفصلة مثنى مثنى (لا يوجد جزءان لهما عنصر مشترك) و اتحادهما المجموعة الكلية .</p> <p>① $A_i \neq \emptyset$</p> <p>② $A_i \cap A_j = \emptyset$</p> <p>③ $A_1 \cup A_2 \cup \dots \cup A_n = \Omega$</p> <p>2 حساب الاحتمالات المتتالية :</p> <p>* لتكن A_1 ، A_2 ، ، ، ، A_n حوادث احتمالاتها غير معدومة تشكل تجزئة للمجموعة الشاملة Ω .</p> <p>لدينا من أجل كل حادثة B :</p> <p>$p(B) = p(A_1 \cap B) + p(A_2 \cap B) + \dots + p(A_n \cap B)$</p> <p>مع : $p(A_k \cap B) = p(A_k) \cdot p_{A_k}(B)$ من أجل كل k حيث $1 \leq k \leq n$</p> <p>لاحظ أن : $\{A_k \cap B; 1 \leq k \leq n\}$ تشكل تجزئة للحادثة B .</p> <p>ملاحظة :</p> <p>* قانون الاحتمالات الكلية يمكن ترجمته على شجرة الاحتمالات كما يلي :</p> <p>احتمال الحادثة E هو مجموع احتمالات المسارات المؤدية للحادثة E .</p> <p>مثال : تلميذ في قسم نهائي علوم تجريبية يعبر نفس الاهتمام للمواد العلمية أو الأدبية .</p> <p>فإذا كان احتمال نجاحه في اختبار المواد العلمية في شهادة البكالوريا هو $\frac{1}{3}$ و احتمال نجاحه في باقي المواد هو $\frac{1}{4}$.</p> <p>- ما هو احتمال نجاحه في البكالوريا ؟</p> <p>حل :</p> <p>نضع : A : النجاح في البكالوريا ، B : النجاح في المواد العلمية</p> <p>C : النجاح في المواد الأدبية .</p> <p>نجد من المعطيات : $p(B) = p(C) = \frac{1}{2}$ ، $p_B(A) = \frac{1}{3}$ ، $p_C(A) = \frac{1}{4}$</p> <p>و بالتالي : $p(A) = p(A \cap B) + p(A \cap C) = p_B(A) \cdot p(B) + p_C(A) \cdot p(C) = \frac{7}{24}$</p>	<p>الإنتلاف:</p> <p>بناء المفاهيم:</p>

التفسير (النشطة المرافقة لكل مرحلة)

ملاحظات

المعدة

المرحل

تمرين تطبيقي «1» :

(A) ، (B) ، (C) ثلاث صناديق حيث :
 الصندوق (A) يحتوي على 3 كريات حمراء و 5 كريات سوداء .
 الصندوق (B) يحتوي على كرتين حمراوين و كرية سوداء .
 الصندوق (C) يحتوي على كرتين حمراوين و 3 كريات سوداء .
 نأخذ عشوائيا أحد الصناديق و نسحب منه عشوائيا كرية واحدة .
 - إذا كانت الكرية المسحوبة حمراء ، فما هو احتمال أن تكون قد سحبت من
 الصندوق (A) ؟

الحل :

بناء المفاهيم:

نرمز للكرية الحمراء بـ : R و للكرية السوداء بـ : N و نشيء شجرة الاحتمالات

- احتمال سحب كرية حمراء من الصندوق (A)

$$p(A \cap R) = \frac{1}{3} \times \frac{3}{8} = \frac{1}{8}$$

هو : $\frac{1}{8}$

- احتمال سحب كرية حمراء هو :

$$p(R) = p(A \cap R) + p(B \cap R) + p(C \cap R)$$

هناك ثلاث مسارات تؤدي إلى كرية حمراء

$$p(R) = \frac{1}{3} \times \frac{3}{8} + \frac{1}{3} \times \frac{2}{3} + \frac{1}{3} \times \frac{2}{5} = \frac{173}{360}$$

$$p_R(A) = \frac{p(A \cap R)}{p(R)} = \frac{173}{45}$$

تمرين تطبيقي «2» :

يتكون مصنع لانتاج الثلجات من 3 أقسام حيث تساهم بـ 30% ، 60% ، 10%
 على الترتيب في الانتاج الكلي للمصنع و احتمالات أن تكون الثلجة صالحة
 للاستعمال علما أنها صنعت في الأقسام الثلاثة هي : 0,75 ، 0,85 ، 0,90 على
 الترتيب .

- ما هو احتمال أن تكون الثلجة المصنوعة في هذا المصنع صالحة للاستعمال ؟

الحل :

نضع : F : الثلجة صالحة للاستعمال في هذا المصنع

C_i : الثلجة أنتجت في القسم i مع : $i \in \{1, 2, 3\}$

لدينا : $p(F) = p(C_1 \cap F) + p(C_2 \cap F) + p(C_3 \cap F)$

و عليه : $p(F) = p_{C_1}(F)p(C_1) + p_{C_2}(F)p(C_2) + p_{C_3}(F)p(C_3)$

أي : $p(F) = 0,75 \times 0,3 + 0,85 \times 0,6 + 0,90 \times 0,1 = 0,822$

نقوم

حل التمرين 65 صفحة 228

المادة: رياضيات

الأستاذ: بلحري كمال

المؤسسة: سليمان جلول

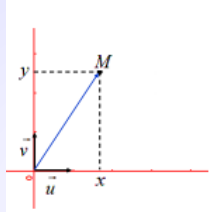
المستوى والشعبة: الثالثة علوم تجريبية

المحتوى المكرفي: الأعداد المركبة

الكفاءات المستهدفة: - التعرف على بعض الرموز والإصطلاحات - التمثيل الهندسي لعدد مركب .

- سير الحصة

ملاحظات	المهمة	التنبيه (الأنشطة المرادولة لكل مرحلة)	المرحلة
		<p>* التهيئة النفسية: التذكير بالمجموعات الجزئية للمجموعة \mathbb{R}.</p> <p>نشاط:</p> <p>نفرض أن a عدد حقيقي موجب تماما و منه : المعادلة $x^2 + a = 0$ لا تقبل حولا في \mathbb{R}</p> <p>- نعتبر المجموعة \mathbb{C} حيث : $\mathbb{R} \subset \mathbb{C}$ و كل خواص العميات المعروفة في \mathbb{R} توظف بنفس الطريقة في \mathbb{C}</p> <p>- لتخيل عنصرا i من \mathbb{C} يحقق : $i^2 = -1$</p> <p>① برر لماذا العنصر i ليس حقيقيا ؟</p> <p>② بين أن : $i\sqrt{a}$ و $-i\sqrt{a}$ ينتميان إلى \mathbb{C} ثم تحقق أنهما حلان للمعادلة $x^2 + a = 0$ في المجموعة \mathbb{C}</p> <p>③ حل في المجموعة \mathbb{C} المعادلتين : $x^2 + x - 1 = 0$ و $x^2 + x + 1 = 0$</p> <p>مناقشة النشاط:</p> <p>① إذا افترضنا أن $i \in \mathbb{R}$ فإن : $i^2 \in \mathbb{R}_+$ و هذا تناقض .</p> <p>إذن : الإفتراض خاطيء و بالتالي : i ليس عددا حقيقيا .</p> <p>② لدينا : $a \in \mathbb{R}_+$ و عليه : $\sqrt{a} \in \mathbb{R}$ و $-\sqrt{a} \in \mathbb{R}$</p> <p>و بما أن : $\mathbb{R} \subset \mathbb{C}$ فإن : $\sqrt{a} \in \mathbb{C}$ و $-\sqrt{a} \in \mathbb{C}$</p> <p>و لدينا : i عنصر من \mathbb{C} إذن : $i\sqrt{a}$ و $-i\sqrt{a}$ ينتميان إلى \mathbb{C}</p> <p>لدينا : $(i\sqrt{a})^2 + a = i^2 a + a = -a + a = 0$</p> <p>و كذلك : $(-i\sqrt{a})^2 + a = i^2 a + a = -a + a = 0$</p> <p>إذن : $i\sqrt{a}$ و $-i\sqrt{a}$ هما حلان للمعادلة $x^2 + a = 0$ في \mathbb{C}</p> <p>③ حل في المجموعة \mathbb{C} المعادلتين : $x^2 + x - 1 = 0$ و $x^2 + x + 1 = 0$</p>	<p>الإنتلاق:</p>
		<p>تعريف: نسمي عددا مركبا كل عدد z يكتب على الشكل $z = x + iy$</p> <p>حيث : x و y عددان حقيقيان و $i^2 = -1$</p>	
		<p>ملاحظات وترميز:</p> <p>* نرمز إلى مجموعة الأعداد المركبة بـ : \mathbb{C}</p> <p>* العدد الحقيقي x يسمى الجزء الحقيقي للعدد المركب z و نرمز له بالرمز : $Re(z)$</p> <p>* العدد الحقيقي y يسمى الجزء التخيلي للعدد المركب z و نرمز له بالرمز : $Im(z)$</p> <p>* إذا كان $y = 0$ نقول إن العدد z حقيقي .</p> <p>* إذا كان $x = 0$ نقول إن العدد z تخيلي صرف (أو تخيلي بحت أو تخيلي محض)</p>	

ملاحظات	المادة	النسب (النشطة المرادولة لحل مرحلة)	المرحلة
		<p>* يكون العدد المركب z معدوما إذا و فقط إذا كان جزؤه الحقيقي معدوما و جزؤه التخيلي معدوما أي : $z = 0$ يعني : $x = 0$ و $y = 0$</p> <p>* الكتابة $z = x + iy$ تسمى الشكل الجبري للعدد المركب z</p> <p>* يتساوى عددا مركبان z و z' إذا و فقط إذا كان لهما نفس الجزء الحقيقي و نفس الجزء التخيلي .</p> <p>نضع : $z = x + iy$ و $z' = x' + iy'$ لدينا $z = z'$ معناه : $x = x'$ و $y = y'$</p> <p>تمرين تطبيقي «1» : عين $Re(z)$ و $Im(z)$ في كل حالة :</p> <p>① $z = 3 + 2i$ ② $z = i - 2\sqrt{3}$ ③ $z = \sqrt{3}$ ④ $z = 2i$</p> <p>تمرين تطبيقي «2» : z عدد مركب حيث : $z = (x^2 + x) + i(x^2 + y - 1)$ عين العددين الحقيقيين x و y حتى يكون العدد المركب z معدوما .</p> <p>النموذج الهندسي لعدد مركب :</p> <div style="border: 2px solid blue; padding: 10px; margin: 10px 0;"> <p>تعريف:</p>  <p>المستوي منسوب إلى معلم متعامد و متجانس $(O; \vec{u}; \vec{v})$</p> <p>لكل نقطة $M(x; y)$ من المستوي نرفق العدد المركب $z = x + iy$</p> <p>* نقول إن النقطة M هي صورة العدد المركب z ، و الشعاع \vec{OM} يسمى كذلك صورة العدد المركب z</p> <p>* كل نقطة M هي صورة عدد مركب وحيد $z = x + iy$ و نقول إن z لائحة النقطة M و الشعاع \vec{OM}</p> <p>* محور الفواصل يسمى المحور الحقيقي و محور التراتيب يسمى المحور التخيلي</p> <p>* المستوي يسمى المستوي المركب</p> </div> <p>مثال:</p> <p>- لائحة النقطة $A(1; -3)$ هي : $z_A = 1 - 3i$</p> <p>- إحداثيا النقطة B ذات اللائحة $z_B = 2 + \sqrt{3}i$ هي : $B(2; \sqrt{3})$</p> <p>تمرين تطبيقي: المستوي المركب منسوب إلى معلم متعامد و متجانس $(O; \vec{u}; \vec{v})$ ، x و y عددا حقيقيان .</p> <p>لتكن (S) مجموعة النقط $M(x; y)$ من المستوي حيث : $z = x^2 + y(1 + i) - i$ عين المجموعة (S) بحيث يكون z حقيقيا .</p> <p style="text-align: right;">حل التمرين 02 و 04 صفحة 144</p>	بناء المفاهيم:
			نفوهم

المادة: رياضيات

الأستاذ: بلحري كمال

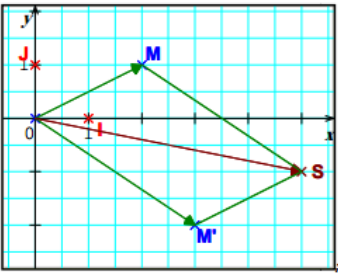
المؤسسة: سليمان جلول

المستوى والشعبة: الثالثة علوم تجريبية

المحتوى المكرفي: الأعداد المركبة

الكفاءات المستهدفة: - العمليات الحسابية على الأعداد المركبة .

- سير الحصة

ملاحظات	المهمة	التفسير (الأشكال المرئية لتل من أجل)	المراتل
		<p>* التهيئة النفسية: التذكير بالمجموعات الجزئية للمجموعة \mathbb{R}. العمليات في مجموعة الأعداد المركبة: مجموع وجداء عددين مركبين:</p> <p>تعريف: عدد مركب حيث $z = x + iy$ ($x \in \mathbb{R}$ و $y \in \mathbb{R}$) و z' عدد مركب حيث $z' = x' + iy'$ ($x' \in \mathbb{R}$ و $y' \in \mathbb{R}$) * مجموع العددين z و z' هو العدد المركب:</p> $z + z' = x + x' + i(y + y')$ <p>* جداء العددين z و z' هو العدد المركب:</p> $z \cdot z' = xx' - yy' + i(xy' + x'y)$ <p>ملاحظة: * قواعد الحساب المعروفة في \mathbb{R} تبقى صحيحة في \mathbb{C}</p> <p>أمثلة:</p> <ul style="list-style-type: none"> $(1 - i) + (3 + 2i) = 1 + 3 + i(-1 + 2) = 4 + i$ $(1 + 3i)(2 + i) = 2 + i + 6i + 3i^2 = -1 + 7i$ <p>التفسير الهندسي لمجموع عددين مركبين:</p>  <p>المستوي المركب منسوب إلى معلم متعامد ومتجانس $(O; \vec{i}; \vec{j})$ z لاحقة النقطة M و z' لاحقة النقطة M' * المجموع $z + z'$ هو لاحقة النقطة S حيث: $\vec{OS} = \vec{OM} + \vec{OM}'$ أي: \vec{OS} هو محصلة الشعاعين \vec{OM} و \vec{OM}'</p>	الإنتلاق:

ملاحظات	المعدة	النسب (الأشكال المماثلة لكل مرحلة)	المراجع
		<p>ملاحظات:</p> <p>* إذا كان z لاحقة الشعاع \vec{u} و كان z' لاحقة الشعاع \vec{v} فإن $z + z'$ هو لاحقة $\vec{u} + \vec{v}$</p> <p>* إذا كان z لاحقة الشعاع \vec{u} و كان k عددا حقيقيا فإن kz هو لاحقة $k\vec{u}$</p> <p>* شعاعان متساويان لهما نفس اللاحقة .</p> <p>لاحقة شعاع - لاحقة مرجع :</p> <p>خاصية: المستوي المركب منسوب إلى معلم متعامد و متجانس $(O; \vec{i}; \vec{j})$</p> <p>A و B نقطتان من المستوي لاحتقاهما z_A و z_B على الترتيب .</p> <ul style="list-style-type: none"> \vec{AB} هي لاحقة الشعاع $z_B - z_A$. α و β عدنان حقيقيان حيث $\alpha + \beta \neq 0$ ، G مرجح الجملة $\{(A, \alpha); (B, \beta)\}$ لاحقة النقطة G هي $\frac{\alpha z_A + \beta z_B}{\alpha + \beta}$ <p>تمرين تطبيقي «1» :</p> <p>المستوي المركب منسوب إلى معلم متعامد و متجانس $(O; \vec{i}; \vec{j})$</p> <p>A ، B و C ثلاث نقط من المستوي لواحقتها على الترتيب $z_A = 1 - 3i$ ، $z_C = 2 + 2i$ و $z_B = 3 + i$</p> <p>- عين لواحق الأشعة : \vec{AB} ، \vec{AC} و $\vec{AB} + \vec{AC}$</p> <p>تمرين تطبيقي «2» :</p> <p>المستوي المركب منسوب إلى معلم متعامد و متجانس $(O; \vec{i}; \vec{j})$</p> <p>A ، B و C ثلاث نقط من المستوي لواحقتها على الترتيب : $z_C = 2 - 3i$ و $z_B = -3i$ ، $z_A = 3i$</p> <p>① عين لاحقة النقطة G مرجح الجملة $\{(A, 1); (B, 2); (C, -2)\}$</p> <p>② عين مجموعة النقط M من المستوي التي تحقق :</p> $AM^2 + 2BM^2 - 2CM^2 = 25$	<p>بناء المفاهيم:</p> <p>نقوم</p>
		<p>حل التمرين 20 و 26 صفحة 145</p> <p>حل التمرين 88 و 89 صفحة 150</p>	

المادة: رياضيات

الأستاذ: بلجري كمال

المؤسسة: سليمان جلول

المستوى والشعبة: الثالثة علوم تجريبية

المحتوى المعرفي: الأعداد المركبة

الكفاءات المستهدفة: - استعمال خواص مرافق عدد مركب .

- سير الحصة

ملاحظات	المهمة	النشير (الأنشطة المرادولة لكل مرحلة)	المرحلة
		<p>الإنتلاق:</p> <p>* تهيئة النفسية: التذكير بالشكل الجبري لعدد مركب .</p> <p>نشاط:</p> <p>المستوي منسوب إلى معلم متعامد و متجانس $(O; \vec{u}; \vec{v})$</p> <p>$M(x; y)$ نقطة من المستوي لاحقها z</p> <p>M' نظيرة M بالنسبة إلى محور الفواصل ، نرمز للاحقتها بـ \bar{z}</p> <p>① اكتب z و \bar{z} على الشكل الجبري ثم احسب $z + \bar{z}$ ، $z - \bar{z}$ و $z\bar{z}$</p> <p>② اجعل مقام العدد المركب $\frac{1+i}{2+3i}$ عددا حقيقيا ثم اكتبه على الشكل الجبري .</p> <p>مناقشة النشاط:</p> <p>① لدينا $M(x; y)$ ومنه $M'(x; -y)$ و بالتالي $z = x + iy$ و $\bar{z} = x - iy$</p> <p>$z + \bar{z} = 2x$ $z - \bar{z} = 2iy$ $z\bar{z} = x^2 + y^2$</p> <p>② لدينا $i : \frac{5}{13} - \frac{1}{13}i = \frac{(1+i)(2-3i)}{(2+3i)(2-3i)} = \frac{1+i}{2+3i}$</p> <p>مرافق عدد مركب :</p> <p>تعريف: $z = x + iy$ ($x \in \mathbb{R}$ و $y \in \mathbb{R}$) عدد مركب حيث $x - iy$ و الذي نرمز له \bar{z} يسمى مرافق العدد المركب z</p> <p>ملاحظة:</p> <p>* للحصول على مرافق عدد مركب z نغير إشارة الجزء التخيلي .</p> <p>أمثلة:</p> <p>$\overline{-3} = -3$ $\overline{2i} = -2i$ $\overline{1-5i} = 1+5i$ $\overline{2+3i} = 2-3i$</p> <p>تمرين تطبيقي: اكتب على الشكل الجبري الأعداد المركبة التالية :</p> <p>$z_3 = \frac{3+2i}{(1+i)(-6-5i)}$ ③ $z_2 = \frac{5+15i}{1+2i}$ ② $z_1 = \frac{4-6i}{3+2i}$ ①</p> <p>مقلوب عدد مركب :</p> <p>مبرهنة: كل عدد مركب غير معدوم z له مقلوب في \mathbb{C} يرمز له $\frac{1}{z}$</p>	

ملاحظات	المصحة	التفسير (الأنشطة المرافقة لكل مرحلة)	المرات
		<p>خواص مرافق عدد مركب :</p> <div style="border: 1px solid orange; padding: 10px; margin: 10px 0;"> <p style="text-align: right;">خواص: </p> $\bar{\bar{z}} = z \quad \diamond \quad z + \bar{z} = 2\text{Re}(z)$ $z - \bar{z} = 2i\text{Im}(z) \quad \diamond \quad z\bar{z} = (\text{Re}(z))^2 + (\text{Im}(z))^2 \quad \diamond$ </div> <p>المرافق والعمليات :</p> <div style="border: 1px solid yellow; padding: 10px; margin: 10px 0;"> <p>z عددا مركبا و مرافقه \bar{z} ، z' عددا مركبا و مرافقه \bar{z}'</p> $z + z' = \bar{z} + \bar{z}' \quad \diamond \quad \overline{zz'} = \bar{z}\bar{z}' \quad \diamond \quad \overline{z^n} = \bar{z}^n \quad \text{مع } n \in \mathbb{N}^*$ $\overline{\left(\frac{z}{z'}\right)} = \frac{\bar{z}}{\bar{z}'} \quad \text{مع } z' \neq 0 \quad \diamond \quad \overline{\left(\frac{1}{z}\right)} = \frac{1}{\bar{z}} \quad \text{مع } z \neq 0 \quad \diamond$ </div> <p>البرهان:</p> <p>تمرين تطبيقي «1» : نضع : $z_1 = \frac{3-i}{2+5i}$ و $z_2 = \frac{3+i}{2-5i}$</p> <p>1 بدون إجراء الحساب برر أن $z_1 + z_2$ هو عدد حقيقي و $z_1 - z_2$ هو عدد تخيلي صرف .</p> <p>2 احسب $z_1 + z_2$ و $z_1 - z_2$ ثم استنتج الشكل الجبري للعدد المركب z_1</p> <p>حل التمرين التطبيقي «1» :</p> <p>1 لدينا $z_2 = \bar{z}_1$ و منه : $z_1 + z_2 = z_1 + \bar{z}_1 = 2\text{Re}(z_1)$ و $z_1 - z_2 = z_1 - \bar{z}_1 = 2i\text{Im}(z_1)$</p> <p>2 $z_1 + z_2 = \frac{(3-i)(2-5i) + (3+i)(2+5i)}{(2-5i)(2+5i)} = \frac{2}{29}$</p> <p>$z_1 - z_2 = \frac{(3-i)(2-5i) - (3+i)(2+5i)}{(2-5i)(2+5i)} = \frac{-34i}{29}$</p> <p>إذن : $z_1 = \frac{1}{29} - \frac{17}{29}i$</p> <p>تمرين تطبيقي «2» : ليكن كثير الحدود P للمتغير المركب z المعروف بـ :</p> $P(z) = z^3 + z^2 - 2$ <p>1 أثبت أنه من أجل كل عدد مركب z : $\overline{P(z)} = P(\bar{z})$</p> <p>2 احسب $P(1)$ و $P(-1-i)$</p> <p>3 عين جذور $P(z)$</p> <p>حل التمرين التطبيقي «2» :</p> <p>1 لدينا : $\overline{P(z)} = \overline{z^3 + z^2 - 2} = \bar{z}^3 + \bar{z}^2 - \bar{2} = (\bar{z})^3 + (\bar{z})^2 - 2 = p(\bar{z})$</p> <p>2 $P(1) = 0$ و $p(-1-i) = 2i(-1-i) + 2i - 2 = 0$</p> <p>3 لدينا : $p(-1-i) = 0$ و منه : $p(-1-i) = 0$ و بالتالي : $p(\overline{-1-i}) = 0$</p> <p>أي : $p(-1+i) = 0$.</p> <p style="text-align: right;">حل التمرين 16 و 17 صفحة 145 حل التمرين 102 و 106 صفحة 152</p>	<p>بناء المفاهيم:</p> <p>نفويهم</p>

المادة: رياضيات

الأستاذ: بلحري كمال

المؤسسة: سليمان جلول

المستوى والشعبة: الثالثة علوم تجريبية

المحتوى المعرفي: الأعداد المركبة

الكفاءات المستهدفة: - حساب طويلة وعمدة عدد مركب غير معدوم .

- سير الحصة

ملاحظات	المهمة	النسب (الأنشطة المرادولة لكل مرحلة)	المرحلة
		<p>الإنتلاق:</p> <p>* التهيئة النفسية: طويلة عدد مركب :</p> <p>تعريف: $z = x + iy$ عدد مركب حيث $(x \in \mathbb{R} \text{ و } y \in \mathbb{R})$ نسمي طويلة العدد المركب z العدد الحقيقي الموجب الذي نرمز له : z حيث : $z = \sqrt{x^2 + y^2}$</p> <p>أمثلة: $-3 + 4i = \sqrt{(-3)^2 + 4^2} = 5$ • $2 + 3i = \sqrt{2^2 + 3^2} = \sqrt{13}$ •</p> <p>التفسير الهندسي لطويلة عدد مركب :</p> <p>المستوي المركب منسوب إلى معلم متعامد ومتجانس $(O; \vec{i}; \vec{j})$ $z = x + iy$ صورته M إذن : $OM = z$</p> <p>ملاحظات: $z \cdot \bar{z} = x^2 + y^2 = z ^2$ * $AB = z_B - z_A$: z_B و z_A لاحتقاهما على الترتيب :</p> <p>خواص: من أجل كل عددين مركبين z و z' $-z = z$ ♦ $\bar{z} = z$ ♦ $z \neq 0$ مع $\frac{z}{z'} = \frac{ z }{ z' }$ ♦ $z \cdot z' = z \cdot z'$ ♦ $z + z' \leq z + z'$ ♦ $z^n = z ^n$ ♦</p> <p>أمثلة: $(1 + i)(2 + 3i) = 1 + i 2 + 3i = \sqrt{2}\sqrt{13} = \sqrt{26}$ ♦ $\frac{3 - 4i}{\sqrt{3} - i} = \frac{ 3 - 4i }{ \sqrt{3} - i } = \frac{5}{2}$ ♦ $(-1 + 2i)^4 = -1 + 2i ^4 = (\sqrt{5})^4 = 25$ ♦</p>	

ملاحظات	المادة	التفسير (النشطة المرافقة لكل مرحلة)	المرحلة
		<p>توظيف طولها عدد مركب لتعطين مجموعة نقط :</p> <p>تمرين تطبيقي : عين مجموعة النقط M ذات اللاحقة العدد المركب z :</p> <p>① $z + 1 + 2i = z - 4$ ② $z - 3i = 2$ ③ $2z - i = 2$</p> <p>عمدة عدد مركب غير معدوم :</p> <p>نشاط:</p> <p>المستوي المركب منسوب إلى معلم متعامد ومتجانس $(O; \vec{i}; \vec{j})$</p> <p>z عدد مركب حيث $z = \sqrt{3} + i$ و M صورته .</p> <p>① احسب z ثم استنتج $\cos(\vec{OI}; \vec{OM})$ و $\sin(\vec{OI}; \vec{OM})$</p> <p>② استنتج قيسا بالراديان للزاوية الموجهة $(\vec{OI}; \vec{OM})$</p>	
		<p>تعريف:</p> <p>$z = x + iy$ ($x \in \mathbb{R}$ و $y \in \mathbb{R}$) عدد مركب غير معدوم حيث</p> <p>في المستوي المركب المنسوب إلى معلم متعامد ومتجانس $(O; \vec{OI}; \vec{OJ})$</p> <p>لتكن M صورة z .</p> <p>نسمي عمدة العدد المركب z كل قيس بالراديان للزاوية الموجهة $(\vec{OI}; \vec{OM})$</p> <p>و نرمز لها : $\arg(z)$</p>	بناء المفاهيم:
		<p>ملاحظات:</p> <p>❖ كل عدد مركب غير معدوم له عدد غير منته من العمدة</p> <p>أي : إذا كانت θ عمدة z فإن $\theta + 2k\pi$ عمدة له .</p> <p>❖ العدد 0 ليس له عمدة لأن صورته هي مبدء المعلم و الزاوية $(\vec{OI}; \vec{OO})$ غير معروفة .</p> <p>❖ A و B نقطتان لاحقتاهما z_A و z_B على الترتيب .</p> <p>$(\vec{OA}; \vec{OB}) = \arg(z_B) - \arg(z_A)$ أي : $(\vec{OA}; \vec{OB}) = (\vec{OI}; \vec{OB}) - (\vec{OI}; \vec{OA})$</p> <p>❖ $\arg(z_B - z_A) = (\vec{OI}; \vec{AB})$</p> <p>تمرين تطبيقي : عين عمدة للأعداد المركبة التالية :</p> <p>① $z_A = 1 + \sqrt{3}i$ ② $z_B = \frac{1}{2} + \frac{\sqrt{3}}{2}i$</p> <p>③ $z_C = -3i$ ④ $z_D = 6$</p> <p>- استنتج قيسا بالراديان لكل من الزاويتين الموجهتين $(\vec{OA}; \vec{OB})$ و $(\vec{OI}; \vec{AB})$</p>	
		<p>طريقة: إذا كانت θ عمدة للعدد المركب z مع $z = x + iy$ و $z \neq 0$</p> <p>فإن : $\begin{cases} \cos \theta = \frac{x}{r} \\ \sin \theta = \frac{y}{r} \end{cases}$ حيث $z = r$</p>	نقوم
		حل التمرين 30 صفحة 146	

المادة: رياضيات

الأستاذ: بلجيري كمال

المؤسسة: سليمان جلول

المستوى والشعبة: الثالثة علوم تجريبية

المحتوى المعرفي: الأعداد المركبة

الكفاءات المستهدفة: - الانتقال من الشكل الجبري إلى المثلثي والعكس .

- سير الحصة

ملاحظات	المهمة	التعليق (الأرشطة لكل مرحلة)	أمر الحل
		<p>* التهيئة النفسية: التذكير بطويلة و عمدة عدد مركب غير معدوم .</p> <p>الشكل المثلثي لعدد مركب غير معدوم :</p> <p>تمهيد:</p> <p>في المستوي المركب منسوب إلى معلم متعامد و متجانس $(O; \vec{i}; \vec{j})$ تعلم نقطة M بإحداثياتها الديكارتية $M(x; y)$ أو بإحداثياتها القطبية $M(r; \theta)$</p> <p>حيث $OM = r$ و $(\vec{OI}; \vec{OM}) = \theta$</p> <p>نضع $z = x + iy$ و لدينا $\cos \theta = \frac{x}{r}$ و $\sin \theta = \frac{y}{r}$ إذن $x = r \cos \theta$ و $y = r \sin \theta$</p> <p>و بالتالي $z = r \cos \theta + ir \sin \theta$ أي: $z = r(\cos \theta + i \sin \theta)$</p>	الإنتلاق:
		<p>تعريف: z عدد مركب غير معدوم .</p> <p>تسمى الكتابة $z = r(\cos \theta + i \sin \theta)$ بالشكل المثلثي للعدد المركب z</p> <p>حيث $r = z$ و $\theta = \arg(z)$</p>	
		<p>ملاحظات:</p> <p>* يكون عددان مركبان مكتوبان على الشكل المثلثي متساويين إذا و فقط إذا كانت لهما نفس الطويلة و عمدتان متوافقتان بتزايد 2π</p> <p>* إذا كان $r < 0$ فإن الكتابة $r(\cos \theta + i \sin \theta)$ لا تمثل الشكل المثلثي .</p> <p>تمرين تطبيقي «1»: اكتب الشكل المثلثي للأعداد المركبة :</p> <p>① $z_1 = 1 + \sqrt{3}i$</p> <p>② $z_2 = \frac{1}{2} - \frac{\sqrt{3}}{2}i$</p> <p>③ $z_3 = \frac{\sqrt{2}}{2} + i\frac{\sqrt{2}}{2}$</p> <p>④ $z_4 = -\sqrt{6} + i\sqrt{2}$</p>	
		<p>تمرين تطبيقي «2»: اكتب الشكل المثلثي للعدد المركب z في كل حالة :</p> <p>① $z = 4(\cos(\frac{\pi}{4}) - i \sin(\frac{\pi}{4}))$</p> <p>② $z = -3(\cos(\frac{\pi}{3}) + i \sin(\frac{\pi}{3}))$</p> <p>③ $z = \sqrt{5}(\sin(\frac{\pi}{6}) + i \cos(\frac{\pi}{6}))$</p> <p>④ $z = -\sin(\frac{\pi}{6}) + i \cos(\frac{\pi}{6})$</p>	
		<p>طرفة: نستعمل الدائرة المثلثية لاستخراج بعض العلاقات المثلثية .</p>	

ملاحظات	المادة	التفسير (النشطة المرافقة لكل مرحلة)	المراجع
		<p>حل التمرين التطبيقي «2» :</p> $z = 4(\cos(\frac{\pi}{4}) - i \sin(\frac{\pi}{4})) = 4(\cos(-\frac{\pi}{4}) + i \sin(-\frac{\pi}{4})) \quad ①$ $z = -3(\cos(\frac{\pi}{3}) + i \sin(\frac{\pi}{3})) = 3(-\cos(\frac{\pi}{3}) - i \sin(\frac{\pi}{3})) \quad ②$ <p>نعلم أن : $\cos(\pi + x) = -\cos(x)$ و $\sin(\pi + x) = -\sin(x)$</p> <p>إذن : $z = 3(\cos(\pi + \frac{\pi}{3}) + i \sin(\pi + \frac{\pi}{3})) = 3(\cos(\frac{4\pi}{3}) + i \sin(\frac{4\pi}{3}))$</p> $z = \sqrt{5}(\sin(\frac{\pi}{6}) + i \cos(\frac{\pi}{6})) \quad ③$ <p>نعلم أن : $\cos(\frac{\pi}{2} - x) = \sin(x)$ و $\sin(\frac{\pi}{2} - x) = \cos(x)$</p> <p>إذن : $z = \sqrt{5}(\cos(\frac{\pi}{2} - \frac{\pi}{6}) + i \sin(\frac{\pi}{2} - \frac{\pi}{6})) = \sqrt{5}(\cos(\frac{\pi}{3}) + i \sin(\frac{\pi}{3}))$</p> $z = -\sin(\frac{\pi}{6}) + i \cos(\frac{\pi}{6}) \quad ④$ <p>نعلم أن : $\cos(\frac{\pi}{2} + x) = -\sin(x)$ و $\sin(\frac{\pi}{2} + x) = \cos(x)$</p> <p>إذن : $z = \cos(\frac{\pi}{2} + \frac{\pi}{6}) + i \sin(\frac{\pi}{2} + \frac{\pi}{6}) = \cos(\frac{2\pi}{3}) + i \sin(\frac{2\pi}{3})$</p> <p>تمرين تطبيقي «3» : اكتب على الشكل الجبري للعدد المركب z :</p> $z = \frac{\sqrt{6}}{2} \left(\cos(\frac{5\pi}{4}) + i \sin(\frac{5\pi}{4}) \right)$ <p>حل التمرين التطبيقي «3» :</p> $z = \frac{\sqrt{6}}{2} \left(\cos(\frac{5\pi}{4}) + i \sin(\frac{5\pi}{4}) \right) = \frac{\sqrt{6}}{2} \left(\cos(\pi + \frac{\pi}{4}) + i \sin(\pi + \frac{\pi}{4}) \right)$ <p>و منه $z = \frac{\sqrt{6}}{2} \left(-\frac{\sqrt{2}}{2} - i \frac{\sqrt{2}}{2} \right) = -\frac{\sqrt{3}}{2} - i \frac{\sqrt{3}}{2}$</p>	<p>بناء المفاهيم:</p> <p>نفويهم</p>
		<p>حل التمرين 45 صفحة 147</p>	

المادة: رياضيات

الأستاذ: بلجري كمال




المؤسسة: سليمان جلول

المستوى والشعبة: الثالثة علوم تجريبية

المحتوى المعرفي: الأعداد المركبة

الكفاءات المستهدفة: - توظيف خواص العمدة لحل مسائل .

- سير الحصة

ملاحظات	المهمة	التيسير (الأنشطة المرادولة لكل مرحلة)	المرحلة
		<p>* التهيئة التأسيسية: التذكير بالشكل المثلثي لعدد مركب غير معدوم . خواص عمدة عدد مركب غير معدوم :</p> <div style="border: 1px solid orange; padding: 10px;"> <p>خواص:  z و z' عدنان مركبان غير معدومين .</p> <p>$\arg(z.z') = \arg(z) + \arg(z')$ ❖</p> <p>$\arg\left(\frac{z}{z'}\right) = \arg(z) - \arg(z')$ ❖</p> <p>$\arg(z^n) = n\arg(z)$ مع $n \in \mathbb{N}^*$ ❖</p> <p>$\arg(\bar{z}) = -\arg(z)$ مع \bar{z} هو مرافق العدد المركب z ❖</p> </div> <p>البرهان:</p> <div style="border: 1px solid purple; padding: 10px;"> <p>نتيجة:  المستوي المركب منسوب إلى معلم متعامد و متجانس $(O; \vec{u}; \vec{v})$ A ، B و C ثلاث نقط لواحقتها z_A ، z_B و z_C على الترتيب .</p> $\arg\left(\frac{z_B - z_A}{z_C - z_A}\right) = (\vec{OI}; \vec{AB}) - (\vec{OI}; \vec{AC}) = (\vec{AC}; \vec{AB})$ </div> <p>تمرين تطبيقي «1»:</p> <p>$z_2 = 1 - i\sqrt{3}$ و $z_1 = 1 + i$ عددان مركبين حيث : 1 اكتب z_1 و z_2 على الشكل المثلثي . 2 اكتب $\frac{z_1}{z_2}$ على الشكل الجبري ثم الشكل المثلثي . 3 استنتج القيمة المضبوطة لكل من $\cos\left(\frac{7\pi}{12}\right)$ و $\sin\left(\frac{7\pi}{12}\right)$</p> <p>تمرين تطبيقي «2»: $z = 1 - i$ عدد مركب حيث : 1 عين قيم العدد الطبيعي n التي يكون من أجلها z^n عددا حقيقيا . 2 عين قيم العدد الطبيعي n التي يكون من أجلها z^n عددا تخيليا صرفا .</p> <div style="border: 1px solid orange; padding: 10px;"> <p>طريقة:  z عدد مركب غير معدوم و n عدد طبيعي .</p> <p>z^n حقيقي معناه : $\arg(z^n) = k\pi$ مع $k \in \mathbb{Z}$</p> <p>z^n تخيلي صرف معناه : $\arg(z^n) = \frac{\pi}{2} + k\pi$ مع $k \in \mathbb{Z}$</p> </div>	الإنتلاق:

ملاحظات	المهمة	التفسير (الأنشطة المرافقة لكل مرحلة)	المرحلة
		<p>توظيف خواص العمدة لتعيين مجموعة نطق :</p> <p>تمرين تطبيقي : عين مجموعة النقط M ذات اللاحقة العدد المركب z :</p> <p>① $arg(z - 2i) = \frac{\pi}{3} + 2k\pi ; k \in \mathbb{Z}$ ② $arg(z - 1 - i) = \frac{\pi}{4} + k\pi ; k \in \mathbb{Z}$</p> <p>③ $arg\left(\frac{z - i}{z + 1 - i}\right) = \frac{\pi}{2} + k\pi ; k \in \mathbb{Z}$ ④ $arg(z) = arg(\bar{z})$</p> <p>حل التمرين التطبيقي :</p> <p>① $arg(z - 2i) = \frac{\pi}{3} + 2k\pi ; k \in \mathbb{Z}$</p> <p>لتكن A نقطة من المستوي لاحقها $z_A = 2i$ ومنه : مجموعة النقط M هي نصف مستقيم $[AM)$ ما عدا النقطة A حيث : $(\vec{u}; \vec{AM}) = \frac{\pi}{3} + 2k\pi$</p> <p>حالات خاصة :</p> <p>* $arg(z) = 2k\pi$: M هي نصف مستقيم $[Ox)$ ما عدا النقطة O</p> <p>* $arg(z) = \pi + 2k\pi$: M هي نصف مستقيم $[Ox')$ ما عدا النقطة O</p> <p>* $arg(z) = \frac{\pi}{2} + 2k\pi$: M هي نصف مستقيم $[Oy)$ ما عدا النقطة O</p> <p>* $arg(z) = -\frac{\pi}{2} + 2k\pi$: M هي نصف مستقيم $[Oy')$ ما عدا النقطة O</p> <p>② $arg(z - 1 - i) = \frac{\pi}{4} + k\pi ; k \in \mathbb{Z}$</p> <p>لتكن B نقطة من المستوي لاحقها $z_B = 1 + i$ ومنه : مجموعة النقط M هي مستقيم (BM) ما عدا النقطة B حيث : $(\vec{u}; \vec{BM}) = \frac{\pi}{4}$</p> <p>حالة خاصة :</p> <p>* $arg(z) = \frac{\pi}{4} + k\pi$: M هي النصف الأول باستثناء النقطة O.</p> <p>③ $arg\left(\frac{z - i}{z + 1 - i}\right) = \frac{\pi}{2} + k\pi ; k \in \mathbb{Z}$</p> <p>لتكن A و B نقطتان من المستوي لاحقتهما $z_A = i$ و $z_B = 1 + i$ ومنه : مجموعة النقط M هي دائرة قطرها $[AB)$ ما عدا النقطتين A و B.</p> <p>حالة خاصة :</p> <p>* $arg\left(\frac{z - i}{z + 1 - i}\right) = \frac{\pi}{2} + 2k\pi$: M هي نصف دائرة قطرها $[AB)$ ما عدا النقطتين A و B.</p> <p>④ $arg(z) = arg(\bar{z})$ أي : $arg(z) = -arg(z)$ ومنه : $2arg(z) = 0 + 2k\pi$</p> <p>ومنه : $arg(z) = k\pi$ أي : $(\vec{u}; \vec{OM}) = k\pi$</p> <p>ومنه : مجموعة النقط M هي حامل محور الفواصل (xx') ما عدا المبدأ O.</p>	<p>بناء المفاهيم:</p> <p>نفوهم</p>
		<p>حل التمرين 46 صفحة 147</p> <p>حل التمرين 121 و 123 صفحة 154</p>	

المادة: رياضيات

الأستاذ: بلجيري كمال

المؤسسة: سليمان جلول

المستوى والشعبة: الثالثة علوم تجريبية

المحتوى المعرفي: الأعداد المركبة

الكفاءات المستهدفة: - الإنتقال من الشكل الجبري إلى الأسّي والعكس.

- سير الحصة

ملاحظات	المهمة	التنبيه (الأنشطة المرادفة لكل مرحلة)	المرحلة
		<p>* التهيئة النفسية: التذكير بالشكل المثلثي لعدد مركب غير معدوم .</p> <p>نشاط:</p> <p>المستوي المركب منسوب إلى معلم متعامد ومتجانس $(O; \vec{i}; \vec{j})$</p> <p>$z_0 = \cos \theta + i \sin \theta$ عدد مركب طويلته 1 و لتكن θ عمدة له إذن : $f(\theta) = \cos \theta + i \sin \theta$ لتكن f الدالة التي ترفق بكل عدد حقيقي θ العدد المركب z_0 أي: $f(\theta) = \cos \theta + i \sin \theta$</p> <p>① احسب $f(\theta + \theta')$ و $f(\theta) \cdot f(\theta')$ حيث : θ و θ' عددان حقيقيان .</p> <p>إرشاد: استخدم دستوري الجمع</p> <p>$\sin(\theta + \theta') = \sin \theta \cdot \cos \theta' + \sin \theta' \cdot \cos \theta$ و $\cos(\theta + \theta') = \cos \theta \cdot \cos \theta' - \sin \theta \cdot \sin \theta'$</p> <p>② ماذا تستنتج ؟</p>	الإنتقال:
		<p>تعريف: (ترميز أولر)</p> <p>نضع : $e^{i\theta} = \cos \theta + i \sin \theta$ هذا الترميز يسمى ترميز أولر .</p> <p>حيث : $e^{i\theta}$ عدد مركب طويلته 1 و θ عمدة له .</p>	
		<p>الشكل الأسّي لعدد مركب غير معدوم :</p>	
		<p>تعريف:</p> <p>العدد المركب z غير المعدوم الذي طويلته r و θ عمدة له .</p> <p>يكتب : $z = re^{i\theta}$</p> <p>هذه الكتابة تسمى الشكل الأسّي للعدد المركب z .</p>	
		<p>مثال:</p> <p>$z = 1 + i = \sqrt{2} (\cos \frac{\pi}{4} + i \sin \frac{\pi}{4}) = \sqrt{2} e^{i\frac{\pi}{4}}$</p>	
		<p>تمرين تطبيقي «①» : عين الشكل الأسّي للأعداد المركبة :</p> <p>① $z_1 = -3 - 3i$</p> <p>② $z_2 = \frac{1}{2} + \frac{\sqrt{3}}{2}i$</p> <p>③ $z_3 = 2i$</p> <p>④ $z_4 = -3$</p>	
		<p>تمرين تطبيقي «②» : اكتب الشكل الجبري للعدد المركب z في كل حالة :</p> <p>① $z = 2e^{i\frac{\pi}{3}}$</p> <p>② $z = 6e^{i\frac{2\pi}{3}}$</p> <p>③ $z = 3e^{-i\frac{\pi}{2}}$</p>	

ملاحظات	المادة	التفسير (النشطة المرافقة لكل مرحلة)	المرحلة
		<p>خواص:  θ و θ' عدنان حقيقيان .</p> $\overline{e^{i\theta}} = e^{-i\theta} \quad \diamond \quad \frac{e^{i\theta}}{e^{i\theta'}} = e^{i(\theta-\theta')} \quad \diamond \quad e^{i(\theta+\theta')} = e^{i\theta} \cdot e^{i\theta'} \quad \diamond$ <p>مثال : $z_1 = 4e^{i\frac{\pi}{3}}$ و $z_2 = 2e^{i\frac{\pi}{6}}$ عددين مركبين حيث لدينا : $\frac{z_1}{z_2} = \frac{4e^{i\frac{\pi}{3}}}{2e^{i\frac{\pi}{6}}} = 2e^{i(\frac{\pi}{3}-\frac{\pi}{6})} = 2e^{i\frac{\pi}{6}}$</p> <p>دستور موافر :</p> <p>z عدد مركب طويلته 1 و θ عمدة له . من أجل كل عدد طبيعي n غير معدوم لدينا :</p> $(e^{i\theta})^n = e^{in\theta} \quad \text{أي} \quad (\cos \theta + i \sin \theta)^n = \cos n\theta + i \sin n\theta$ <p>تمرين تطبيقي : باستعمال دستور موافر اكتب على الشكل الآسي العدد المركب z حيث : $z = (1-i)^8$</p> <p>توظيف الشكل الآسي لتعبين مجموعة نفظ :</p> <p>المستوي المركب منسوب إلى معلم متعامد و متجانس $(O; \vec{u}; \vec{v})$ r عدد حقيقي موجب تماما و θ عدد حقيقي . M_0 نقطة لاحقتها العدد المركب z_0 . مجموعة النقط M ذات اللاحقة العدد المركب z حيث : $z = z_0 + re^{i\theta}$ هي :</p> <p>① دائرة مركزها M_0 و نصف قطرها r من أجل : r ثابت و θ متغير . ② نصف مستقيم $[M_0M)$ ما عدا النقطة M_0 حيث $(\vec{u}; \overline{M_0M}) = \theta$ من أجل : r متغير و θ ثابت.</p> <p>تمرين تطبيقي : عين مجموعة النقط M ذات اللاحقة العدد المركب z :</p> <p>① $z = 1 + i + 2e^{i\theta} ; \theta \in \mathbb{R}$ ② $z = 1 + i + 2e^{i\theta} ; \theta \in]0; \pi]$ ③ $z = 2 - 2i + re^{i\frac{\pi}{3}} ; r \in \mathbb{R}_+^*$</p> <p>حل التمرين التطبيقي :</p> <p>① دائرة مركزها C ذات اللاحقة $z_C = 1 + i$ و نصف قطرها 2 . ② M تمسح نصف الدائرة التي قطرها $[AB]$ حيث : A و B نقطتان من المستوي لاحقتيها $z_C - r$ و $z_C + r$. ③ نصف المستقيم $[DM)$ حيث : $(\vec{u}; \overline{DM}) = \frac{\pi}{3}$ مع : D نقطة لاحقتها $z_D = 2 - 2i$.</p> <p>حل التمرين 54 و 55 صفحة 147 حل التمرين 131 و 132 و 133 صفحة 155</p>	بناء المفاهيم:
			نقوم

المادة: رياضيات

الأستاذ: بلجري كمال

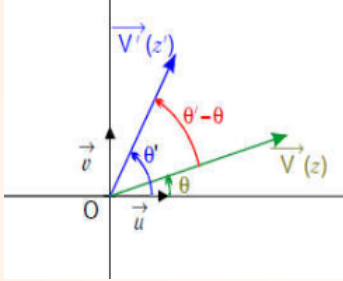
المؤسسة: سليمان جلول

المستوى والشعبة: الثالثة علوم تجريبية

المحتوى المعرفي: الأعداد المركبة

الكفاءات المستهدفة: - توظيف خواص الطويلة والعمدة لحل مسائل في الهندسة .

- سير الحصة

ملاحظات	المعدة	التنبيه (الأشرطة المرئية لكل مرحلة)	أمر الحل
		<p>* التهيئة النفسية: التذكير بمكتسبات السنة الماضية . توظيف خواص الطويلة والعمدة لحل مسائل في الهندسة:</p> <div style="border: 1px solid orange; padding: 10px; margin: 10px 0;"> <p style="text-align: right;">خاصية «1» </p>  <p>المستوي المركب منسوب إلى معلم متعامد و متجانس $(o; \vec{u}, \vec{v})$ الشعاان \vec{OM} و \vec{OM}' لاحقاتهما z و z' على الترتيب . حيث : $z = r(\cos \theta + i \sin \theta)$ و $z' = r'(\cos \theta' + i \sin \theta')$</p> <p>* $(\vec{u}; \vec{OM}) = \arg(z) = \theta$ و $(\vec{u}; \vec{OM}') = \arg(z') = \theta'$ * $(\vec{OM}; \vec{OM}') = (\vec{OM}; \vec{u}) + (\vec{u}; \vec{OM}') = (\vec{u}; \vec{OM}') - (\vec{u}; \vec{OM})$ إذن : $(\vec{OM}; \vec{OM}') = \arg(z') - \arg(z) = \theta' - \theta$</p> </div> <div style="border: 1px solid orange; padding: 10px; margin: 10px 0;"> <p style="text-align: right;">خاصية «2» </p> <p>المستوي المركب منسوب إلى معلم متعامد و متجانس $(O; \vec{i}, \vec{j})$ النقط A, B, C, D لواحقها z_A, z_B, z_C, z_D على الترتيب .</p> <p style="text-align: center;">$\left \frac{z_B - z_A}{z_D - z_C} \right = \frac{ z_B - z_A }{ z_D - z_C } = \frac{AB}{CD}$ •</p> <p style="text-align: center;">$\arg \left(\frac{z_B - z_A}{z_D - z_C} \right) = (\vec{OI}; \vec{AB}) - (\vec{OI}; \vec{CD}) = (\vec{OI}; \vec{AB}) + (\vec{CD}; \vec{OI})$ •</p> <p style="text-align: center;">إذن : $\arg \left(\frac{z_B - z_A}{z_D - z_C} \right) = (\vec{CD}; \vec{AB})$</p> </div> <div style="border: 1px solid purple; padding: 10px; margin: 10px 0;"> <p style="text-align: right;">نتائج </p> <p>* تكون النقط A, B, C في استقامية إذا كان العدد المركب $\frac{z_B - z_A}{z_C - z_A}$ حقيقيا .</p> <p>* يكون المستقيمان (AB) و (AC) متعامدين إذا كان العدد المركب $\frac{z_B - z_A}{z_C - z_A}$ تخيليا صرفا .</p> </div>	الإنتلاق:

ملاحظات	المادة	التفسير (النشطة المرافقة لكل مرحلة)	المراجع
		<p>تمرين تطبيقي:</p> <p>المستوي المركب منسوب إلى معلم متعامد و متجانس $(O; \vec{i}; \vec{j})$</p> <p>النقط A, B, C, D لواحقتها $z_A = -i\sqrt{3}$ ، $z_B = 3 + 2i\sqrt{3}$ ، $z_C = -3 + 2i\sqrt{3}$ و $z_D = \frac{3}{2} + i\frac{\sqrt{3}}{2}$ على الترتيب .</p> <p>① أعط تفسيراً هندسياً لطويلة و عمدة العدد المركب $\frac{z_B - z_A}{z_C - z_A}$:</p> <p>② ما هي طبيعة المثلث ABC</p> <p>③ بين أن النقط A, B, D على استقامة واحدة .</p> <p>حل التمرين التطبيقي:</p> <p>① لدينا : $\frac{z_B - z_A}{z_C - z_A} = \frac{1}{2} - i\frac{\sqrt{3}}{2}$</p> <p>• $\left \frac{z_B - z_A}{z_C - z_A} \right = \frac{ z_B - z_A }{ z_C - z_A } = \frac{AB}{AC}$</p> <p>• $\arg\left(\frac{z_B - z_A}{z_C - z_A}\right) = (\vec{OI}; \vec{AB}) - (\vec{OI}; \vec{AC}) = (\vec{AC}; \vec{AB})$</p> <p>② طبيعة المثلث ABC :</p> <p>لدينا : $\frac{AB}{AC} = 1$ أي $AB = AC$ و $(\vec{AC}; \vec{AB}) = -\frac{\pi}{3}$</p> <p>إذن : المثلث ABC متقايس الأضلاع .</p> <p>③ تبيان أن النقط A, B, D على استقامة واحدة :</p> <p>$\frac{z_B - z_A}{z_D - z_A} = 2z_{\vec{AD}} : أي z_B - z_A = 2(z_D - z_A)$ أي $\frac{z_B - z_A}{z_D - z_A} = 2$</p> <p>إذن : النقط A, B, D على استقامة واحدة .</p> <p>حل التمرين 116 صفحة 153 .</p>	<p>بناء المفاهيم:</p> <p>نقوم</p>
		ملاحظات عامة حول الحصة:	

المادة: رياضيات

الأستاذ: بلجيري كمال

المؤسسة: سليمان جلول
المستوى والشعبة: الثالثة علوم تجريبية
المحتوى المفرد: الأعداد المركبة

الكفاءات المستهدفة: - حل معادلات من الدرجة الثانية - حل معادلات يأول حلها إلى حل معادلة من الدرجة الثانية

- سير الحصة

الملاحظات	المعدة	التنوير (الأنشطة المرفقة لحل مرحلة)	الأمثلة
		<p>* التهيئة النفسية: التذكير بمكتسبات السنة الماضية . الجذران التربيعيان لعدد مركب :</p> <p>تعريف: z عدد مركب غير معدوم . الجذر التربيعي للعدد المركب z هو العدد المركب w حيث : $z = w^2$</p> <p>مثال: ♦ $(-3i)^2 = -9$ و $(3i)^2 = -9$ أي : الجذران التربيعيان للعدد -9 هما $-3i$ و $3i$ ♦ $(-i\sqrt{5})^2 = -5$ و $(i\sqrt{5})^2 = -5$ أي : الجذران التربيعيان للعدد -5 هما $-i\sqrt{5}$ و $i\sqrt{5}$ ♦ الجذران التربيعيان للعدد $3 - 4i$ هما $2 - i$ و $-2 + i$</p> <p>ملاحظة: كل عدد مركب غير معدوم يقبل جذرين تربيعيين متناظرين . البحث عن الجذرين التربيعيين لعدد مركب :</p> <p>$z = a + ib$ عدد مركب و $w = x + iy$ جذر تربيعي له أي : $w^2 = z$</p> $\begin{cases} x^2 + y^2 = \sqrt{a^2 + b^2} \\ x^2 - y^2 = a \\ 2xy = b \end{cases} \quad \text{معناه} \quad \begin{cases} w^2 = z \\ \text{Re}(w^2) = \text{Re}(z) \\ \text{Im}(w^2) = \text{Im}(z) \end{cases} \quad : w^2 = z \text{ معناه}$ <p>تمرين تطبيقي : جد الجذور التربيعية للأعداد المركبة التالية :</p> <p>$4 ; 2i ; -8 + 6i$</p> <p>تمرين تطبيقي : ♦ الجذور التربيعية للعدد $-8 + 6i$ يعني حل المعادلة $w^2 = -8 + 6i$ مع : $w = x + iy$</p> <p>ملاحظة: ♦ حل في \mathbb{C} المعادلة $z^2 = z_0$ يعني : تعيين الجذرين التربيعيين للعدد z_0</p>	الإطلاق:

ملاحظات	المادة	التنسيق (الأنشطة المرافقة لكل مرحلة)	المراجع
		<p style="text-align: center;">المعادلات من الدرجة الثانية بمعاملات حقيقية :</p> <p>مبرهنة: لتكن المعادلة ذات المجهول المركب z : $az^2 + bz + c = 0$ حيث $a \neq 0$ و b, c أعداد حقيقية و $\Delta = b^2 - 4ac$ مميز هذه المعادلة .</p> <p>♦ إذا كان $\Delta = 0$: المعادلة تقبل حلا مضاعفا $z_0 = \frac{-b}{2a}$</p> <p>♦ إذا كان $\Delta > 0$: المعادلة تقبل حلين حقيقيين مختلفين هما :</p> $z_2 = \frac{-b + \sqrt{\Delta}}{2a} \text{ و } z_1 = \frac{-b - \sqrt{\Delta}}{2a}$ <p>♦ إذا كان $\Delta < 0$: المعادلة تقبل حلين مركبين مترافقين هما :</p> $z_2 = \frac{-b + w}{2a} \text{ و } z_1 = \frac{-b - w}{2a}$ <p style="text-align: center;">حيث w جذر تربيعي لـ Δ</p> <p>تمرين تطبيقي : حل في \mathbb{C} المعادلات التالية :</p> $z^2 - z + 1 = 0 \quad \textcircled{1} \quad z^2 - 2z + 3 = 0 \quad \textcircled{2}$ <p>معادلات بؤول حلها إلى حل معادلة من الدرجة الثانية :</p> <p>تمرين تطبيقي : نعتبر في المجموعة \mathbb{C} المعادلة (E) التالية :</p> $z^3 - 3z^2 + 5z - 3 = 0$ <p>① تحقق أن العدد 1 هو حل للمعادلة (E)</p> <p>② عين العددين الحقيقيين a و b حتى يكون من أجل كل عدد مركب z :</p> $z^3 - 3z^2 + 5z - 3 = (z - 1)(z^2 + az + b)$ <p>③ حل في \mathbb{C} المعادلة (E)</p>	<p style="text-align: center;">بناء المفاهيم:</p> <p style="text-align: center;">نقوم</p> <p style="text-align: center;">حل التمرين 56 و 60 و 61 صفحة 148 حل التمرين 146 و 151 صفحة 157</p>
ملاحظات عامة حول الحصة:			

المادة: رياضيات

الأستاذ: بلجري كمال

المؤسسة: سليمان جلول

المستوى والشعبة: الثالثة علوم تجريبية

المحتوى المعرفي: الأعداد المركبة

الكفاءات المستهدفة: - التعرف على الانسحاب وعناصره المميزة .

- سير الحصة

ملاحظات	المصيرة	النشير (الأنشطة المرأهقة لطل مرحلة)	المراحل
		<p>* التهيئة النفسية: التذكير بمكتسبات السنة الماضية . الانسحاب:</p> <p>تعريف: الانسحاب الذي شعاعه \vec{u} هو التحويل النقطي الذي يرفق بكل نقطة M من المستوي النقطة M' من المستوي حيث : $\overrightarrow{MM'} = \vec{u}$</p> <p>خواص: • صورة ثنائية $(A; B)$ بالانسحاب هي ثنائية $(A'; B')$ تحقق : $\overrightarrow{AB} = \overrightarrow{A'B'}$ • الانسحاب تقايس .</p> <p>الأعداد المركبة والانسحاب: في كل ما يلي المستوي المركب منسوب إلى معلم متعامد و متجانس $(O; \vec{u}; \vec{v})$</p> <p>نشاط: نعتبر الانسحاب الذي شعاعه \vec{u} ذو اللاحقة العدد المركب b لتكن M نقطة لاحقها z و M' ذات اللاحقة z' هي صورة M بالانسحاب .</p> <p>① عين لاحقة الشعاع $\overrightarrow{MM'}$ ② اكتب z' بدلالة z</p> <p>خاصية: التحويل النقطي الذي يرفق بكل نقطة M لاحقها z النقطة M' ذات اللاحقة z' حيث : $z' = z + b$ (b عدد مركب) هو انسحاب شعاعه \vec{u} صورة b</p> <p>مثال ①: * طبيعة التحويل الذي عبارته المركبة : $z' = z + 1 - i$ هو : انسحاب شعاعه $\vec{u}(1; -1)$</p> <p>مثال ②: * العبارة المركبة للانسحاب الذي شعاعه $\vec{u}(2; 3)$ هي : $z' = z + 2 + 3i$</p>	<p>الإطلاق:</p> <p>بناء المفاهيم:</p> <p>نقوم</p>
		حل التمرين 70 و 71 صفحة 149	

المادة: رياضيات

الأستاذ: بلجري كمال

المؤسسة: سليمان جلول


المستوى والشعبة: الثالثة علوم تجريبية

المحتوى المعرفي: الأعداد المركبة

الكفاءات المستهدفة: - التعرف على التحاكي وعناصره المميزة.

- سير الحصة

ملاحظات	المهمة	التنبيه (الأشياء التي لا تتركها)	أمر الجمل
		<p>* التهيئة النفسية: التذكير بمكتسبات السنة الماضية .</p> <p>التحاكي:</p> <p>تعريف: Ω نقطة ثابتة و k عدد حقيقي غير معدوم .</p> <p>التحاكي الذي مركزه Ω و نسبته k هو التحويل النقطي الذي يرفق بكل نقطة M من المستوي النقطة M' من المستوي حيث : $\overrightarrow{\Omega M'} = k \cdot \overrightarrow{\Omega M}$</p> <p>مع : $k \in \mathbb{R}^* - \{1\}$</p>	الإطلاق:
		<p>خواص:</p> <ul style="list-style-type: none"> • صورة ثنائية $(A; B)$ بالتحاكي الذي مركزه Ω و نسبته k هي ثنائية $(A'; B')$ تحقق : $\overrightarrow{A'B'} = k \overrightarrow{AB}$ • إذا كانت M' صورة M بالتحاكي الذي مركزه O و نسبته k فإن النقط M, M', O في استقامية . • نلاحظ أنه إذا كان $k \neq 1$ فإن : $A'B' \neq AB$ إذن : التحاكي ليس تقايسا . • صورة شكل هندسي مساحته S بتحاك نسبته k هو شكل هندسي مساحته S' حيث : $S' = k^2 \cdot S$ 	
		<p>الأعداد المركبة والتحاكي:</p> <p>في كل ما يلي المستوي المركب منسوب إلى معلم متعامد و متجانس $(O; \vec{u}; \vec{v})$</p> <p>نشاط:</p> <p>نعتبر التحاكي h الذي مركزه Ω ذات اللاحقة z_Ω و نسبته k مع : $k \in \mathbb{R}^* - \{1\}$</p> <p>لتكن M نقطة لاحقها z و M' ذات اللاحقة z' هي صورة M بالتحاكي h.</p> <p>① عين لاحقة الشعاع $\overrightarrow{\Omega M'}$ و لاحقة $\overrightarrow{\Omega M}$</p> <p>② اكتب z' بدلالة z</p>	
		<p>خاصية «①»:</p> <p>التحويل النقطي الذي يرفق بكل نقطة M لاحقها z النقطة M' ذات اللاحقة z' حيث : $z' = az + b$ مع : a عدد حقيقي غير معدوم و يختلف عن 1 و b عدد مركب</p> <p>هو التحاكي الذي مركزه Ω ذات اللاحقة $z_\Omega = \frac{b}{1-a}$ و نسبته a</p>	

ملاحظات	المادة	التفسير (النشطة المرافقة لكل مرحلة)	المرحلة
		<p>خاصية «2»: </p> <p>a عدد حقيقي غير معدوم و يختلف عن 1 ، Ω نقطة ثابتة من المستوي لاحقها z_Ω . M نقطة لاحقها z و M' لاحقها z' العبارة المختصرة للتحاكي الذي مركزه Ω و نسبته a و الذي يحول M إلى M' هي :</p> $z' - z_\Omega = a(z - z_\Omega)$	
		<p>ملاحظة:</p> <p>$z' = az + b$: معناه $z' = az + (1 - a)z_\Omega$: معناه $z' - z_\Omega = a(z - z_\Omega)$</p> <p>مثال «1»:</p> <p>* طبيعة التحويل الذي عبارته المركبة : $z' = -\frac{1}{2}z + 1 - i$ هو : تحاكي نسبته $-\frac{1}{2}$ و مركزه Ω ذات اللاحقة $\frac{2}{3} - i\frac{2}{3}$ $z_\Omega = \frac{1-i}{1+\frac{1}{2}} = \frac{2}{3} - i\frac{2}{3}$ إذن : $\Omega(\frac{2}{3}; -\frac{2}{3})$</p> <p>مثال «2»:</p> <p>* العبارة المركبة للتحاكي الذي مركزه Ω ذات اللاحقة $z_\Omega = 1 - i$ و نسبته 2 هي : $z' = 2z + b$ و منه $z' = 2z - 1 + i$ ($b = z_\Omega(1 - a)$)</p> <p>مثال «3»:</p> <p>A و B نقطتان لاحقتهما $z_A = i$ و $z_B = 2 + i$ على الترتيب . * لنعين $z_{B'}$ لاحقة النقطة B' صورة B بالتحاكي h الذي مركزه A و نسبته $\sqrt{3}$: لدينا : $h(B) = B'$ معناه : $z_{B'} - z_A = \sqrt{3}(z_B - z_A)$ و منه : $z_{B'} = \sqrt{3}(z_B - z_A) + z_A$ إذن : $z_{B'} = \sqrt{3}(2 + i - i) + i = 2\sqrt{3} + i$</p> <p>تمرين تطبيقي:</p> <p>المستوي المركب منسوب إلى معلم متعامد و متجانس $(O; \vec{u}; \vec{v})$ A ، B ، و C ثلاث نقط لواحقتها $z_A = i$ ، $z_B = 3 - 2i$ ، و $z_C = -1 + 2i$ على الترتيب .</p> <p>① أعط العبارة المركبة للتحاكي h الذي مركزه A و يحول B إلى C ② عين z_D لاحقة النقطة D صورة C بالتحاكي h ③ عين (C) مجموعة انقط M ذات اللاحقة z حيث :</p> $z = 3 + i + 2\sqrt{2}e^{i\theta} \quad \text{مع : } \theta \in \mathbb{R}$ <p>④ عين صورة (C) بالتحاكي h</p>	بناء المفاهيم:
		<p>حل التمرين 79 و 82 صفحة 150 حل التمرين 166 و 167 صفحة 160</p>	نقوم

المادة: رياضيات

الأستاذ: بلجري كمال




المؤسسة: سليمان جلول


المستوى والشعبة: الثالثة علوم تجريبية

المحتوى المعرفي: الأعداد المركبة

الكفاءات المستهدفة: - التعرف على الدوران وعناصره المميزة .

- سير الحصص

ملاحظات	المصحة	التفسير (الأنشطة المراهقة لطلّ مرحلة)	المراجعات
		<p>* تهيئة النفسية: التذكير بمكتسبات السنة الماضية .</p> <p>الدوران:</p> <p>تعريف:  Ω نقطة ثابتة و θ عدد حقيقي .</p> <p>الدوران الذي مركزه Ω و زاويته θ هو التحويل النقطي الذي يرفق النقطة Ω بنفسها و يرفق بكل نقطة M من المستوي تختلف عن Ω النقطة M' من المستوي حيث : $\Omega M = \Omega M'$ و $(\vec{\Omega M}; \vec{\Omega M'}) = \theta$</p> <p>خواص: </p> <ul style="list-style-type: none"> • صورة كل ثنائية $(A; B)$ بالدوران الذي مركزه Ω و زاويته θ هي ثنائية $(A'; B')$ تحقق : $A'B' = AB$ و $(\vec{AB}; \vec{A'B'}) = \theta$ • الدوران تقايس . • الدوران الذي مركزه Ω و زاويته غير معدومة له نقطة صامدة وحيدة هي Ω <p>الأعداد المركبة والدوران:</p> <p>في كل ما يلي المستوي المركب منسوب إلى معلم متعامد و متجانس $(O; \vec{u}; \vec{v})$</p> <p>نشاط:</p> <p>نعتبر الدوران R الذي مركزه Ω ذات اللاحقة z_Ω و زاويته θ مع : $\theta \in \mathbb{R}$</p> <p>لتكن M نقطة لاحقها z و M' ذات اللاحقة z' هي صورة M بالدوران R .</p> <p>① عين طولية و عمدة العدد المركب $a = \frac{z' - z_\Omega}{z - z_\Omega}$ ثم اكتبه على الشكل الأسّي .</p> <p>② اكتب z' بدلالة z</p> <p>خاصية ①: </p> <p>التحويل النقطي الذي يرفق بكل نقطة M لاحقها z النقطة M' ذات اللاحقة z' حيث : $z' = az + b$ مع a عدد مركب غير حقيقي طويلته 1 و b عدد مركب هو الدوران الذي مركزه Ω ذات اللاحقة $z_\Omega = \frac{b}{1-a}$ و زاويته $\arg(a)$</p>	<p>الإطلاق:</p>

ملاحظات	المادة	التفسير (النشطة المرافقة لكل مرحلة)	المرحلة
		<p>خاصية «2»: </p> <p>a عدد مركب غير حقيقي طويلته 1 ، Ω نقطة ثابتة من المستوي لاحقها z_Ω . M نقطة لاحقها z و M' لاحقها z' العبرة المختصرة للدوران الذي مركزه Ω و زاويته $arg(a)$ و الذي يحول النقطة M إلى M' هي : $z' - z_\Omega = a(z - z_\Omega)$ حيث $a = e^{i\theta}$</p> <p>ملاحظة: $z' - z_\Omega = a(z - z_\Omega)$ معناه : $z' = az + (1 - a)z_\Omega$ $z' = az + b$ معناه : $z' = az + b$</p> <p>مثال «1»: * طبيعة التحويل الذي عبارته المركبة : $z' = iz + 2 - i$ هو : دوران زاويته $arg(i) = \frac{\pi}{2}$ و مركزه Ω ذات اللاحقة $z_\Omega = \frac{2-i}{1-i} = \frac{3}{2} + i\frac{1}{2}$</p> <p>مثال «2»: * العبرة المركبة للدوران الذي مركزه Ω ذات اللاحقة $z_\Omega = \frac{\sqrt{3}}{2} - \frac{1}{2}i$ و زاويته $\frac{\pi}{3}$ هي : $z' = e^{i\frac{\pi}{3}}z + b$ و منه $z' = (\frac{1}{2} + i\frac{\sqrt{3}}{2})z - i$ ($b = z_\Omega(1 - a)$) (يمكن استعمال العبرة المختصرة للحصول علي المطلوب)</p> <p>مثال «3»: * A و B نقطتان لاحقتهما $z_A = 1 - 2i$ و $z_B = 3 + 2i$ على الترتيب . * لنعين $z_{B'}$ لاحقة النقطة B' صورة B بالدوران R الذي مركزه A و زاويته $\frac{\pi}{2}$ لدينا : $R(B) = B'$ معناه : $z_{B'} - z_A = e^{i\frac{\pi}{2}}(z_B - z_A)$ و منه : $z_{B'} = i(z_B - z_A) + z_A$ إذن : $z_{B'} = i(3 + 2i - 1 + 2i) + 1 - 2i = -3$</p> <p>تمرين تطبيقي: المستوي المركب منسوب إلى معلم متعامد و متجانس $(O; \vec{u}; \vec{v})$ A ، B و C ثلاث نقط لواحقتها $z_A = 3 + 3i$ ، $z_B = \bar{z}_A$ و $z_C = -1 + 2i$ على الترتيب .</p> <p>① أعط العبرة المركبة للدوران R الذي مركزه O و يحول A إلى B ② استنتج طبيعة المثلث ABO ③ عين z_D لاحقة النقطة D صورة C بالدوران R ④ عين (C) مجموعة النقط M ذات اللاحقة z حيث :</p> <p>مع : $\theta \in \mathbb{R}$ $z = 2 + i + 2e^{i\theta}$</p> <p>④ عين صورة (C) بالدوران R</p> <p>حل التمرين 80 و 83 صفحة 150 حل التمرين 162 و 163 صفحة 159</p>	<p>بناء المفاهيم:</p> <p>تفويهم</p>

المادة: رياضيات

الأستاذ: بلجيري كمال

المؤسسة: سليمان جلول
المستوى والشعبة: الثالثة علوم تجريبية
المحتوى المكرفي: الأعداد المركبة

الكفاءات المستهدفة: - حل مسائل هندسية تتطلب استعمال انسحابات ، تحاكيات أو دورانات بواسطة الأعداد المركبة .

- سير الحصّة

الملاحظات	المصحة	التعليق (الأشكال المرأوبة لكل مرحلة)	الأمثلة
		<p>* التهيئة النفسية: تطبيقات:</p> <p>? تمرين تطبيقي: المستوي المركب منسوب إلى معلم متعامد ومتجانس $(O; \vec{i}, \vec{j})$.</p> <p>1 حل في مجموعة الأعداد المركبة \mathbb{C} المعادلة :</p> $(z^2 + 3)(z^2 - 6z + 21) = 0$ <p>2 علمّ النقط A, B, C, D ذات اللواحق على الترتيب :</p> $z_D = \bar{z}_C, z_C = 3 + 2\sqrt{3}i, z_B = \bar{z}_A, z_A = \sqrt{3}i$ <p>3 بين أن النقط A, B, C, D تنتمي إلى نفس الدائرة (C) التي مركزها Ω ذات الاحقة $Z_\Omega = 3$.</p> <p>4 لتكن النقطة E نظيرة D بالنسبة إلى O .</p> <p>a بين أن $\frac{z_C - z_B}{z_E - z_B} = e^{-i\frac{\pi}{3}}$ ثم عين طبيعة المثلث BEC .</p> <p>b عين طبيعة التحويل T الذي يحول E إلى C و عناصره المميزة .</p> <p>5 ليكن h التحاكي الذي مركزه R ذو الاحقة $z_w = -3$ و نسبته 2 .</p> <p>a أعط العبارة المركبة للتحاكي h .</p> <p>b احسب مساحة صورة الدائرة (C) بالتحاكي h .</p>	<p>الإطلاق:</p> <p>بناء المفاهيم:</p>
		<p>حل التمرين الثاني بكالوريا 2010 مع الموضوع الثاني</p>	<p>نقوم</p>

المادة: رياضيات

الأستاذ: بليحري كمال

المؤسسة: سليمان جلول

المستوى والشعبة: الثالثة علوم تجريبية

المحتوى المعرفي: الأعداد المركبة

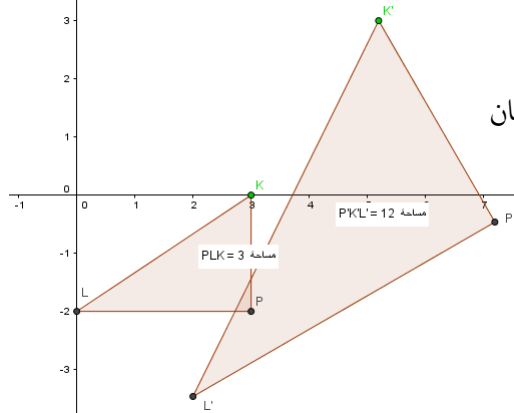
الكفاءات المستهدفة: - التعرف على التشابه المباشر وعناصره المميزة .

- سير الحصة

الملاحظات	المعدة	النهبر (الأنشطة المرادولة لكل مرحلة)	المرحلة
		<p>* التهيئة النفسية: التذكير بمكتسبات السنة الماضية .</p> <p>مناقشة النشاط 01 صفحة 164:</p> <p>1. تعيين مجموعة النقط الصامدة بالتحويل (S) :</p> $M(x; y) \text{ صورتها } M'(x'; y') \text{ بالتحويل (S) حيث } \begin{cases} x' = x\sqrt{3} - y \\ y' = x + y\sqrt{3} \end{cases} \dots (\star)$ <p>M صامدة معناه: $x = x'$ و $y = y'$</p> <p>بالتعويض في (★) نجد :</p> $\begin{cases} x = x\sqrt{3} - y \\ y = x + y\sqrt{3} \end{cases}$ <p>إذن: $(x; y) = (0; 0)$ و بالتالي : مجموعة النقط الصامدة هي مبدء المعلم O</p> <p>2. إثبات أن $A'B' = 2AB$:</p> <p>لدينا : $S(A) = A'$ أي $\begin{cases} x_{A'} = x_A\sqrt{3} - y_A \\ y_{A'} = x_A + y_A\sqrt{3} \end{cases}$</p> <p>و لدينا : $S(B) = B'$ أي $\begin{cases} x_{B'} = x_B\sqrt{3} - y_B \\ y_{B'} = x_B + y_B\sqrt{3} \end{cases}$</p> <p>بعد التعويض و الحساب نجد: $A'B' = 2AB$</p> <p>3. إثبات أن $\frac{A'B'}{C'D'} = \frac{AB}{CD}$:</p> <p>لدينا : $S(A) = A'$ و $S(B) = B'$ معناه : $A'B' = 2AB$</p> <p>و لدينا : $S(C) = C'$ و $S(D) = D'$ معناه : $C'D' = 2CD$</p> <p>إذن : $\frac{A'B'}{C'D'} = \frac{AB}{CD}$</p> <p>4. كتابة z' بدلالة z :</p> <p>نضع : $z = x + iy$ و $z' = x' + iy'$</p> <p>و منه : $x' + iy' = (x\sqrt{3} - y) + i(x + y\sqrt{3}) = x(\sqrt{3} + i) - y(1 - i\sqrt{3})$</p> $= x(\sqrt{3} + i) + iy(\sqrt{3} + i) = (x + iy)(\sqrt{3} + i)$ <p>إذن : $z' = (\sqrt{3} + i)z$</p> <p>5. تعيين طبيعة المثلثين PKL و $P'K'L'$:</p> <p>$S(P) = P'$ أي $z_{P'} = (\sqrt{3} + i)z_P$ إذن : $z_{P'} = 2 + 3\sqrt{3} + i(3 - 2\sqrt{3})$</p> <p>$S(K) = K'$ أي $z_{K'} = (\sqrt{3} + i)z_K$ إذن : $z_{K'} = 3\sqrt{3} + 3i$</p> <p>$S(L) = L'$ أي $z_{L'} = (\sqrt{3} + i)z_L$ إذن : $z_{L'} = 2 - 2i\sqrt{3}$</p>	الإنتلاق:

التشابه (النشيط المرافقة لكل مرحلة)

المرحلة



المثلثان PKL و $P'K'L'$ قائمان ومتشابهان حيث نسبة التشابه هي 2 .

$$\text{لدينا : } S_{PKL} = \frac{PK \cdot PL}{2} = 3$$

ومنه ينتج : $S_{P'K'L'} = 4S_{PKL} = 12$

بناء المفاهيم:

التشابه المباشر:

في كل مايلي المستوي منسوب إلى معلم متعامد ومتجانس $(O; \vec{OI}; \vec{OJ})$

تعريف:

التشابه المباشر هو كل تحويل نقطي في المستوي يحافظ على نسب المسافات وعلى الزوايا الموجهة .

العناصر المميزة لتشابه مباشر:

نتيجة:

لتكن A, B, C, D نقط متمايزة متنى متنى من المستوي و A', B', C', D' صورها على الترتيب بالتحويل S يكون التحويل النقطي S تشابها مباشرا للمستوي إذا و فقط إذا وجد عدد حقيقي موجب تماما k حيث :

$$(\vec{AB}; \vec{A'B'}) = (\vec{CD}; \vec{C'D'}) \quad \text{و} \quad \frac{A'B'}{AB} = \frac{C'D'}{CD} = k$$

- يسمى العدد الحقيقي k : نسبة التشابه المباشر
- تسمى θ : زاوية التشابه المباشر
- التشابه المباشر يقبل نقطة صامدة وحيدة Ω تسمى : مركز التشابه المباشر

تمرين تطبيقي :

المستوي المركب منسوب إلى معلم متعامد ومتجانس $(O; \vec{u}; \vec{v})$

$ABCD$ مربع مباشر طول ضلعه 1 و مركزه O حيث : $(\vec{AB}; \vec{AD}) = \frac{\pi}{2}$

① عين الخصائص المميزة للتشابه المباشر S الذي مركزه A و يحول B إلى O

② عين النسبة و الزاوية للتشابه المباشر S' الذي يحول B إلى O و A إلى D

حل مختصر :

$$\textcircled{1} \cdot (\vec{AB}; \vec{AO}) = \frac{\pi}{4} + 2k\pi; k \in \mathbb{Z} \quad \text{و} \quad AO = \frac{\sqrt{2}}{2} AB \quad \text{معناه } S(B) = O$$

$$\textcircled{2} \cdot (\vec{BA}; \vec{OD}) = -\frac{\pi}{4} + 2k\pi; k \in \mathbb{Z} \quad \text{و} \quad OD = \frac{\sqrt{2}}{2} BA$$

حل التمرين 10 و 12 صفحة 179

نقوم

المادة: رياضيات

الأستاذ: بلجيري كمال

المؤسسة: سليمان جلول

المستوى والشعبة: الثالثة علوم تجريبية

المحتوى المعرفي: الأعداد المركبة

الكفاءات المستهدفة: - التعبير عن تشابه مباشر بالأعداد المركبة .

- سير الحصة

الملاحظات	المصيدة	التفسير (الأنشطة المرفقة لكل مرحلة)	الأمثلة
		<p>* التهيئة النفسية: التذكير بمكتسبات السنة الماضية .</p> <p>التعبير عن تشابه مباشر بالأعداد المركبة :</p> <p>المستوي المركب منسوب إلى معلم متعامد ومتجانس $(O; \vec{u}; \vec{v})$</p> <p>S تشابه مباشر نسبته k و زاويته θ</p> <p>لتكن O' ذات اللاحقة b صورة مبدأ المعلم O بالتشابه المباشر S</p> <p>من أجل كل نقطة M لاحقتها z تختلف عن O</p> <p>فإن M' ذات اللاحقة z' صورة M بالتشابه S تحقق :</p> $\begin{cases} O'M' = k.OM \dots (1) \\ (\vec{OM}; \vec{O'M'}) = \theta \dots (2) \end{cases}$ <p>من (1) لدينا : $z' - b = k z$</p> <p>من (2) لدينا : $\arg\left(\frac{z' - b}{z - 0}\right) = \theta$</p> <p>و عليه : $\begin{cases} z' - b = k z \\ \arg(z' - b) - \arg(z) = \theta \end{cases}$ و تكافئ : $\begin{cases} z' - b = k z \\ \arg(z' - b) = \arg(z) + \theta \end{cases}$</p> <p>تكافئ : $z' - b = a.z$ حيث $a = k$ و $\arg(a) = \theta$</p> <p>أي : $a = ke^{i\theta}$ و عليه : $z' - b = ke^{i\theta}.z$ إذن $z' = ke^{i\theta}.z + b$</p> <p>إذن : التشابه المباشر S الذي يرفق بكل نقطة M لاحقتها z النقطة M' لاحقتها z' بحيث : $z' = ke^{i\theta}.z + b$</p>	<p>الإطلاق:</p>
		<p>خاصية «1»:</p> <p>كل تشابه مباشر من المستوي المركب له كتابة مركبة من الشكل : $z' = az + b$ حيث : a و b عدنان مركبان و $a \neq 0$</p>	
		<p>خاصية «2»:</p> <p>ليكن S تشابه مباشر نسبته k و زاويته θ و مركزه Ω ذات اللاحقة z_Ω .</p> <p>M نقطة لاحقتها z صورتها بالتشابه المباشر S هي M' لاحقتها z'</p> <p>حيث : $z' = ke^{i\theta}.z + b$ لكن $z_\Omega = ke^{i\theta}.z_\Omega + b$</p> <p>و بالطرح نجد : $z' - z_\Omega = ke^{i\theta}(z - z_\Omega)$</p> <p>و هي العبارة المختصرة للتشابه المباشر S الذي مركزه Ω و نسبته k و زاويته θ</p>	

ملاحظات	المهمة	التفسير (النشطة المرافقة لكل مرحلة)	المرأجل
		<p>ملاحظة :</p> <p>لا توجد تشابهات أخرى كتابتها المركبة تختلف عن $z' = az + b$ مع: $a \in \mathbb{C}^*$ و $b \in \mathbb{C}$</p> <p>مثال «1» :</p> <p>* طبيعة التحويل الذي عبارته المركبة: $z' = (1 - i)z + 2 - i$ هو: تشابه مباشر نسبته $k = 1 - i = \sqrt{2}$ و زاويته $\arg(1 - i) = -\frac{\pi}{4}$ و مركزه Ω ذات اللاحقة $z_{\Omega} = \frac{2-i}{1-i+i} = -1 - 2i$</p> <p>مثال «2» :</p> <p>* العبارة المركبة للتشابه المباشر الذي مركزه w ذات اللاحقة $z_w = 3 - i\sqrt{3}$ و نسبته $\sqrt{3}$ و زاويته $\frac{\pi}{2}$ هي: $z' = \sqrt{3}e^{i\frac{\pi}{2}}z + b$ و منه: $z' = i\sqrt{3}z - 4\sqrt{3}i$ ($b = z_w(1 - a)$) (يمكن استعمال العبارة المختصرة للحصول على المطلوب)</p> <p>مثال «3» :</p> <p>A و B نقطتان لاحقتاهما $z_A = 5 + 3i$ و $z_B = 5 - 3i$ على الترتيب . * لنعين $z_{A'}$ لاحقة النقطة A' صورة A بالتشابه المباشر S الذي مركزه B و نسبته $\sqrt{2}$ و زاويته $\frac{3\pi}{4}$: لدينا: $S(A) = A'$ معناه: $z_{A'} - z_B = \sqrt{2}e^{i\frac{3\pi}{4}}(z_A - z_B)$ و منه: $z_{A'} = (-1 + i)(z_A - z_B) + z_B$ إذن: $z_{A'} = (-1 + i)(5 + 3i - 5 + 3i) + 5 - 3i = -1 - 9i$</p> <p>تمرين تطبيقي :</p> <p>المستوي المركب منسوب إلى معلم متعامد و متجانس $(O; \vec{u}; \vec{v})$ A، B و C ثلاث نقط لواحقتها $z_A = 1 + i\sqrt{3}$، $z_B = \bar{z}_A$ و $z_C = 4 + i\sqrt{3}$ على الترتيب .</p> <p>① أعط العبارة المركبة للتشابه المباشر S الذي مركزه A و يحول B إلى C</p> <p>② استنتج طبيعة المثلث ABC</p> <p>③ عين z_D لاحقة النقطة D صورة C بالتشابه المباشر S</p> <p>④ عين (C) مجموعة انقط M ذات اللاحقة z حيث :</p> <p>مع: $\theta \in \mathbb{R}$ $z = 2 + i + 2e^{i\theta}$</p> <p>④ عين صورة (C) بالتشابه المباشر S</p>	<p>بناء المفاهيم:</p> <p>نقوم</p>
		<p>حل التمرين 15 و 16 صفحة 179</p> <p>حل التمرين 43 صفحة 183</p>	
		ملاحظات عامة حول الحصة:	

المادة: رياضيات

الأستاذ: بلجري كمال


المؤسسة: سليمان جلول

المستوى والشعبة: الثالثة علوم تجريبية

المحتوى المعرفي: الأعداد المركبة

الكفاءات المستهدفة: - تعيين التحليل القانوني للتشابه المباشر بالأعداد المركبة .

- سير الحصة

ملاحظات	المصحة	التنبيه (الأنشطة المرادفة لكل مرحلة)	المرحلة
		<p>* التهيئة النفسية: التذكير بالعبارة المركبة للتحويلات النقطية المألوفة .</p> <p>التحليل القانوني للتشابه المباشر :</p> <p>في كل ما يلي المستوي المركب منسوب إلى معلم متعامد ومتجانس $(O; \vec{u}, \vec{v})$ ليكن h التحاكي الذي نسبته k ومركزه Ω ذات اللاحقة z_Ω والذي يرفق بكل نقطة M لاحقتها z النقطة M_1 لاحقتها z_1 .</p> <p>و R الدوران الذي مركزه Ω ذات اللاحقة z_Ω وزاويته θ والذي يرفق بكل نقطة M_1 لاحقتها z_1 النقطة M' لاحقتها z' .</p> $M \xrightarrow{h} M_1 \xrightarrow{R} M'$ <p>أي : M' هي صورة M بالتحويل النقطي $R \circ h$</p> $h(M) = M_1 \text{ معناه } z_1 - z_\Omega = k(z - z_\Omega)$ <p>و $R(M_1) = M'$ معناه $z' - z_\Omega = e^{i\theta}(z_1 - z_\Omega)$</p> <p>و عليه : $R \circ h(M) = M'$ معناه $z' - z_\Omega = ke^{i\theta}(z - z_\Omega)$</p> <p>إذن $R \circ h = S$ معناه : مركب تحاكي و دوران هو تشابه مباشر .</p> <p>- بنفس الطريقة نثبت أن : $h \circ R = S$</p>	الإطلاق:
		<p>خاصية:  S تشابه مباشر نسبته k ($k \in \mathbb{R}_+^*$) و زاويته θ ($\theta \in \mathbb{R}$)</p> <ul style="list-style-type: none"> • إذا كان $k = 1$ و $\theta = 0$ التشابه المباشر S انسحاب . • في الحالات الأخرى S يقبل نقطة صامدة وحيدة Ω لاحقتها z_Ω <p>و : $S = R \circ h = h \circ R$</p> <p>حيث : h التحاكي الذي مركزه Ω و نسبته k و R الدوران الذي مركزه Ω و زاويته θ</p>	
		<p>مثال :</p> <p>* H تحاكي مركزه w ذات اللاحقة $z_w = i$ و نسبته 3 و يرفق بكل نقطة M لاحقتها z النقطة M_1 لاحقتها z_1 .</p> <p>* R دوران مركزه w و زاويته $\theta = \frac{\pi}{2}$ و يرفق بكل نقطة M_1 لاحقتها z_1 النقطة M' لاحقتها z' .</p>	

ملاحظات	المهمة	التفسير (الأنشطة المرافقة لكل مرحلة)	المرحلة
		<p>- لنعين طبيعة التحويل $R \circ H$ و عناصره المميزة :</p> <p>$H(M) = M_1$ معناه $z_1 - z_w = 3(z - z_w)$ أي $z_1 = 3z - 2i$</p> <p>$R(M_1) = M'$ معناه $z' - z_w = e^{i\frac{\pi}{2}}(z_1 - z_w)$ أي $z' = iz_1 + 1 + i$</p> <p>و عليه M' هي صورة M بالتحويل $R \circ H$</p> <p>إذن : $R \circ H(M) = M'$ معناه $z' = i(3z - 2i) + 1 + i$ أي $z' = 3iz + 3 + i$</p> <p>و بالتالي : $R \circ H$ تشابه مباشر نسبته 3 و زاويته $\frac{\pi}{2}$ و مركزه w.</p> <p>تمرين تطبيقي: (بكالوريا 2012 ر بتصرف)</p> <p>المستوي المركب منسوب إلى معلم متعامد و متجانس $(O; \vec{u}, \vec{v})$</p> <p>نعتبر النقط A, B, C, D التي لواحقها على الترتيب :</p> <p>$z_D = \bar{z}_C$ و $z_C = -2i$ ، $z_B = \bar{z}_A$ ، $z_A = \sqrt{3} + i$</p> <p>① بين أن النقط A, B, C, D تنتمي إلى دائرة (γ) يطلب تعيين مركزها و نصف قطرها .</p> <p>② نرمز بـ z_E إلى لاحقة النقطة E نظيرة النقطة B بالنسبة إلى المبدأ O</p> <p>③ بين أن $\frac{z_A - z_C}{z_E - z_C} = e^{i\frac{\pi}{3}}$</p> <p>④ بين أن النقطة A هي صورة E بدوران R مركزه C يطلب تعيين زاويته .</p> <p>⑤ استنتج طبيعة المثلث AEC</p> <p>⑥ H هو التحاكي الذي مركزه O و نسبته 2</p> <p>⑦ عين طبيعة التحويل $R \circ H$ و عناصره المميزة .</p> <p>⑧ استنتج صورة الدائرة (γ) بالتحويل $R \circ H$</p> <p>حل مختصر :</p> <p>① $OA = OB = OC = OD = 2$.</p> <p>②</p> <p>• لدينا : $z_E = -z_B$ و عليه : $\frac{z_A - z_C}{z_E - z_C} = e^{i\frac{\pi}{3}}$</p> <p>• $z_A - z_C = (z_E - z_C)e^{i\frac{\pi}{3}}$</p> <p>إذن : A هي صورة E بالدوران R الذي مركزه C و زاويته $-\frac{\pi}{3}$.</p> <p>• لدينا $CE = CA$ و $(\vec{CE}; \vec{CA}) = -\frac{\pi}{3}$</p> <p>المثلث AEC متقايس الأضلاع .</p> <p>③</p> <p>• $H(M) = M_1$ معناه : $z_1 = 2z$</p> <p>• $R(M_1) = M'$ معناه : $z' - z_c = e^{i(-\frac{\pi}{3})}(z_1 - z_c)$</p> <p>و عليه : $z' = 2e^{i(-\frac{\pi}{3})}z + \sqrt{3} - i$.</p> <p>إذن : $R \circ H$ هو تشابه مباشر نسبته 2 و زاويته $-\frac{\pi}{3}$ و مركزه Ω حيث :</p> <p>$z_\Omega = \frac{-\sqrt{3} - 3i}{3}$ أي $\Omega(-\frac{\sqrt{3}}{3}; -1)$.</p> <p>• لدينا : $H(\gamma(0; 2)) = (\gamma_1)(0; 4)$ و $R(\gamma_1) = (\gamma')(O'; 4)$</p> <p>حيث : $O' = R(O)$ و منه : $z_{O'} - z_c = e^{i(-\frac{\pi}{3})}(z_O - z_c)$ و عليه نجد : $z_{O'} = \sqrt{3} - i$.</p>	بناء المفاهيم:
		<p>حل التمرين الثاني بكالوريا 2013 رياضي الموضوع الثاني</p>	نفويهم

المادة: رياضيات

الأستاذ: بلحري كمال


المؤسسة: سليمان جلول


المستوى والشعبة: الثالثة علوم تجريبية

المحتوى المعرفي: الأعداد المركبة

الكفاءات المستهدفة: - تركيب تشابهين مباشرين .

- سير الحصة

ملاحظات	المهمة	التعليق (الأشكال المرافقة لكل مرحلة)	المرحلة
		<p>* التهيئة النفسية: التذكير بالعبارة المركبة للتشابه المباشر . في كل ما يلي المستوي المركب منسوب إلى معلم متعامد ومتجانس $(O; \vec{u}; \vec{v})$</p> <p>تركيب تشابهين مباشرين :</p> <p>ليكن S_1 التشابه المباشر الذي يرفق بكل نقطة M لاحقتها z النقطة M_1 لاحقتها z_1 . و S_2 التشابه المباشر الذي يرفق بكل نقطة M_1 لاحقتها z_1 النقطة M' لاحقتها z' .</p> $M \xrightarrow{S_1} M_1 \xrightarrow{S_2} M'$ <p>أي : M' هي صورة M بالتحويل النقطي $S_2 \circ S_1$</p> <p>$S_1(M) = M_1$ معناه : $z_1 = a_1z + b_1$</p> <p>و $S_2(M_1) = M'$ معناه : $z' = a_2z_1 + b_2$</p> <p>و عليه : $S_2 \circ S_1(M) = M'$ معناه : $z' = a_2(a_1z + b_1) + b_2 = a_1 \cdot a_2z + a_2b_1 + b_2$</p> <p>نضع : $a = a_1 \cdot a_2$ و $b = a_2b_1 + b_2$ إذن : $z' = az + b$ مع : $a \in \mathbb{C}^*$ و $b \in \mathbb{C}$</p> <p>و بالتالي : $S_2 \circ S_1$ تشابه مباشر .</p> <p>حيث : نسبته $k = a = a_1 \cdot a_2 = a_1 \times a_2$</p> <p>و زاويته $\theta = \arg(a_1 \cdot a_2) = \arg(a_1) + \arg(a_2)$</p> <p>ملاحظة :</p> $S_2 \circ S_1 = S_1 \circ S_2$	الإطلاق:
		<p>خاصية: </p> <p>تركيب تشابهين مباشرين هو تشابه مباشر نسبته جداء النسبتين و زاويته مجموع الزاويتين .</p>	
		<p>مثال :</p> <p>* S_1 تشابه مباشر مركزه A ذات اللاحقة $z_A = 1 - i$ و نسبته 3 و زاويته $\frac{\pi}{4}$</p> <p>* S_2 تشابه مباشر مركزه A ذات اللاحقة $z_A = 1 - i$ و نسبته 2 و زاويته $\frac{\pi}{2}$</p> <p>إذن : $S_1 \circ S_2$ هو تشابه مباشر مركزه A و نسبته $k = 3 \times 2 = 6$</p> <p>و زاويته $\theta = \frac{\pi}{4} + \frac{\pi}{2} = \frac{3\pi}{4}$</p>	
		<p>تمرين تطبيقي: (بكالوريا 2011 ر بتصرف)</p> <p>T التحويل النقطي الذي يرفق بكل نقطة M من المستوي لاحقتها z</p> <p>النقطة M' لاحقتها z' حيث : $z' = (-1 + i)z + 1 - 3i$</p> <p>① عين طبيعة التحويل T و عناصره المميزة .</p> <p>② استنتج طبيعة التحويل $T \circ T$ و عناصره المميزة .</p>	

ملاحظات	المهمة	التفسير (الأنشطة المرافقة لكل مرحلة)	المرحلة
		<p>التشابه المباشر ونقط المسنوي :</p> <p>خاصية: </p> <p>إذا كانت A, B, A', B' أربع نقط حيث $A \neq B$ و $A' \neq B'$ فإنه يوجد تشابه مباشر وحيد يحول A إلى A' و يحول B إلى B'.</p> <p>البرهان :</p> <p>ليكن S تشابها مباشرا كتابته المركبة $z' = az + b$ مع $a \neq 0$</p> <p>$z_A, z_B, z_{A'}, z_{B'}$ لواحق A, B, A', B' على الترتيب .</p> <p>حيث $A \neq B$ و $A' \neq B'$</p> $\begin{cases} z_{A'} = az_A + b \\ z_{B'} = az_B + b \end{cases} \text{ معناه } \begin{cases} S(A) = A' \\ S(B) = B' \end{cases}$ <p>و بالتالي : $a = \frac{z_{B'} - z_{A'}}{z_B - z_A}$ و $b = z_{A'} - \frac{z_{B'} - z_{A'}}{z_B - z_A} \cdot z_A$</p> <p>بما أن $A' \neq B'$ فإن $a \neq 0$ و التشابه S وحيد .</p> <p>مثال :</p> <p>لتكن النقط A, B, C, D لواحقها على الترتيب :</p> <p>$z_D = -3$ و $z_C = -4 + 5i$ ، $z_B = -3 - 5i$ ، $z_A = 1$</p> <p>- لتعين التشابه المباشر الذي يحول A إلى B و يحول C إلى D :</p> <p>ليكن S التشابه المباشر المطلوب كتابته المركبة $z' = az + b$</p> <p>حيث $a \in \mathbb{C}^*$ و $b \in \mathbb{C}$</p> $\begin{cases} -3 - 5i = a + b \\ -3 = a(-4 + 5i) + b \end{cases} \text{ أي } \begin{cases} z_B = az_A + b \\ z_D = az_C + b \end{cases} \text{ معناه } \begin{cases} S(A) = B \\ S(C) = D \end{cases}$ <p>بالطرح طرف من طرف نجد : $5i = (-5 + 5i)a$ و منه : $a = \frac{5i}{-5 + 5i} = \frac{1}{2} - \frac{1}{2}i$</p> <p>من المعادلة $-3 - 5i = a + b$ نجد : $b = -3 - 5i - a$</p> <p>و منه : $b = -3 - 5i - \frac{1}{2} - \frac{1}{2}i = -\frac{7}{2} - \frac{9}{2}i$</p> <p>إذن : العبارة المركبة للتشابه S هي : $z' = \left(\frac{1}{2} - \frac{1}{2}i\right)z - \frac{7}{2} - \frac{9}{2}i$</p> <p>- عناصره المميزة :</p> <p>نسبته $a = \frac{\sqrt{2}}{2}$ و زاويته $\arg(a) = -\frac{\pi}{4}$ و مركزه Ω لاحقها $\Omega = -8 - i$</p> <p>تمرين تطبيقي : (بكالوريا 2013 تر بتصرف)</p> <p>المستوي المركب منسوب إلى معلم متعامد و متجانس $(O; \vec{u}; \vec{v})$</p> <p>نعتبر النقط A, B, C التي لواحقها على الترتيب :</p> <p>$z_C = -5 + i\sqrt{3}$ و $z_B = -1 + i\sqrt{3}$ ، $z_A = -1 - i\sqrt{3}$</p> <p>S التشابه المباشر الذي يحول A إلى C و يحول O إلى B.</p> <p>❖ جد الكتابة المركبة للتشابه المباشر S ثم عين العناصر المميزة له .</p>	بناء المفاهيم:
		<p>حل التمرين 36 صفحة 182</p> <p>حل التمرين 49 صفحة 184</p>	تقويم

المادة: رياضيات

الأستاذ: بلجري كمال

المؤسس: سليمان جلول

المستوى والشعبة: الثالثة علوم تجريبية

المحتوى المعرفي: الأعداد المركبة

الكفاءات المستهدفة: - توظيف خواص التشابهات المباشرة لحل مسائل هندسية .

- سير الحصة

الملاحظات	المهمة	النسب (النشطة المرادولة لحل مرحلة)	المرحلة
		<p>* التهيئة النفسية: التذكير بالعلاقة المركبة للتشابه المباشر .</p> <p>تطبيقات :</p> <p>تمرين تطبيقي: (بكالوريا 2011 ع ت)</p> <p>المستوي منسوب إلى معلم متعامد ومتجانس (o, \vec{i}, \vec{j}) . النقاط A, B, C لواحقها على الترتيب : $z_C = -4 + i$ و $z_B = 2 + 3i$ ، $z_A = -i$</p> <p>a.1 اكتب على الشكل الجبري العدد المركب $\frac{z_C - z_A}{z_B - z_A}$</p> <p>b عين طويلة و عمدة العدد المركب $\frac{z_C - z_A}{z_B - z_A}$</p> <p>c استنتج طبيعة المثلث ABC</p> <p>2 نعتبر التحويل T في المستوي الذي يرفق بكل نقطة M لاحقتها z النقطة M' لاحقتها z' حيث : $z' = iz - 1 - i$</p> <p>a عين طبيعة التحويل T و حدد عناصره المميزة .</p> <p>b ما هي صورة النقطة B بالتحويل T</p> <p>3 لتكن النقطة D ذات اللاحقة $z_D = -6 + 2i$</p> <p>a بين أن النقاط A, C, D في استقامية .</p> <p>b عين نسبة التحاكي h الذي مركزه A و يحول C إلى D</p> <p>c عين العناصر المميزة للتشابه المباشر S الذي مركزه A و يحول B إلى D</p>	الإنتلاق:

التفسير (الأنشطة المرافقة لكل مرحلة)

ملاحظات

المصحة

المرحل

حل التمرين التطبيقي: (بكالوريا 2011 ع ت) a.1 الشكل الجبري للعدد المركب: $\frac{z_C - z_A}{z_B - z_A}$

$$\frac{z_C - z_A}{z_B - z_A} = \frac{-4+2i}{2+4i} = \frac{(-4+2i)(2-4i)}{(2+4i)(2-4i)} = \frac{20i}{20} = i$$

b تعيين طويلة وعمدة العدد المركب $\frac{z_C - z_A}{z_B - z_A}$:

$$\arg\left(\frac{z_C - z_A}{z_B - z_A}\right) = \arg(i) = \frac{\pi}{2} \text{ و } \left|\frac{z_C - z_A}{z_B - z_A}\right| = |i| = 1$$

c استنتاج طبيعة المثلث ABC:

$$\text{لدينا: } AC = AB : \text{ إذن } \left|\frac{z_C - z_A}{z_B - z_A}\right| = \left|\frac{z_C - z_A}{z_B - z_A}\right| = \frac{AC}{AB} = 1$$

و لدينا: $\arg\left(\frac{z_C - z_A}{z_B - z_A}\right) = (\vec{AB}; \vec{AC}) = \frac{\pi}{2}$
و بالتالي: المثلث ABC قائم في A و متساوي الساقين.

a.2 تعيين طبيعة التحويل T وتحديد عناصره المميزة:

T مكتوب من الشكل $z' = az + b$ مع $a = i$ و $b = -1 - i$

بما أن $|a| = 1$ فإن: التحويل T دوران زاويته $\arg(i) = \frac{\pi}{2}$

و مركزه w ذات اللاحقة $z_w = -i$

b تعيين صورة النقطة B بالتحويل T:

لتكن B' ذات اللاحقة $z_{B'}$ صورة B بالتحويل T

$$\text{و عليه: } z_{B'} = iz_B - 1 - i = 2i - 3 - 1 - i = -4 + i$$

a.3 تبيان أن النقاط A، C و D في استقامة:

$$\text{لدينا: } \frac{z_C - z_A}{z_D - z_A} = \frac{-4+2i}{-6+3i} = \frac{2(-2+i)}{3(-2+i)} = \frac{2}{3}$$

$$\text{ومنه: } \vec{AC} = \frac{2}{3}\vec{AD} : z_C - z_A = \frac{2}{3}(z_D - z_A)$$

إذن: النقاط A، C و D في استقامة.

b تعيين نسبة التحاكي h الذي مركزه A و يحول C إلى D:

$$h(C) = D \text{ معناه: } z_D - z_A = k(z_C - z_A) \text{ حيث } k \text{ نسبة التحاكي } h$$

$$\text{ومنه: } k = \frac{z_D - z_A}{z_C - z_A} = \frac{3}{2}$$

a.3 تعيين العناصر المميزة للتشابه المباشر S:

$$S(B) = D \text{ معناه: } z_D - z_A = a(z_B - z_A) \text{ حيث } a \in \mathbb{C}^*$$

$$\text{و عليه: } a = \frac{z_D - z_A}{z_B - z_A} = \frac{3}{2}i$$

إذن: نسبة التشابه المباشر S هي $|a| = \frac{3}{2}$ و زاويته $\arg(a) = \frac{\pi}{2}$

بناء المفاهيم:

نفويهم

حل التمرين الثالث بكالوريا 2012 ع ت الموضوع الثاني