

المادة: رياضيات

الأستاذ: بلحري كمال



المؤسسة: سليمان جلول

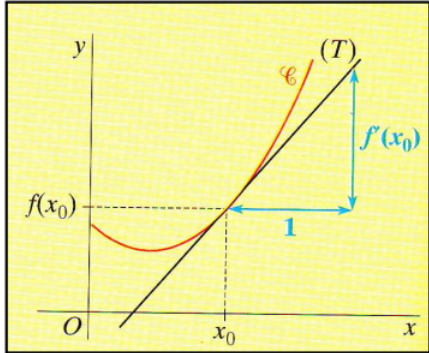
المستوى والشعبة: الثالثة علوم تجريبية

المحتوى المكرفي: الإشتاقية

الكفاءات المستهدفة: - العدد المشتق - تعيين معادلة المماس عند نقطة .

- سير الحصة

ملاحظات	المصحة	التفسير (الأنشطة المراهقة لكل مرحلة)	المرئج
مناقشة النشاط من طرف التلاميذ	د 10	<p>* التهيئة النفسيت: مناقشة النشاط 1 ص 40: 1 حساب الأعداد المشتقة: لدينا $f'(-1) = 0$ هو معامل توجيه المماس للمنحنى (C_f) عند النقطة ذات الفاصلة -1 نختار نقطتين من المماس مثلا: $A(-1; 2)$ و $B(-2; 2)$ و منه: $f'(-1) = \frac{2-2}{-1+2} = \frac{0}{1} = 0$ $g'(2) = \frac{2-1}{2-0} = \frac{1}{2} * \quad f'(2) = \frac{0-2}{2-0} = -1 * \quad g'(-1) = \frac{-1-0}{-1-2} = \frac{1}{3} *$ $(fg)'(2) = f'(2).g(2) + g'(2).f(2) = -2 * \quad (f+g)'(-1) = f'(-1) + g'(-1) = \frac{1}{3} *$ $(\frac{f}{g})'(2) = \frac{f'(2).g(2) - g'(2).f(2)}{[g(2)]^2} = -\frac{1}{2} * \quad (\frac{3}{f})'(-1) = -\frac{3f'(-1)}{[f'(-1)]^2} *$</p> <p>2 من أجل كل x من $[0; 2]$ نضع: $h(x) = f(2x - 1)$ - حساب $h'(0)$: لدينا: $h'(x) = 2f'(2x - 1)$ و منه: $h'(0) = 2f'(-1) = 0$ و $h'(\frac{3}{2}) = 2f'(2) = -2$</p> <p>1 العدد المشتق - الدالة المشتقة:</p>	<p>الإنطلاق:</p> <p>بناء المفاهيم:</p>
	د 15	<p>تعريف:  دالة معرفة على مجال I من \mathbb{R}. و x_0 و $x_0 + h$ عدنان حقيقيان من I مع: $h \neq 0$. نقول إن f تقبل الإشتقاق عند x_0 إذا قبلت النسبة $\frac{f(x_0+h)-f(x_0)}{h}$ نهاية محدودة لما يؤول h إلى 0. تسمى هذه النهاية: العدد المشتق للدالة f عند x_0 و نرمز لها ب: $f'(x_0)$. نكتب إذن: $f'(x_0) = \lim_{h \rightarrow 0} \frac{f(x_0+h) - f(x_0)}{h}$ أو نكتب: $f'(x_0) = \lim_{x \rightarrow x_0} \frac{f(x) - f(x_0)}{x - x_0}$ (بوضع $x = x_0 + h$)</p>	
		<p>ملاحظة: إذا قبلت الدالة f الإشتقاق عند كل عدد حقيقي x من المجال I فهي تقبل الإشتقاق على I و نرمز لدالتها المشتقة ب: f'. تطبيق (ت 01 ص 58): 1 التفسير البياني (مماس منحنى دالة):</p>	
		<p>تعريف و خاصية:  إذا قبلت الدالة f الإشتقاق عند x_0 فإن تمثيلها البياني يقبل في النقطة $A(x_0; f(x_0))$ مماسا معامل توجيهه $f'(x_0)$ ومعادلته هي: $y = f'(x_0)(x - x_0) + f(x_0)$</p>	

ملاحظات	المعدة	التعليق (الأنشطة المرافقة لحل مرحلة)	المرحلة
	د 10	 <p>المماس (T) هو عبارة عن مستقيم معامل توجيهه $f'(x_0)$ إذن : معادلة (T) من الشكل : $A(x_0; f(x_0))$ و النقطة $y = f'(x_0)x + b$ تنتمي إلى (T) . و منه بالتعويض ينتج : $b = f(x_0) - f'(x_0)x_0$ و بالتالي : $y = f'(x_0)(x - x_0) + f(x_0)$</p>	
	د 25	<p>مثال: دالة معرفة على \mathbb{R} بـ: $f(x) = x^2 + 2$ معادلة المماس لمنحنى f عند النقطة $x_0 = -1$ هي : $y = -2x + 1$ أي $y = f'(-1)(x - (-1)) + f(-1)$</p> <p>تمرين تطبيقي : أدرس قابلية اشتقاق الدوال التالية عند $x_0 = 1$ ، ثم فسّر النتيجة بيانياً . ① $f(x) = (x^2 - 2x + 3)^2$ ② $g(x) = \sqrt{x-1}$ ③ $h(x) = 2x x-1$</p>	

نقوم

حل التمرين 04 و 07 و 08 صفحات 58

المادة: رياضيات

الأستاذ: بلجيري كمال

المؤسسة: سليمان جلول

المستوى والشعبة: الثالثة علوم تجريبية

المحتوى المكرفي: الإستمرارية

الكفاءات المستهدفة: - دراسة إستمرارية دالة و سلوكها التقاربي .

- سير الحصة

ملاحظات	المصحة	التنبيه (الأنشطة المرادفة لكل مرحلة)	المرحلة
مناقشة النشاط من طرف التلاميذ	د 15	<p>* التهيئة النفسية: التذكير بمكتسبات السنة الماضية .</p> <p>نشاط:</p> <p>نعتبر الدالتان f و g المعرفتان على المجال $[-2; 2]$ كما يلي :</p> $g(x) = x + 1 \text{ و } \begin{cases} f(x) = x + 2 & x \in [-2; 0[\\ f(x) = x^2 + 1 & x \in [0; 2] \end{cases}$ <p>و ليكن (C_f) و (C_g) تمثيلهما البيانيين على الترتيب .</p> <p>① أنشيء في معلمين مختلفين (C_f) و (C_g) .</p> <p>② هل يمكنك إنشاء المنحنيين (C_f) و (C_g) بدون رفع القلم (اليد) ؟</p> <p>① الإستمرارية:</p> <p>التفسير البياني:</p> <p>تكون الدالة f مستمرة على مجال I عندما يمكن رسم منحناها البياني على هذا المجال دون رفع القلم (اليد)</p> <p>② خواص (قبل دون برهان):</p> <p>نقبل بأن كل الدوال المقررة في هذا المستوى و المحصل عليها بالعمليات على دوال مألوفة أو بتركيبها مستمرة على كل مجال من مجموعة تعريفها.</p>	الإطلاق:
	د 15	<p>نتائج:</p> <ul style="list-style-type: none"> الدوال المرجعية مستمرة على كل مجال من مجموعة تعريفها. الدوال كثيرات الحدود، \sin، \cos مستمرة على \mathbb{R} . الدوال الناطقة مستمرة على كل مجال من مجموعة تعريفها. 	بناء المفاهيم:
		<p>أمثلة:</p> <p>❖ الدالة $x \mapsto 2x^2 + 6x + 11$ ، مستمرة على \mathbb{R} .</p> <p>❖ الدالة $x \mapsto \frac{5x+6}{x^2-1}$ مستمرة على كل من المجالات $]-1; 1[$ و $]1; +\infty[$.</p> <p>تطبيق (ت 47 ص 29):</p>	

ملاحظات	المعدة	التفسير (النشأة المراهقة لكل مرحلة)	المراحل
	15 د	<p>تمرين تطبيقي :</p> <p>تكن f الدالة المعرفة على المجال $[-2; 3]$ بـ :</p> $\begin{cases} f(x) = x^2 + 2 & x \in [-2; 1[\\ f(x) = 2x - 1 & x \in [1; 3[\end{cases}$ <p>① مثل بيانيا الدالة f في معلم .</p> <p>② هل الدالة f مستمرة على المجال $[-2; 3]$ ؟ لماذا ؟</p> <p>③ اذكر مجالا تكون الدالة f مستمرة عليه .</p>	
	15 د		نقوم

حل التمرين 49 صفحة 29

المادة: رياضيات

الأستاذ: بلحري كمال

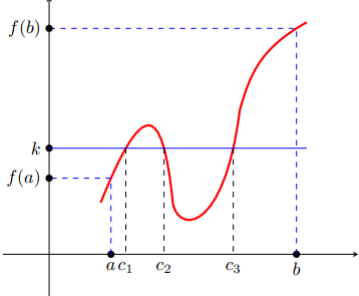
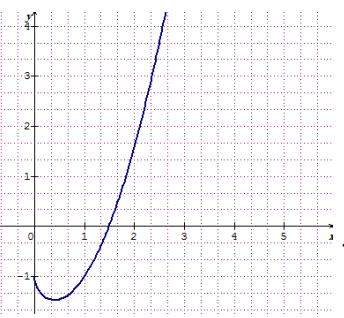
المؤسسة: سليمان جلول

المستوى والشعبة: الثالثة علوم تجريبية

المحتوى المعرفي: الإستمرارية

الكفاءات المستهدفة: - استعمال مبرهنة القيم المتوسطة لإثبات وجود حلول المعادلة $f(x) = k$ ، k عدد حقيقي معطى.

- سير الحصة

الملاحظات	الأمثلة	التفسير (الأشكال المرئية لكل مرحلة)	الأمثلة
مناقشة النشاط من طرف التلاميذ	د 20	<p>* التهيئة النفسية: نشاط 04 ص 07 : 1 مبرهنة القيم المتوسطة (نغبل دون برهان) :</p> <p>مبرهنة: f دالة معرفة و مستمرة $[a; b]$. من أجل كل عدد حقيقي k محصور بين $f(a)$ و $f(b)$ ، يوجد على الأقل عدد حقيقي c محصور بين a و b بحيث: $f(c) = k$</p> <p>2 التفسير الببائي :</p>  <p>الدالة f مستمرة على المجال $[a; b]$ ، من أجل كل عدد حقيقي k محصور بين $f(a)$ و $f(b)$ فإن : المستقيم (Δ) ذو المعادلة $y = k$ يقطع حتما منحنى الدالة على الأقل في نقطة . أي أن المعادلة $f(x) = k$ تقبل حلا على الأقل في المجال $[a; b]$</p> <p>حالة خاصة : إذا كانت f دالة مستمرة على مجال $[a; b]$ و كان $f(a) \times f(b) < 0$ (العدد 0 محصور بين $f(a)$ و $f(b)$) فإنه يوجد على الأقل عدد حقيقي c محصور بين a و b بحيث $f(c) = 0$ أي أن f تنعدم على الأقل مرة واحدة على $[a; b]$. 3 المعادلة $f(x) = k$:</p> <p>إذا كانت f دالة معرفة و مستمرة $[a; b]$ فإنه من أجل كل عدد حقيقي k محصور بين $f(a)$ و $f(b)$ ، المعادلة $f(x) = k$ تقبل حلا c محصور بين a و b .</p> <p>ملاحظة: مبرهنة القيم المتوسطة تؤكد فقط وجود حل على الأقل للمعادلة $f(x) = k$ أما تعيين الحلول أو قيم مقربة لها فيتم بإتباع خوارزميات مختلفة.</p> <p>مثال:</p>  <p>نعتبر f الدالة المعرفة على المجال $[0; +\infty[$ بـ: $f(x) = x^2 - \sqrt{x} - 1$. f دالة معرفة و مستمرة على $[0; +\infty[$ ولدينا $f(1) = -1$ و $f(2) = 3 - \sqrt{2}$ العدد 0 محصور بين $f(1)$ و $f(2)$ و منه: حسب مبرهنة القيم المتوسطة، المعادلة $f(x) = 0$ تقبل على الأقل حلا محصورا بين 1 و 2 .</p>	الإنتلاف: بناء المفاهيم:
	د 15		
	د 15		

ملاحظات	المعدة	النمبر (الأنشطة المرافقة لكل مرحلة)	المرحلة
	د 15	<p>طريقة: لإثبات وجود حلول معادلة على مجال $[a; b]$ باستعمال مبرهنة القيم المتوسطة نتبع الخطوات التالية:</p> <ul style="list-style-type: none"> • نكتب المعادلة على الشكل $f(x) = k$. • نتحقق من إستمرارية الدالة f على المجال $[a; b]$. • نتحقق من أن العدد k محصور بين $f(a)$ و $f(b)$. <p>تطبيق (ت 50 ص 29):</p> <p>الدوال المستمرة والرتيبة تماما على مجال $[a; b]$:</p> <p>مبرهنة: إذا كانت f مستمرة و رتيبة تماما على مجال $[a; b]$ فإنه من أجل كل عدد حقيقي k محصور بين $f(a)$ و $f(b)$ ، المعادلة $f(x) = k$ تقبل حلا وحيدا في المجال $[a; b]$.</p> <p>برهان:</p> <p>نفرض أن الدالة f مستمرة و رتيبة تماما على مجال $[a; b]$. و ليكن k عدد حقيقي محصور بين $f(a)$ و $f(b)$ ، و منه حسب مبرهنة القيم المتوسطة ، يوجد على الأقل عدد حقيقي c محصور بين a و b بحيث $f(c) = k$. لنفرض أنه يوجد عدد حقيقي آخر c' يختلف عن c ، محصور بين a و b و يحقق $f(c') = k$. يكون لدينا $c' \neq c$ و $f(c) = f(c')$ و هذا يناقض الرتبة التامة للدالة f على المجال $[a; b]$ و بالتالي يوجد عدد حقيقي وحيد c من $[a; b]$ بحيث $f(c) = k$ أي أن c هو الحل الوحيد للمعادلة $f(x) = k$.</p> <p>ملاحظة:</p> <p>تقبل المبرهنة السابقة عدة تمديدات في حالة دالة f مستمرة و رتيبة تماما على مجال I مفتوح أو مفتوح من إحدى الجهتين، محدود أو غير محدود.</p> <p>مثال:</p> <p>لتكن f الدالة المعرفة على $]-\infty; 2[$ بـ: $f(x) = \frac{x+3}{x-2}$. الدالة f مستمرة و متناقصة تماما على $]-\infty; 2[$ و لدينا: $\lim_{x \rightarrow -\infty} f(x) = 1$ و $\lim_{x \rightarrow 2^-} f(x) = -\infty$. إذن من أجل كل عدد حقيقي k من $]-\infty; 1[$ ، المعادلة $f(x) = k$ تقبل حلا وحيدا x_0 في المجال $]-\infty; 2[$.</p> <p>تمرين تطبيقي:</p> <p>نعتبر الدالة f المعرفة على المجال $[-2; 2]$ بـ: $f(x) = 2x^3 - 3x^2 - 1$.</p> <ol style="list-style-type: none"> ① أحسب $f'(x)$ ، ثم شكل جدول تغيرات الدالة f . ② بين أن المعادلة $f(x) = 0$ تقبل حلا وحيدا α في المجال $[1; 2]$. ③ أعط حصرًا بتقريب (سعته) 10^{-1} للعدد α . 	
	د 40		نقوم

حل التمرين 60 و 61 و 64 صفحة 31

المادة: رياضيات

الأستاذ: بلجري كمال

المؤسسة: سليمان جلول


المستوى والشعبة: الثالثة علوم تجريبية

المحتوى المكرفي: الإشتاقية

الكفاءات المستهدفة: - حساب مشتقات دوال مألوفة .

- سير الحصة

ملاحظات	المعدة	التفسير (الأشكال المألوفة لكل مرحلة)	أمر الجمل																								
			الإنتلاف:																								
			* التهيئة النفسية: المشتقات والعمليات: ① مشتقات دوال مألوفة:																								
	د 10	<table border="1"> <thead> <tr> <th>$f(x)$</th> <th>$f'(x)$</th> <th>مجالات قابلية الإشتقاق</th> </tr> </thead> <tbody> <tr> <td>k (حيث k ثابت حقيقي)</td> <td>0</td> <td>\mathbb{R}</td> </tr> <tr> <td>x</td> <td>1</td> <td>\mathbb{R}</td> </tr> <tr> <td>x^n ($n \in \mathbb{N}$ و $n \geq 2$)</td> <td>nx^{n-1}</td> <td>\mathbb{R}</td> </tr> <tr> <td>$\frac{1}{x}$</td> <td>$-\frac{1}{x^2}$</td> <td>$]0; +\infty[$ و $] -\infty; 0[$</td> </tr> <tr> <td>\sqrt{x}</td> <td>$\frac{1}{2\sqrt{x}}$</td> <td>$]0; +\infty[$</td> </tr> <tr> <td>$\cos x$</td> <td>$-\sin x$</td> <td>\mathbb{R}</td> </tr> <tr> <td>$\sin x$</td> <td>$\cos x$</td> <td>\mathbb{R}</td> </tr> </tbody> </table>	$f(x)$	$f'(x)$	مجالات قابلية الإشتقاق	k (حيث k ثابت حقيقي)	0	\mathbb{R}	x	1	\mathbb{R}	x^n ($n \in \mathbb{N}$ و $n \geq 2$)	nx^{n-1}	\mathbb{R}	$\frac{1}{x}$	$-\frac{1}{x^2}$	$]0; +\infty[$ و $] -\infty; 0[$	\sqrt{x}	$\frac{1}{2\sqrt{x}}$	$]0; +\infty[$	$\cos x$	$-\sin x$	\mathbb{R}	$\sin x$	$\cos x$	\mathbb{R}	بناء المفاهيم:
$f(x)$	$f'(x)$	مجالات قابلية الإشتقاق																									
k (حيث k ثابت حقيقي)	0	\mathbb{R}																									
x	1	\mathbb{R}																									
x^n ($n \in \mathbb{N}$ و $n \geq 2$)	nx^{n-1}	\mathbb{R}																									
$\frac{1}{x}$	$-\frac{1}{x^2}$	$]0; +\infty[$ و $] -\infty; 0[$																									
\sqrt{x}	$\frac{1}{2\sqrt{x}}$	$]0; +\infty[$																									
$\cos x$	$-\sin x$	\mathbb{R}																									
$\sin x$	$\cos x$	\mathbb{R}																									
التعرف على مشتقات الدوال المألوفة	د 15	<p>② المشتقات والعمليات على الدوال: النتائج ملخصة في الجدول التالي:</p> <table border="1"> <thead> <tr> <th>العملية</th> <th>الدالة المشتقة</th> <th>الشروط</th> </tr> </thead> <tbody> <tr> <td>مجموع دالتين</td> <td>$f + g$</td> <td>f' و g'</td> <td>f و g قابلتان للإشتقاق على I</td> </tr> <tr> <td>ضرب دالة بعدد حقيقي</td> <td>kf</td> <td>kf'</td> <td>f و g قابلتان للإشتقاق على I</td> </tr> <tr> <td>جداء دالتين</td> <td>fg</td> <td>$f'g + fg'$</td> <td>f و g قابلتان للإشتقاق على I</td> </tr> <tr> <td>مقلوب دالة</td> <td>$\frac{1}{f}$</td> <td>$-\frac{f'}{f^2}$</td> <td>f و g قابلتان للإشتقاق على I من أجل كل x من I: $f(x) \neq 0$</td> </tr> <tr> <td>حاصل قسمة دالتين</td> <td>$\frac{f}{g}$</td> <td>$\frac{f'g - fg'}{g^2}$</td> <td>f و g قابلتان للإشتقاق على I من أجل كل x من I: $g(x) \neq 0$</td> </tr> </tbody> </table>	العملية	الدالة المشتقة	الشروط	مجموع دالتين	$f + g$	f' و g'	f و g قابلتان للإشتقاق على I	ضرب دالة بعدد حقيقي	kf	kf'	f و g قابلتان للإشتقاق على I	جداء دالتين	fg	$f'g + fg'$	f و g قابلتان للإشتقاق على I	مقلوب دالة	$\frac{1}{f}$	$-\frac{f'}{f^2}$	f و g قابلتان للإشتقاق على I من أجل كل x من I : $f(x) \neq 0$	حاصل قسمة دالتين	$\frac{f}{g}$	$\frac{f'g - fg'}{g^2}$	f و g قابلتان للإشتقاق على I من أجل كل x من I : $g(x) \neq 0$		
العملية	الدالة المشتقة	الشروط																									
مجموع دالتين	$f + g$	f' و g'	f و g قابلتان للإشتقاق على I																								
ضرب دالة بعدد حقيقي	kf	kf'	f و g قابلتان للإشتقاق على I																								
جداء دالتين	fg	$f'g + fg'$	f و g قابلتان للإشتقاق على I																								
مقلوب دالة	$\frac{1}{f}$	$-\frac{f'}{f^2}$	f و g قابلتان للإشتقاق على I من أجل كل x من I : $f(x) \neq 0$																								
حاصل قسمة دالتين	$\frac{f}{g}$	$\frac{f'g - fg'}{g^2}$	f و g قابلتان للإشتقاق على I من أجل كل x من I : $g(x) \neq 0$																								
			نتائج: * الدوال كثيرات الحدود قابلة للإشتقاق على \mathbb{R} * الدوال الناطقة قابلة للإشتقاق على كل مجال محتوى في مجموعة تعريفها																								
			أمثلة: نعين مشتقة الدوال التالية المعرفة على $]0; +\infty[$ بـ:																								
			① $f(x) = x^4 - 2x^3 + \frac{1}{3}x^2 - 1$ ② $g(x) = (x-3)\sqrt{x}$ ③ $h(x) = \frac{x^2+1}{2x}$																								

ملاحظات	المعدة	التعليق (المراقبة المتواصلة مرحلة)	المراجع
		<p>3 المشنفات المتناجعة :</p> <p>المشفات المتناجعة : f دالة قابلة للإشتقاق على مجال مفتوح I من \mathbb{R} ، f' دالتها المشتقة على هذا المجال . \diamond إذا كانت f' قابلة للإشتقاق على المجال I فإن دالتها المشتقة (f') تسمى الدالة المشتقة الثانية للدالة f ويرمز لها بالرمز f'' أو $f^{(2)}$. وهكذا إذا كانت الدالة f قابلة للإشتقاق n مرة فإن دالتها المشتقة النونية يرمز لها بالرمز $f^{(n)}$</p> <p>مثال: لتكن الدالة f المعرفة على \mathbb{R} بـ : $f(x) = x^4 - 2x^3 + x - 1$ لدينا : $f'(x) = 4x^3 - 6x^2$ و $f''(x) = 12x^2 - 6$ و $f^{(3)}(x) = 24x$...</p> <p>4 الاشتقاق والاستمرارية :</p> <p>خاصية:  إذا كانت f قابلة للإشتقاق على مجال I فإنها مستمرة على هذا المجال .</p> <p>ملاحظة: عكس هذه الخاصية ليس صحيح دوما . مثلا: الدالة $f : x \mapsto x$ مستمرة عند 0 ولكن غير قابلة للإشتقاق عند 0 لأن : $\lim_{x \rightarrow 0^+} \frac{x-0}{x} = 1$ و $\lim_{x \rightarrow 0^-} \frac{-x-0}{x} = -1$ و منه : المشتق من اليمين لا يساوي المشتق من اليسار ($f'_d \neq f'_g$) إذن : f لا تقبل الإشتقاق عند 0 .</p>	
	د 10		
	د 25		

نقوم

حل التمرين 13 و 17 صفحة 59
حل التمرين 24 صفحة 60

المادة: رياضيات

الأستاذ: بلجري كمال

المؤسسة: ثانوية سليمان جلول
المستوى والشعبة: الثالثة علوم تجريبية
المحتوى المكرفي: الإشتاقية
الكفاءات المستهدفة: حساب مشتقة الدالة مركب .

- سير الحصة

الملاحظات	المعدة	التعبير (الأنشطة المبرهنات مراحل)	المراحل
مناقشة النشاط من طرف التلاميذ	10 د	<p>* التهيئة النفسية: التذكير بتفكيك دالة وتركيب دالة و مشتقات الدوال $x \mapsto f(ax + b)$</p> <p>نشاط:</p> <p>f و g دالتان عديتان معرفتان على R كمايلي : $f(x) = x^2 - 1$ و $g(x) = x + 3$.</p> <p>① عين عبارة الدالة $f \circ g$.</p> <p>② احسب $f'(x)$ ، $g'(x)$ و $(f \circ g)'(x)$.</p> <p>③ قارن بين $(f \circ g)'(x)$ و $g'(x)f'(g(x))$.</p> <p>مناقشة النشاط:</p> <p>① لدينا: $(f \circ g)(x) = f(g(x)) = f(x + 3)$. إذن : $f \circ g(x) = (x + 3)^2 - 1 = x^2 - 6x + 8$.</p> <p>② لدينا : $f'(x) = 2x$ و $g'(x) = 1$ و $(g \circ f)'(x) = 2x - 6$.</p> <p>③ المقارنة بين $(f \circ g)'(x)$ و $g'(x)f'(g(x))$: لدينا: $g'(x)f'(g(x)) = 1 \times f'(x + 3) = 1 \times [2(x + 3)] = 2x + 3$. ومنه : $(f \circ g)'(x) = g'(x)f'(g(x))$.</p> <p>مشكلة المراجعة:</p>	الإطلاق:
	10 د	<p>مبرهنة: إذا قبلت الدالة u الإشتقاق على المجال I من R ، وإذا قبلت الدالة v الإشتقاق على $u(I)$ فإن الدالة $v \circ u$ قابلة للإشتقاق على I ، ولدينا من أجل كل x من I : $[v(u(x))]'(x) = u'(x)v'(u(x))$</p> <p>مثال ①: لتكن الدالة العددية f المعرفة على R كمايلي: $f(x) = \sqrt{x^2 + 1}$. نضع : $u(x) = x^2 + 1$ و $v(x) = \sqrt{x}$. ومنه : $f(x) = (v \circ u)(x)$ و $[v(u(x))]'(x) = u'(x)v'(u(x))$. لدينا: $u'(x) = 2x$ و $v'(x) = \frac{1}{2\sqrt{x}}$. إذن: $f'(x) = 2x \cdot \frac{1}{2\sqrt{x^2 + 1}} = \frac{x}{\sqrt{x^2 + 1}}$.</p> <p>مثال ②: لتكن الدالة العددية g المعرفة على R كمايلي: $g(x) = \cos(3x^2 - 2)$. نضع : $u(x) = 3x^2 - 2$ و $v(x) = \cos x$. ومنه : $f(x) = (v \circ u)(x)$ و $[v(u(x))]'(x) = u'(x)v'(u(x))$. لدينا: $u'(x) = 6x$ و $v'(x) = -\sin x$. إذن: $f'(x) = 6x(-\sin(3x^2 - 2))$.</p>	بناء المفاهيم

ملاحظات	المعدة	التفسير (الاشارة المرادفة لكل مرادفة)	المراجع
		<p>نظيقات:</p> <p>1/ مشتقة الجذر $x \mapsto \sqrt{u(x)}$</p> <p>مبرهنة: إذا كانت الدالة u قابلة للإشتقاق على المجال I من \mathbb{R} وكانت u موجبة تماما على I فإن الدالة \sqrt{u} قابلة للإشتقاق على I ، ولدينا من أجل كل x من I :</p> $[\sqrt{u(x)}]' = \frac{u'(x)}{2\sqrt{u(x)}}$ <p>برهان:</p> <p>مثال : لتكن f الدالة العددية المعرفة ع \mathbb{R} بـ: $f(x) = \sqrt{x^2 - 2x + 5}$. لدينا: $f'(x) = \frac{2x - 2}{2\sqrt{x^2 - 2x + 5}} = \frac{x - 1}{\sqrt{x^2 - 2x + 5}}$</p> <p>2/ مشتقة الجذر $x \mapsto [u(x)]^n$</p> <p>مبرهنة: n عدد طبيعي غير معدوم ويختلف عن 1 ، إذا كانت الدالة u قابلة للإشتقاق على المجال I من \mathbb{R} فان الدالة u^n قابلة للإشتقاق على I ولدينا من أجل كل x من I :</p> $(u^n)'(x) = nu'(x)[u(x)]^{n-1}$ <p>برهان:</p> <p>مثال : لتكن f الدالة العددية المعرفة ع \mathbb{R} كمايلي : $f(x) = (x^2 - 3)^4$. لدينا: $f'(x) = 4 \cdot 2x(x^2 - 3)^3 = 8x(x^2 - 3)^3$ أي $f'(x) = 4 \cdot 2x(x^2 - 3)^3$</p> <p>3/ مشتقة الجذر $x \mapsto \frac{1}{[u(x)]^n}$ ($n \in \mathbb{N}^*$)</p> <p>مبرهنة: إذ كانت u دالة قابلة للإشتقاق على مجال I من \mathbb{R} وكانت u لا تنعدم على I فإن الدالة $\frac{1}{u^n}$ قابلة للإشتقاق على I ولدينا من أجل كل x من I :</p> $\left[\frac{1}{u^n}\right]'(x) = -\frac{nu'(x)}{[u(x)]^{n+1}}$ <p>برهان:</p> <p>مثال : لتكن f الدالة العددية المعرفة على \mathbb{R} كمايلي : $f(x) = \frac{1}{(x^2 + 3)^3}$. لدينا: $f'(x) = -\frac{6x}{(x^2 + 3)^4}$</p>	
	د 10		
	د 10		
	د 10		
	د 10		
	د 10		

التقويم

حل التمرين 78 صفحة 66

حل التمرين 40 صفحة 61

المادة: رياضيات

الأستاذ: بلحري كمال

المؤسسة: سليمان جلول

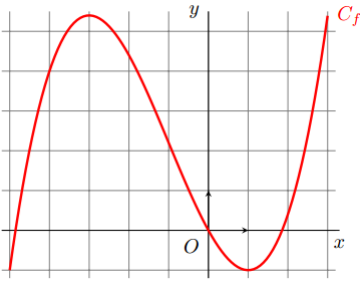
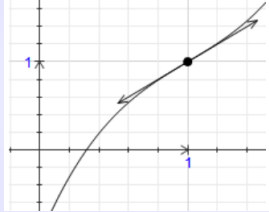
المستوى والشعبة: الثالثة علوم تجريبية

المحتوى المكرفي: الإشتقاقية

الكفاءات المستهدفة: - استعمال المشتقات لدراسة خواص دالة والمنحنى المثل لها .

- سير الحصة

ملاحظات	المصحة	التفسير (الأنشطة المراهقة لكل مرحلة)	المرحلة												
مناقشة النشاط من طرف التلاميذ	10 د	<p>* التهيئة النفسية: نشاط:</p> <p>يمثل الشكلان (٤م) و (٥م) جانبه على التوالي منحنى دالة f و دالتها المشتقة f'</p> <p>1 أتم ملء الجدول التالي:</p> <table border="1"> <thead> <tr> <th>المجال</th> <th>إشارة الدالة المشتقة f'</th> <th>تغيرات الدالة f</th> </tr> </thead> <tbody> <tr> <td>$I =]-2, 0[$</td> <td></td> <td></td> </tr> <tr> <td>$J =]0, 1[$</td> <td></td> <td></td> </tr> <tr> <td>$K =]1, 3[$</td> <td></td> <td></td> </tr> </tbody> </table> <p>2 ذكر بالخاصية التي تربط إشارة الدالة f' بتغيرات الدالة f</p> <p>أجابه بغير رسالة: 1 المشقة وانجاه تغير دالة:</p>	المجال	إشارة الدالة المشتقة f'	تغيرات الدالة f	$I =]-2, 0[$			$J =]0, 1[$			$K =]1, 3[$			الإنتلاق:
المجال	إشارة الدالة المشتقة f'	تغيرات الدالة f													
$I =]-2, 0[$															
$J =]0, 1[$															
$K =]1, 3[$															
	10 د	<p>مبرهنه (نقبل دون برهان): f دالة قابلة للإشتقاق على مجال I من \mathbb{R}</p> <p>* إذا كان من أجل كل x من I ، $f'(x) > 0$ ، ما عدا ممكن من أجل عدد محدود من القيم التي تنعدم الدالة f من أجلها ، فإن : الدالة f متزايدة تماما على I .</p> <p>* إذا كان من أجل كل x من I ، $f'(x) < 0$ ، ما عدا ممكن من أجل عدد محدود من القيم التي تنعدم الدالة f من أجلها ، فإن : الدالة f متناقصة تماما على I .</p> <p>* إذا كان من أجل كل x من I ، $f'(x) = 0$ ، فإن : الدالة f ثابتة على I .</p> <p>مثال: لتكن الدالة f المعرفة على \mathbb{R} بـ : $f(x) = x^3$ f قابلة للإشتقاق على \mathbb{R} و لدينا : $f'(x) = 3x^2$ ومنه من أجل كل x من \mathbb{R}^+ : $f'(x) > 0$ و $f'(0) = 0$ إذن : f متزايدة تماما على \mathbb{R} . 2 القيم الحدية المحلية:</p>	بناء المفاهيم:												
	10 د	<p>تعريف:</p> <p>f دالة معرفة على مجال I من \mathbb{R} و x_0 عدد حقيقي من I .</p> <ul style="list-style-type: none"> • قيمة حدية محلية عظمى للدالة يعني أنه يوجد مجال مفتوح J محتوي في I ويشمل x_0 بحيث من أجل كل x من J ، $f(x) \leq f(x_0)$. • قيمة حدية محلية صغرى للدالة يعني أنه يوجد مجال مفتوح J محتوي في I ويشمل x_0 بحيث من أجل كل x من J ، $f(x) \geq f(x_0)$. • $f(x_0)$ قيمة حدية محلية للدالة يعني أن $f(x_0)$ قيمة حدية محلية عظمى أو صغرى 													

ملاحظات	المعدة	التمرين (المراقبة الفصلية)	المراجعات
	5 د	<p>مثال :</p>  <p>f الدالة المعرفة على المجال $[-4; 4]$ $f(x) = \frac{1}{5}(x^3 + 3x^2 - 9x)$ بـ: تمثيلها موضع في الشكل المقابل . نلاحظ أن : $\frac{27}{5}$ هي قيمة حدية محلية عظمى للدالة عند $x = -3$ و -1 قيمة حدية محلية صغرى للدالة عند $x = 1$</p>	
		<p>مبرهنه (نقل دون برهان) : f دالة قابلة للإشتقاق على مجال مفتوح I من \mathbb{R} و x_0 عدد حقيقي من I . إذا انعدمت الدالة المشتقة f' عند x_0 مغيرة إشارتها فإن: $f(x_0)$ قيمة حدية محلية للدالة f .</p>	
		<p>ملاحظات :</p> <p>1 النقطة $(x_0; f(x_0))$ تسمى نقطة حدية (ذروة) و المماس عند هذه النقطة يكون مواز لحامل محور الفواصل معادلته هي : $y = f(x_0)$</p> <p>2 إذا قبلت f قيمة حدية محلية عند x_0 فإن : $f'(x_0) = 0$</p> <p>تمرين تطبيقي :</p> <p>أدرس إتجاه تغير الدوال التالية و عين القيم الحدية المحلية إن وجدت :</p> <p>1 $f(x) = -x^4 + 2x^2 + 1$ 2 $g(x) = \frac{1}{2}x^2 + x + \frac{4}{x-2}$ 3 $k(x) = (2x-3)\sqrt{x}$ 4 $h(x) = \sqrt{x^3+1}$</p> <p>5 نقطة انعطاف منحنى :</p>	
مناقشة التطبيق من طرف التلاميذ	15 د	<p>تعريف :</p>  <p>نقطة الإنعطاف هي النقطة التي يخرق فيها المماس المنحنى البياني .</p>	
	10 د	<p>مبرهنه : f دالة قابلة للإشتقاق مرتين على مجال مفتوح يشمل x_0 * إذا انعدمت المشتقة الثانية f'' عند x_0 مغيرة إشارتها فإن النقطة التي إحداثياتها $(x_0; f(x_0))$ تسمى : نقطة إنعطاف لمنحنى الدالة f .</p>	
	10 د	<p>مثال :</p> <p>f دالة معرفة على \mathbb{R} بـ : $f(x) = x^3 - 3x^2 + 1$ * لنبين أن منحنى الدالة f يقبل نقطة إنعطاف</p> <p>ملاحظة :</p> <p>إذا انعدمت f' عند x_0 و لا تغير من إشارتها بجوار x_0 فإن النقطة التي إحداثياتها $(x_0; f(x_0))$ تسمى : نقطة إنعطاف لمنحنى الدالة f .</p> <p>مثلا : الدالة $x \mapsto x^3$ مشتقتها الأولى تنعدم و لا تغير إشارتها بجوار $x_0 = 0$.</p> <p>حل التمرين 67 ص 64 و 70 ص 65</p>	نقوم
			ملاحظات عامة حول الحصص:


المادة: رياضيات



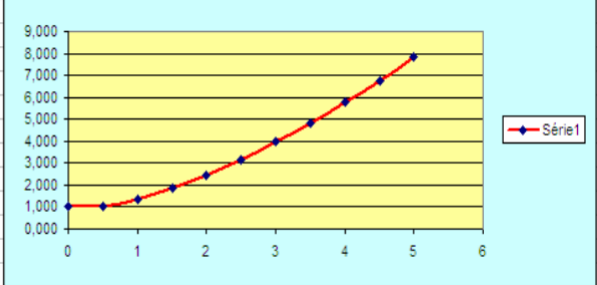
الأستاذ: بلحري كمال

المؤسسة: سليمان جلول
المستوى والشعبة: الثالثة علوم تجريبية
المحتوى المعرفي: الإشتقاقية

الكفاءات المستهدفة: - استعمال المشتقات لدراسة خواص دالة أو المنحنى الممثل لها (التغيرات ، التقريب الخطي ، ...) .

- سير الحصة

الملاحظات	المهمة	التعليق (الأرشطة المرادفة لكل مرحلة)	المرحلة
		<p>* التهيئة النفسية: التذكير بأحسن تقريب تآلفي لدالة بجوار عدد حقيقي x_0 .</p> <p>التقريب التآلفي:</p> <p>خاصية: </p> <p>f دالة معرفة على مجال مفتوح I من \mathbb{R}</p> <p>إذا قبلت الدالة f الإشتقاق عند العدد x_0 من I فإنه توجد دالة ε بحيث من أجل كل عدد حقيقي h حيث $x_0 + h$ ينتمي إلى I لدينا: $f(x_0 + h) = f(x_0) + hf'(x_0) + h\varepsilon(h)$</p> <p>مع $\lim_{h \rightarrow 0} \varepsilon(h) = 0$.</p> <p>من أجل h قريب من 0 نكتب : $f(x_0 + h) \simeq f(x_0) + hf'(x_0)$.</p> <p>ونسمي $f(x_0) + hf'(x_0)$ التقريب التآلفي لـ $f(x_0 + h)$ من أجل h قريب من 0 .</p>	<p>الإنتلاق:</p>
	10 د	<p>برهان:</p> <p>ليكن x_0 من I و لدينا f قابلة للإشتقاق عند x_0</p> <p>ومنه : $\lim_{h \rightarrow 0} \frac{f(x_0 + h) - f(x_0)}{h} = f'(x_0)$</p> <p>بوضع $\varepsilon(h) = \frac{f(x_0 + h) - f(x_0)}{h} - f'(x_0)$</p> <p>يكون لدينا : $\lim_{h \rightarrow 0} \varepsilon(h) = f'(x_0) - f'(x_0) = 0$</p> <p>إذن : $\frac{f(x_0 + h) - f(x_0)}{h} = \varepsilon(h) + f'(x_0)$</p> <p>ومنه : $f(x_0 + h) = f(x_0) + hf'(x_0) + h\varepsilon(h)$</p> <p>مثال : f الدالة العددية المعرفة على \mathbb{R} بـ: $f(x) = \frac{x-2}{x^2+1}$</p> <p>♦ باستعمال تقريب تآلفي للدالة f لنحسب قيمة مقربة إلى 10^{-2} للعدد $f(1.0001)$:</p> <p>لدينا: $f'(x) = \frac{-x^2 + 4x + 1}{(x^2 + 1)^2}$ ، $f(1) = -\frac{1}{2}$ و $f'(1) = 1$</p> <p>ومنه : $f(1.0001) = f(1 + 0.0001) \simeq f(1) + 0.0001f'(1)$</p> <p>إذن : $f(1.0001) \simeq -0.50$</p>	<p>بناء المفاهيم:</p>
	10 د	<p>ملاحظة :</p> <p>❖ نضع : $x = x_0 + h$ أحسن تقريب تآلفي للدالة f يصبح</p> <p>كالتالي : $f(x) \simeq f'(x_0)(x - x_0) + f(x_0)$.</p> <p>مثال : أحسن تقريب تآلفي للدالة $x \mapsto \sqrt{x+1}$ بجوار 0 هي الدالة التآلفية $\frac{1}{2}x + 1$</p> <p>و نكتب : $\sqrt{x+1} \approx \frac{1}{2}x + 1$ بجوار 0</p>	

ملاحظات	المدة	التفسير (الأنشطة المراهقة لحل مسألة)	المراجع																								
		<p>طريقة أولر: </p> <p>f دالة عددية معرفة على مجال I من \mathbb{R} دالتها المشتقة f' و $f(x_0) = y_0$.</p> <p>تسمح طريقة أولر بإنشاء تمثيلات بيانية تقريبية للدالة f باتباع الخطوات التالية :</p> <ul style="list-style-type: none"> نعلم النقطة $A_0(x_0, y_0)$ ثم نستعمل التقريبات التآلفية بأخذ خطوة h. نضع: $x_1 = x_0 + h$ ومنه $y_1 = f(x_1) = f(x_0 + h)$. ولكن: $f(x_0 + h) \simeq f(x_0) + hf'(x_0)$ وهكذا نكون قد عينا النقطة $A_1(x_1; y_1)$. نضع $x_2 = x_1 + h$ إذن: $y_2 = f(x_2) = f(x_1 + h)$. و $f(x_1 + h) \simeq f(x_1) + hf'(x_1)$ ثم نعلم النقطة الثالثة $A_2(x_2; y_2)$. وهكذا نعلم بعض النقاط ثم نصل بينها فتتوصل على تمثيل بياني تقريبي للدالة f. 																									
	15 د	<p>تمرين تطبيقي:</p> <p>أنشئ منحى تقريبي بطريقة أولر للدالة f على المجال $[1; 2]$</p> <p>حيث: $f(1) = 1$ و $f'(x) = 2x$</p>																									
		<p>طريقة: </p> <p>لتعين قيمة مقربة لـ $f(x_0 + h)$ نستعمل التقريب :</p> <p>$f(x_0 + h) \simeq f(x_0) + hf'(x_0)$ حيث h قريب من الصفر.</p>																									
		<p>الحل:</p> <p>نختار مثلا الخطوة $h = 0.1$ ونقوم بمسح المجال $[1; 2]$</p> <p>لدينا مثلا: $f(1.1) \simeq f(1) + 0.1f'(1) \simeq 1.20$</p> <p>و تتبع نفس الطريقة .</p>																									
		<p>حل التمرين 02 صفحة 51 .</p> <p>إنشاء تمثيل بياني للدالة f على المجال $[0; 5]$</p> <p>حيث: $f(0) = 1$ و $f'(x) = \sqrt{x}$</p> <p>الخطوة هي $h = 0.5$</p> <p>لدينا: $f(0.5) \simeq f(0) + 0.5f'(0) \simeq 1$</p> <p>و لدينا: $f(1) \simeq f(0.5) + 0.5f'(0.5) \simeq 1 + 0.5\sqrt{0.5} \simeq 1.354$</p> <p>نواصل بنفس الطريقة ونلخص النتائج في الجدول الموالي :</p>																									
	25 د	<table border="1"> <thead> <tr> <th>x</th> <th>f(x)</th> </tr> </thead> <tbody> <tr><td>0</td><td>1,000</td></tr> <tr><td>0,5</td><td>1,000</td></tr> <tr><td>1</td><td>1,354</td></tr> <tr><td>1,5</td><td>1,854</td></tr> <tr><td>2</td><td>2,466</td></tr> <tr><td>2,5</td><td>3,173</td></tr> <tr><td>3</td><td>3,964</td></tr> <tr><td>3,5</td><td>4,830</td></tr> <tr><td>4</td><td>5,765</td></tr> <tr><td>4,5</td><td>6,765</td></tr> <tr><td>5</td><td>7,826</td></tr> </tbody> </table> 	x	f(x)	0	1,000	0,5	1,000	1	1,354	1,5	1,854	2	2,466	2,5	3,173	3	3,964	3,5	4,830	4	5,765	4,5	6,765	5	7,826	
x	f(x)																										
0	1,000																										
0,5	1,000																										
1	1,354																										
1,5	1,854																										
2	2,466																										
2,5	3,173																										
3	3,964																										
3,5	4,830																										
4	5,765																										
4,5	6,765																										
5	7,826																										
			نقوم																								

مناقشة
التطبيق من
طرف التلاميذ